

2020 年安徽省高校毕业生“三支一扶”

计划招募考试

《职业能力测试》模拟卷

重要提示：

为维护您的个人权益，确保考试的公平公正，请您协助我们监督考试实施工作。

本场考试规定：监考老师要向本考场全体考生展示题本密封情况，并邀请2名考生代表验封签字后，方能开启试卷袋。

条形码
粘贴处

请将此条形码揭下，
贴在答题卡指定位置

第一部分 数量关系

(共 15 题, 参考时限 15 分钟)

在这部分试题中, 每道题呈现一段表述数字关系的文字, 要求你迅速、准确地计算出答案。

请开始答题:

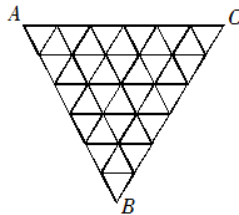
- 李森在一次村委会选举中, 需 $\frac{2}{3}$ 的选票才能当选, 当统计完 $\frac{3}{5}$ 的选票时, 他得到的选票数已达到当选票数的 $\frac{3}{4}$, 他还需要得到剩下选票的几分之几才能当选?
 A. $\frac{7}{10}$ B. $\frac{8}{11}$ C. $\frac{5}{12}$ D. $\frac{3}{10}$
- 一对父子在操场上跑步晨练, 儿子跑三步的时间父亲跑两步, 父亲跑一步的距离是儿子一步的两倍, 儿子跑出 100 步后父亲开始追, 当父亲追上儿子时, 儿子共跑出了多少步?
 A.200 B.300 C.400 D.500
- 一个高为 40 厘米、直径为 6 厘米的空心圆桶, 放入半径为 2 厘米的小铁球。如果铁球不能露出圆桶, 最多能放多少个?
 A.10 B.11 C.12 D.13
- 买 5 件甲商品和 3 件乙商品, 需要 348 元, 如果买 3 件甲商品和 2 件乙商品, 需要 216 元, 买一件甲商品需要多少元?
 A.48 B.46 C.34 D.32
- 某班级共有 50 名学生, 某次考试后发现, 所考的三门课程得分优秀率分别为 10%、20% 和 16%, 三门不及格率分别为 12%、18% 和 10%。问如果在该班任选一名学生, 其至少有一门课程得分优秀且至少有一门课程不及格的最大概率为多少?
 A.20% B.16% C.46% D.40%

6. 一瓶碳酸饮料，一次喝掉饮料 $\frac{1}{3}$ 后，连瓶共重 600 克，如果喝掉饮料 $\frac{1}{2}$ 后，连瓶共重 500 克，如果只喝掉饮料 $\frac{1}{4}$ 后，那么连瓶共重多少克？
- A.620 B.650 C.666 D.680
7. 某人要从 A 市经 B 市至 C 市。从 A 市至 B 市的列车从早上 8 点起每 30 分钟一班，全程行驶 1 小时；从 B 市到 C 市的列车从早上 9 点起每 40 分钟一班，全程行驶 1 小时 30 分。在 B 市火车站换乘需用时 15 分钟。如果想在出发当天中午 12 点前到达 C 市，问他有几种不同的乘车方式？
- A.3 B.2 C.5 D.4
8. 一个长方体的长、宽、高恰好是三个连续的自然数，并且它的体积数值等于它的所有棱长之和的 2 倍，那么这个长方体的表面积是多少？
- A.74 B.148 C.150 D.154
9. 有 A、B、C 三种浓度不同的盐溶液。若取等量的 A、B 两种盐溶液混合，则得浓度为 17% 的盐溶液；若取等量的 B、C 两种盐溶液混合，则得浓度为 23% 的盐溶液；若取等量的 A、B、C 三种盐溶液混合，得到浓度为 18% 的盐溶液，则 B 盐溶液的浓度是：
- A.21% B.22% C.26% D.37%
10. 某商店进了 5 件工艺品甲和 4 件工艺品乙。如将甲加价 110%，乙加价 90% 出售，利润为 302 元；如将乙加价 110%，甲加价 90% 出售，利润为 298 元。则甲的进价为每件多少元？
- A.14 B.32 C.35 D.62.5
11. 某牧民饲养公羊和母羊共 140 只，一次共剪羊毛 160 斤。若每只公羊平均剪毛 1 斤 2 两，每只母羊平均剪毛 8 两，问公羊比母羊多多少只？
- A.120 B.100 C.80 D.75

12. 假设空气质量可按良好、轻度污染和重度污染三类划分。一环境监测单位在某段时间对 63 个城市的空气质量进行了监测，结果表明：空气质量良好城市数是重度污染城市数的 3 倍还多 3 个，轻度污染城市数是重度污染城市数的 2 倍。那么，空气质量良好的城市个数是：

A.33 B.31 C.23 D.27

13. 如图，某三角形展览馆由 36 个正三角形展室组成，每两个相邻展室（指有公共边的小三角形）都有门相通，若某参观者不愿返回已参观过的展室，那么他至多能参观多少个展室？



A.30 个 B.31 个 C.32 个 D.33 个

14. 某火车站有一、二、三号三个售票窗口，某天一号以外的窗口卖出了 746 张票，二号以外的窗口卖出了 726 张票，三号以外的窗口卖出了 700 张票。问当天该站共售车票多少张？

A.1086 B.988 C.986 D.980

15. 某条道路安装了 60 盏功率相同的路灯，如将其中 24 盏的灯泡换为 200 瓦的节能灯泡，则所有路灯的耗电量将比之前节约 20%。如将所有灯的灯泡换为 150 瓦的节能灯泡，则耗电量能比之前节约多少？

A.62.5% B.50% C.75% D.64%

※※※第一部分结束，请继续做第二部分！※※※

第二部分 言语理解与表达

(共 25 题, 参考时限 20 分钟)

本部分包括表达与理解两方面的内容。请根据题目要求, 在四个选项中选出一个最恰当的答案。

请开始答题:

16. 天津曾在过往的岁月中被划分成不同的区域, 区域间的冲突主要来自于恪守传统的老城区和异常西化的租界区, 这也是天津和上海的不同之处。上海的一些棚户区和洋房_____ , 但天津的老城区和租界地却_____。

填入划横线部分最恰当的一项是:

- A. 鳞次栉比 顾此失彼 B. 比肩而立 泾渭分明
C. 相安无事 危机四伏 D. 水乳交融 格格不入

17. 毫无疑问, 真正的批评家应该拥有的是_____ 的内心和不带任何偏见的眼睛。除了来自自身灵魂深处和纯粹学术性的_____ 之外, 不该成为任何权势或利益集团的代言人和施惠者的吹鼓手。

填入划横线部分最恰当的一项是:

- A. 纯净 判断 B. 平静 结论
C. 强大 分析 D. 成熟 观察

18. 书店应当想方设法降低书价或改善服务, 让读者_____ 地掏钱, 而不是_____ , 指责消费者说, 我们费了这么大心思, 你怎么还是跑去网上买书, 太不道德了!

填入划横线部分最恰当的一项是:

- A. 真心诚意 悲天悯人 B. 心悦诚服 自怨自艾
C. 心甘情愿 怨天尤人 D. 慷慨解囊 自说自话

⑤活跃的商贸活动为该地区居民带来巨大财富,进而为该文明发展提供了必要的物质基础

⑥考古发掘和古物研究证实,基克拉底文明是爱琴海上最古老的文明

将以上6个句子重新排列,语序正确的是:

A.⑥②⑤③④①

B.②⑥③④①⑤

C.②⑤⑥③①④

D.⑥④②③⑤①

27. “笔墨当随时代。”_____。时代主题的转换要求文艺面对生活调整自身的姿态。随着时代主题从战争与革命向和平与发展转换,文艺的斗争思维向和谐思维转型也就成为历史的要求。

填入划横线部分最恰当的一句是:

A.只有与时代同步伐,文艺才具有蓬勃的生命力

B.文艺的思维方式不可避免地要受到时代生活的影响

C.任何一个历史时期都会带来文艺产业的发展与进步

D.时代主题往往是特定时代的反映,是政治思想的凝集

28. 人类的平均寿命越来越长,但是人类所观察到的癌症发生率也越来越高。在分析这种趋势的时候,很多人会把它归结为现代食物的品质越来越差。于是时不时有人发出“某某食物致癌”的言论,总能吸引一堆眼球;如果指出这种“致癌的食物”跟现代技术有关,_____。

填入划横线部分最恰当的一句是:

A.那就更容易得到公众的普遍认同

B.那就应该分析其关联性到底有多大

C.那也不能作为反对现代技术的理由

D.那么据此得出的结论就往往只是初步的

29. 下列各句中，没有语病的一项为：

- A. 由于他 1 米 90 的身高，顺利获得了进入学校篮球队的资格。
- B. 6 月 29 日，澳门国际机场专营股份有限公司联同体育发展局举行“舞动全城欢呼奥运”，以健身操的方式迎接北京奥运会到来。
- C. 当然，知识分子中也有进步分子，他们努力于和平运动，对新中国的和平劳动的人民，抱着很大的好感和敬意。
- D. 不管你在一次又一次的智力竞赛中名落孙山，但在某一方面，你也许可以发挥你独有的、奇迹般的创造力，使生活充满无尽的乐趣。

30. 下列各句中，加点的成语使用恰当的一项是：

- A. 这件事对我无异于晴天霹雳——一块珍藏多年价值连城的璧玉，此刻变成一块一文不名的瓦片。
- B. 这一贪污腐败的分子被纪检机关挖出之后，该利益链条背后的一系列同案人物纷纷呼之欲出，等待他们的只能是法律的严厉制裁。
- C. 谜语要求创作者能大胆突破思维方式，另辟蹊径，充分运用汉字的音、形、义等多种变化创造新的语境，成就别出心裁的佳作。
- D. 雾霾的形成非一日之祸，治理雾霾也不会是一挥而就之事，因此，人们对于治霾要有清醒的认识，偏激之词无助于问题的解决。

31. 德国人在中国人心中的形象可谓已经超凡脱俗。中文网上流传的各种帖子说：青岛地下水道存有百年前的配件包，而且都用油纸妥善包好；德国人一年只有一半时间在工作，依然能够保证强劲的经济实力……而德国自己的报纸《南德意志报》则惊叹“德国在中国被‘神话’了”。报道称，青岛地下水道的完备，德国人对其所作贡献不过 3%。“德国制造”确实在当今世界赢得了相当高的美誉度，但其实在 19 世纪的时候，“德国制造”还是一个贬义词，代表廉价与质量差。后来，德国人齐心协力打造“德国制造”的品质，才扭转了在人们心中的印象。

最适合做这段文字标题的是：

- A.中国，不用妄自菲薄
B.钦佩，要适可而止
C.德国，一个值得敬佩的国家
D.赞赏，当在真实基础之上

32. 从羊皮纸、竹简到纸张、活字印刷术的发明，从摩尔斯电码、二进制代码到影像的数字化，文化产品的载体越来越轻盈，精神产品的传播也越来越迅捷。特别是互联网的发明和应用，打破了文化内容传播的时空界限，让文字、视频、音乐可以在瞬间传到地球上的任何一个角落。同时，借助科技创新的种种新工具，人们可以以更快捷的速度，制作精彩纷呈的动漫游戏、数字影视、手机报纸、网络出版、有声读物等等，并由此创造出一个个全新的文化产业。

这段文字主要说明了：

- A.文化的进步包含科技的发展和创新
B.科技创新使文化创新的潜力变得无穷
C.科技创新大大推进了文化创新的进程
D.科技创新为文化创新提供了工具和载体

33. 有科学实验表明，大多数人并没有同时处理多项任务的能力。只要一上网，人们的工作记忆就会严重超载，导致大脑额叶难以聚精会神地关注任何一件小事。同时，由于神经通路具有可塑性，上网越多，对大脑适应精力分散状态的训练就越多。这也是为什么习惯上网的人，只要离开互联网，就会感到无所适从，大脑的全面发展要求我们既能迅速解析各种信息，又能无拘无束地沉思冥想；既要能在互联网数字世界中积极工作，又要能隐退到田园中静思遐想。今天的问题在于，我们正在丧失在两种截然不同的思想状态之间保持平衡的能力。

根据上述文字，下列说法正确的一项是：

- A.网络限制了人类大脑的全面发展能力
B.网络使人们处理多项任务的能力衰退
C.上网会使人的记忆力下降，精力分散
D.人类原本具备自由转换思想状态的能力

34. 世界上还没有包治百病的万应丹。平常所谓良药，用之得法固然可以起沉痾，但用之不得法也许会杀人。泰戈尔劝人少读书。他对于东方的文艺，虽然洞见症结，对准了毛病发药，可是说给现在的中国人听，实在像煎了一剂催命汤。新中国诚然有许多地方用得着外国朋友的指导，可是不读书那一层是已经无须劝驾的了。

作者这段话主要想表达的观点是：

- A. 新中国的发展需要外国朋友的指导
 - B. 现在的中国人本就读书少，不应如泰戈尔所劝少读书
 - C. 泰戈尔对于东方的文艺可谓洞见症结，对准了毛病发药
 - D. 世界上没有包治百病的万应丹
35. 近年来，食品安全问题不断成为社会焦点，民众的心理预设也随之发生了根本性改变。从前人们默认食物是安全的，不安全的食物乃异类，非充足证据而不轻信；而现在，很多人默认食物是危险的，任何人说“某物含毒”，都极易引起共鸣。一种“反权威”的立场，使得官方鉴定机构处境尴尬，民众不再信任乃至排斥其履职。但在民间鉴定发育不彰的环境下，那种“高傲的不信任”奢侈且危险。

这段文字意在强调：

- A. 食品安全问题亟须得到有效解决
 - B. 出台完善的食品安全保障法刻不容缓
 - C. 重新建立民众对食品安全的信心至关重要
 - D. 食品安全保障部门应切实担起保障食品安全的责任
36. 一些领导干部未能适应网络社会条件下对执政能力提出的新形势新要求，面对BBS、新闻跟帖、博客和个人网页、微博、网络社会、博客微视频等等新媒体的涌现，无所适从。从“日记门”、“开房门”到“艳照门”，从“官二代”、“萝卜招聘”到“拆迁冲突”，从“微笑局长”、“表哥”、“表叔”到“房叔”，这一系列“网络（微博）反腐”都表明，一些领导干部缺乏自律，出言不慎，行为失范，在网络虚拟空间中爆炸式的传播下，损害了党和人民群众的血肉联系，影响了党和

政府的公众形象，削弱了党和政府的公信力。网络社会是现实社会在网络空间的延伸，网络民情是现实社会民情集中的、及时的反映。

以上文字所表达的意图是：

- A.一些领导干部缺乏自律、出言不慎、行为失范
- B.一些领导干部的腐败行为损害了党和政府的公信力
- C.领导干部要提高网络条件下的执政能力
- D.网络是当前反腐的重要途径

37. 有一个道理,理解它完全不需要高深的知识:缺水会加剧旱情,干旱会使植被受损,而土壤裸露的必然结果就是荒漠化。可以说,对缺水的严重程度估计不足、对水的消耗计划不周,客观上使北方土地荒漠化加剧。如今,类似问题正在长江南北重演。就在历来被称为“水网”的长江三角洲,人们不爱护奔流不息的江河,污染了地表水,就只能从地下找水喝。人无远虑,必有近忧。很多人至今仍对水资源“大不敬”,无非是觉得守着长江,何忧之有?殊不知,黄河两岸也曾有绿荫蔽日的年代,沧海桑田、人沙进退只在庭步之间。

这段文字主要强调：

- A.缺水的危害
 - B.警示人们提高对缺水程度的认识
 - C.节约水的重要性
 - D.警示人们不能让长江重蹈黄河的“覆辙”
38. 创造本身似乎是某种随意的行为,然而其中必定蕴含着恒定的规律,就如同无神论者的命运一般。如果造世主没有这些规范就能统管世界的话,那么这显然是荒谬的说法,因为没有这些规范,世界将无法生存。

文中加下划线的“这”是指：

- A.创造如同无神论者的命运
- B.创造必定蕴含着恒定的规律
- C.造世主没有规范就能统管世界
- D.没有这些规范,世界将无法生存

39. 近年来,随着网络社交媒体的迅速发展,有关食品的谣言甚嚣尘上,给人们的日常生活带来很大困扰。在日前召开的中国食品辟谣论坛上,中国食品谣言智能预警处理平台正式上线,被寄予了破解食品谣言满天飞现状的厚望。健全和完善食品安全举报的平台和机制,把举报机制纳入食品谣言智能预警处理平台,从而对食品谣言治理进行闭环管理,才能真正建立消费者对食品安全的信心。

这段文字意在强调:

- A.食品安全谣言泛滥,建立举报机制已经刻不容缓
 - B.治理食品安全谣言,不能仅仅依靠辟谣预警平台
 - C.有关食品的谣言甚嚣尘上,辟谣预警平台应运而生
 - D.治理食品安全谣言,须先重视其举报平台及相应机制
40. 社会生活中的消费市场是体现市场理念的重要领域之一。努力提高产品质量、服务质量是厂家、商家毋庸讳言的责任,客户至上也是一种无可置疑的营销理念,但“客户是上帝”却是一种普遍的偏见。因为消费者与消费提供者之间一方付出了金钱,另一方提供了相应的产品,或者说一方提供了服务,另一方当然要付出等值的代价。从本质上说,这里面并无高低贵贱之分。

这段文字意在强调:

- A.论述“客户是上帝”的观念有其产生的背景和局限
- B.介绍新的消费理念比“客户是上帝”更具合理性
- C.说明人们生活中习惯性的消费观念并非都是正确的
- D.强调消费者与厂家、商家是平等的交易关系

※※※第二部分结束,请继续做第三部分!※※※

第三部分 判断推理

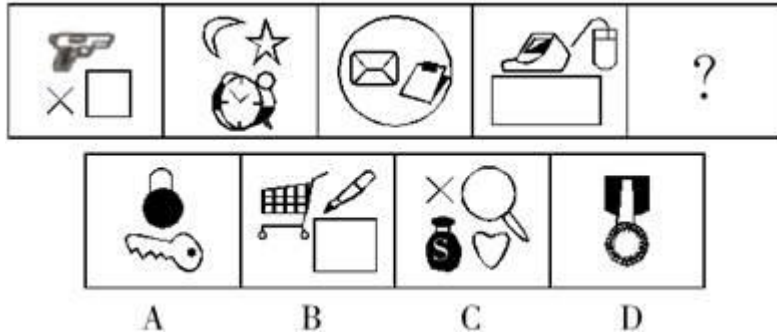
(共 45 题, 参考时限 40 分钟)

一、常识判断。根据题目要求, 在四个选项中选出一个正确答案。

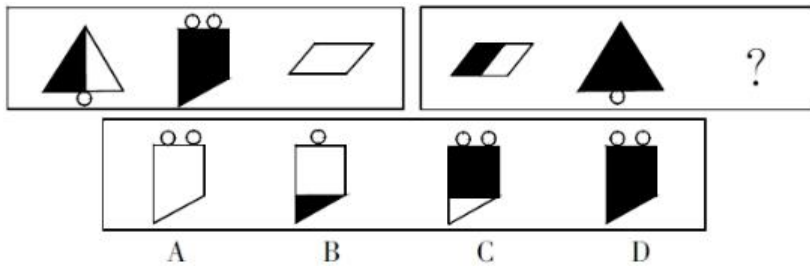
请开始答题:

41. 我们常用“路漫漫其修远兮, 吾将上下而求索”来表达不失时机地去寻求正确方法以解决面临的问题。下列相关说法正确的是:
- A. 该句出自爱国诗人屈原的《九歌》 B. 作者是战国末期齐国人
C. 作者的家乡位于湖北宜昌 D. 作者最终投扬子江自杀身亡
42. 人对生态环境的正确态度是:
- A. 对待生命一样对待生态环境 B. 在为人所用的前提下考虑保护
C. 首先考虑人的需要 D. 保护与开发同等重要
43. 《诫子书》是诸葛亮写给其子诸葛瞻的。作为一个品德高尚、才学渊博的父亲, 诸葛亮对儿子的殷殷教诲与无限期望尽在《诫子书》中, 通过智慧理性、简练严谨的文字, 将普天下为人父者的爱子之情表达的非常深切。
- 下列选项中**不是**出自诸葛亮《诫子书》的一项是:
- A. 淫漫则不能励精, 险躁则不能冶性
B. 勿以恶小而为之, 勿以善小而不为
C. 静以修身, 俭以养德
D. 非淡泊无以明志, 非宁静无以致远
44. 人体必需的六类营养素中有三大热能营养素, 在体内经过氧化分解产生能量, 下列**不属于**热能营养素的是:
- A. 糖类 B. 维生素 C. 脂肪 D. 蛋白质
45. “我劝天公重抖擞, 不拘一格降人才”的作者是:
- A. 黄遵宪 B. 谭嗣同 C. 龚自珍 D. 梁启超

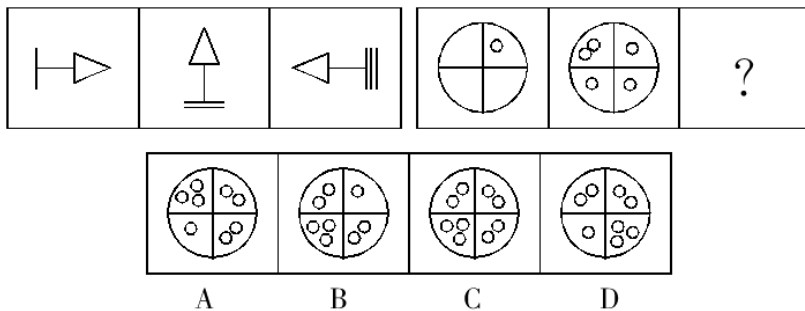
52. 从所给的四个选项中, 选择最合适的一个填入问号处, 使之呈现一定的规律性:



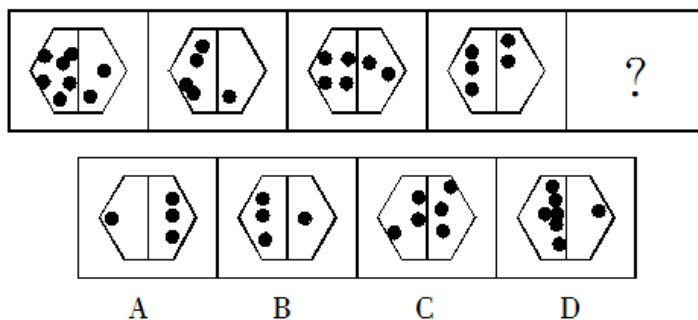
53. 从所给的四个选项中, 选择最合适的一个填入问号处, 使之呈现一定的规律性:



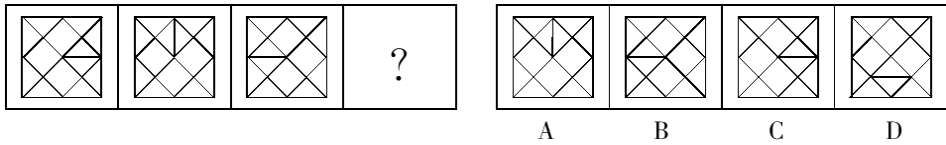
54. 从所给的四个选项中, 选择最合适的一个填入问号处, 使之呈现一定的规律性:



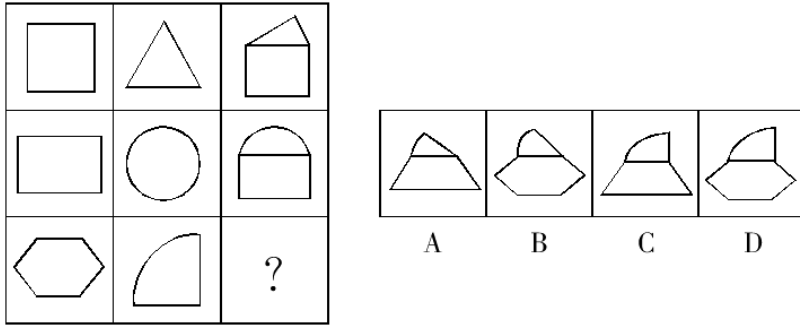
55. 从所给的四个选项中, 选择最合适的一个填入问号处, 使之呈现一定的规律性:



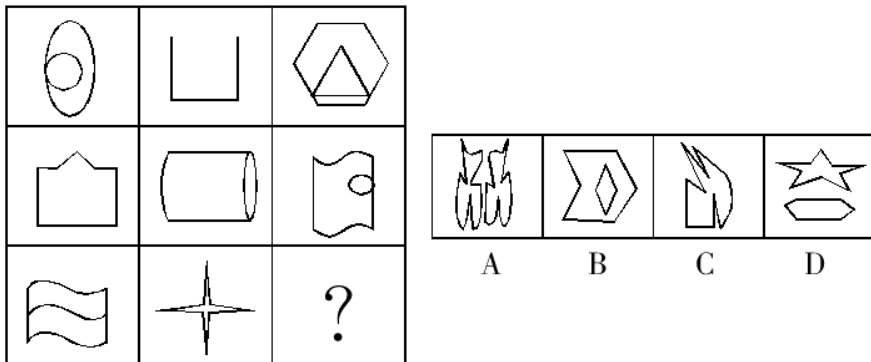
56. 从所给的四个选项中，选择最合适的一个填入问号处，使之呈现一定的规律性：



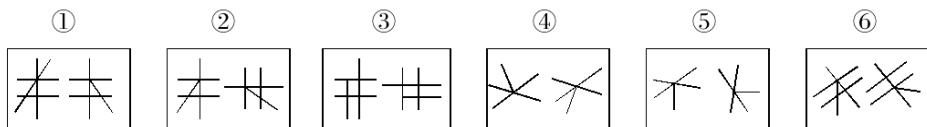
57. 从所给的四个选项中，选择最合适的一个填入问号处，使之呈现一定的规律性：



58. 从所给的四个选项中，选择最合适的一个填入问号处，使之呈现一定的规律性：



59. 把下面的六个图形分为两类，使每一类图形都有各自的共同特征或规律，分类正确的一项是：



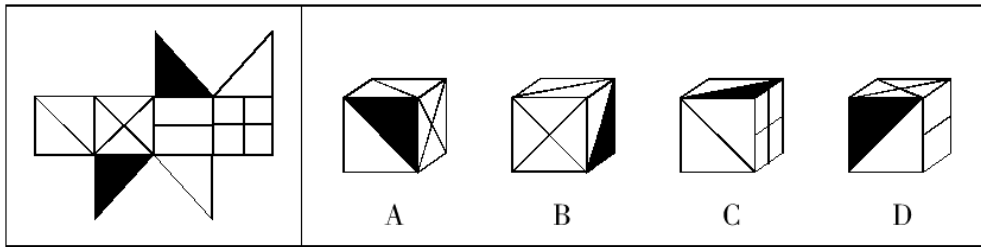
A. ①②⑥, ③④⑤

B. ①②③, ④⑤⑥

C. ①④⑤, ②③⑥

D. ①④⑥, ②③⑤

60. 左边给定的是纸盒的外表面，下面哪一项能由它折叠而成？



二、定义判断。每道题先给出定义，然后列出四种情况，要求你严格依据定义，从中选出一个最符合或最不符合该定义的答案。注意：假设这个定义是正确的，不容置疑的。

请开始答题：

61. 生物链指的是由动物、植物和微生物互相提供食物而形成的相互依存的链条关系。

生物链也可以理解为自然界中的食物链，它形成了大自然中“一物降一物”的现象，维系着物种间天然的数量平衡。

根据上述定义，下列**不属于**生物链的是：

- A. 微生物—小鱼—大鱼—鲨鱼
- B. 植物—食草动物—食肉动物
- C. 植物的叶和果—昆虫—鸟—鹰
- D. 水—云—雨—水

62. 行政沟通是指在行政管理活动中，行政机构之间或行政机构有关方面之间的信息上的传递交流与联系。

根据上述定义，下列**不属于**行政沟通的是：

- A. 在县公安局打字的小张写信向县委机关打字员求爱
- B. 省编制办下达了本年度的人员、财政编制给各地市
- C. 政府机构的彼此公文往来
- D. 县政府召集各部门领导开会，安排下半年的党风廉政建设

63. 资源整合：市场主体为实现特定目的，将各种资源进行优化配置，综合利用，使之发挥良好效益的一系列措施办法。

以下不属于资源整合的是：

- A. 李大妈将沿街房屋改造装修，邻居王老伯出资，合伙开办了一家便民超市
- B. 某纺织厂与房地产公司商定，将市区厂房整体拆除，新建住宅小区，组建物业公司，安置本厂员工转岗就业
- C. 某煤炭企业出资，当地村民出力，将塌陷区改造成水上游乐园
- D. 某企业将闲置设备和库存物资销售，所得资金购买股票，收益不菲

64. 塑料垃圾如果得不到妥善管理和处理，进入自然环境后，主要造成两种危害。即“视觉污染”和“潜在危害”。视觉污染是指散落在环境中，废塑料制品对市容、景观的破坏。在大城市、旅游区、水体，废旧塑料给人们的视觉带来不良刺激。影响城市、风景点的整体美感。

下列现象属于上述“视觉污染”的一项是：

- A. 在一些热闹地点路段，各种户外广告牌五花八门，摆放杂乱无序，有些甚至年久失修，一条条塑料装饰带随风飘扬
 - B. 漂浮在江河中的塑料制品给水源取用带来很大困难，造成泵抽空和堵塞，给工业生产和水电站造成巨大损失
 - C. 塑料地膜废弃物在土壤中大面积残留，长期积累，造成土壤板结，影响农作物吸收养分和水分，导致农作物减产
 - D. 某旅游景点每到“五一”，“十一”等节假日，树丛、道路两旁都会出现大量塑料袋和饮料罐，与周围环境极不协调
65. 边民互市贸易是指边境区边民在我国陆路边境 20 公里以内，在经政府的批准开放点或指定的集市上，在不超过规定的金额和数量的范围内进行的商品交换活动。

下列属于边民互市贸易的是：

- A. 家住四川的小李到北方旅游，在离中俄边境很近的俄罗斯境内购买了一些漂亮的但是价值并不高的俄罗斯民间艺术品
- B. 胡某是越南人，生活在越中边境地区的越南境内，虽然家境不是很富裕，但是每天他都会步行二十分钟越过国境线到中国境内买他喜欢吃的中国美食

- C.在我国跟尼泊尔的边境方圆不超过 20 公里范围内的两国的外贸公司之间总是进行着一些小额贸易
- D.中国的工业产品在缅甸非常受欢迎，中国某公司生产的摩托车行销缅甸全国
66. 强迫交易罪，是指以暴力、威胁手段强买强卖商品、强迫他人提供服务或者强迫他人接受服务，情节严重的行为。敲诈勒索罪是指以非法占有为目的，对被害人使用威胁或要挟的方法，强行索要公私财物的行为。
- 根据上述定义，下列最有可能构成敲诈勒索罪的是：
- A.李某为美容院老板，以免费美容的方式招揽顾客，但却要求顾客支付高价的美容师“服务费”，当顾客提出质疑或拒不支付时，即逼迫顾客押手机或身份证，或安排人跟着顾客去取钱
- B.黄某为酒吧经营者，赵某在酒吧消费时，黄某认为赵某是有钱人，就以高价向其出售假洋酒，赵某认为价格不合理，提出要报警，黄某对赵某实施了殴打，并强行索要钱财
- C.王某为某粮食加工企业负责人，雇用了一批社会闲散人员，以暴力相恐吓，采用打白条的方式强行“收购”当地农民的粮食
- D.某水泥厂一直雇用当地村民从事装卸工作，后因劳务费问题与村民发生纠纷，重新雇用了一批外来装卸工。村民遂在水泥厂门口设卡，强行对进出大门运送货物的车辆进行装卸，并向驾驶员收取装卸费
67. 概念的内涵是概念所反映的客体集合所有元素的共同属性。它是以高度紧缩形式出现的，揭示一个概念的内涵，如同抽出卷尺，这个抽出卷尺的过程在特殊的情况下不是不可以采用否定形式的。
- 根据以上定义，下面采用否定形式揭示不同概念内涵的是：
- A.生荒地就是未被开垦的荒地
- B.紧急避险就是不负刑事责任的行为
- C.非集合概念就是不反映对象集合体的概念
- D.非婚生子女就是不具有合理婚姻关系的男女所生的子女

68. 初级群体指的是由面对面互动所形成的、具有亲密的人际关系和浓厚的感情色彩的社会群体；次级群体指的是其成员为了某种特定的目标集合在一起，通过明确的规章制度结成正规关系的社会群体。

根据上述定义，下列涉及次级群体的是：

- A. 亲友团来到比赛现场为小李助威
- B. 小赵要到大城市上学了，山里的乡亲们都到村口为他送行
- C. 小王考上了研究生，公司的同事一起为他庆贺
- D. 20 年之后，小张儿时的玩伴建立了一个微信群

69. 情感切入是指通过心理沟通和情感交流，赢得消费者的信赖和偏爱，进而扩大产品的市场份额，取得竞争优势的一种营销方式。

根据上述定义，下列不属于情感切入方式的是：

- A. 某公司在机场出口设置灯箱，显示“旅途辛苦了，××公司欢迎您”
- B. 某服装公司将产品定位于年轻情侣，选用“相思豆”的图文组合商标
- C. 某公司在情人节为年轻顾客举办了“将爱情进行到底”的主题活动
- D. 某商场在拆迁之前，挂出“回馈顾客，赔本大甩卖”的招牌吸引顾客

70. 机会成本是指人们将某项资源固定于某项用途时，所放弃的用于其他用途所能产生的收益。

根据以上定义，下列不属于机会成本的是：

- A. 王某购买了 6 万元国债，如买企业债券一年可收入 6000 元
- B. 李某将自有闲置住房改建为商店，一年损失房租收入 5 万元
- C. 张某年工资 3 万元，后辞职在家种植花卉出售
- D. 赵某考察某项目可否投资，花费 4 万元，后放弃投资

三、类比推理。每道题先给出一组相关的词，要求你在备选答案中找出一组与之在逻辑关系上最为贴近、相似或匹配的词。

请开始答题：

71. 木材：桌子
- A. 窗帘：窗户
B. 电线：台灯
- C. 皮革：皮鞋
D. 钢铁：电脑
72. 书：纸：笔
- A. 河：水：海
B. 枪：子弹：炮
- C. 林：树：木
D. 饭：米：青菜
73. () 对于 邮费 相当于 纬度 对于 ()
- A. 邮局，国家
B. 重量，气候
- C. 邮票，经度
D. 距离，时区
74. X 光片：骨折
- A. 卫星云图：降雨
B. 科普图书：知识
- C. 电子导航：路线
D. 饮食习惯：健康
75. 正：反
- A. 金：木
B. 老：旧
- C. 好：坏
D. 白：亮
76. 河流：水
- A. 沙漠：泥土
B. 森林：树木
- C. 草原：动物
D. 山脉：冰雪
77. 小篆：隶书
- A. 魏碑：法帖
B. 诗经：豳风
- C. 唐诗：宋词
D. 四书：尚书
78. 生命：透支
- A. 飞机：起飞
B. 材料：涨价
- C. 梦想：实现
D. 情绪：波动

79. 站台：码头：停机坪
- A. 现金：支票：银行卡
B. 软件：硬件：互联网
C. 外套：婚纱：羽绒服
D. 演员：群众：主持人
80. 侯方域：《桃花扇》
- A. 蒲松龄：《聊斋志异》
B. 石头记：《红楼梦》
C. 崔莺莺：《西厢记》
D. 秦始皇：《后汉书》

四、逻辑判断。每道题给出一段陈述，这段陈述被假设是正确的，不容置疑的。要求你根据这段陈述，选择一个答案。注意：正确的答案应与所给的陈述相符合，不需要任何附加说明即可以从陈述中直接推出。

请开始答题：

81. 甲、乙、丙三人。甲说乙在说谎，乙说丙在说谎，丙说甲和乙都在说谎。三个人中没有说谎的是：
- A. 甲 B. 乙 C. 丙 D. 无法推出
82. 某代表曾建议向进城的私人车辆每天收取 15 元的费用，宣称这种费用的征收将缓解该城市的交通拥挤状况。理由是，由于该费用比许多附近站点乘坐环线公共汽车的费用要高，许多人会由自己驾驶汽车转为乘坐公共汽车。
- 以下哪项如果为真，最能反驳以上论证？
- A. 绝大多数郊区居民点没有便捷的公共交通工具
B. 停车费用已经使大多数开私家车进城比乘坐公共交通工具贵得多
C. 目前乘坐公共交通工具的人多数没有自己的私家车
D. 汽油价格的预期上升将提高进城私人车辆的开车成本
83. 让信息资源更容易查找、获取和使用，这是开放政府给我们带来的一个重大利好，这些举措能够塑造企业家精神、推进创新、催生新的科学发展。为了继续促进就业，提升政府效率，扩大通过开放政府数据获得的社会利好，新的政府信息的默认形式就应该是开放并且机器可读。
- 根据上述文字最不可能得出的结论是：

第四部分 资料分析

(共 15 题, 参考时限 15 分钟)

所给出的图、表、文字或综合性资料均有若干个问题要你回答。你应根据资料提供的信息进行分析、比较、计算和判断处理。

请开始答题:

一、根据以下资料, 回答 86~90 题。

我国近岸海域监测面积共 279225 平方千米, 2010 年, 按监测点位计算, 水质最好的一、二类海水占 62.7%, 比上年下降 10.2 个百分点; 三类海水占 14.1%, 比上年上升 8.1 个百分点; 四类 and 劣四类海水占 23.2%, 比上年上升 2.1 个百分点。而 2009 年发生赤潮已达 68 次, 44.6% 的入海河流入海水质为五类和劣五类。

下图为 2009 年、2010 年四大海区近岸海域一、二类与四类、劣四类海水年际比较。其中渤海是我国唯一的内海, 面积为 77000 平方千米。

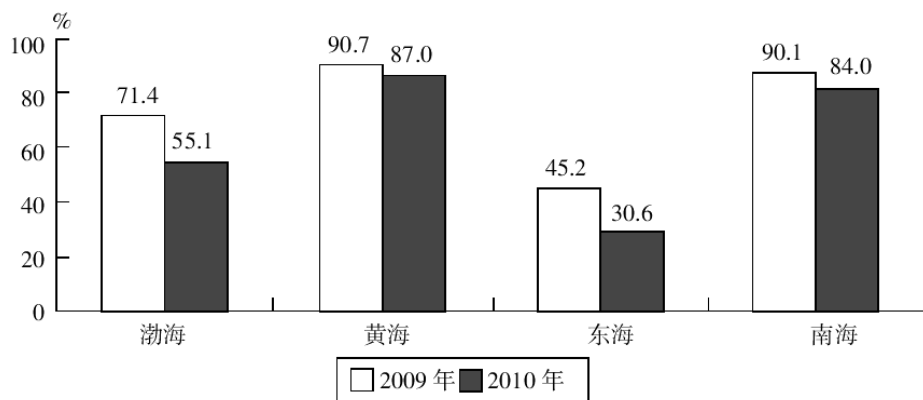


图 1 四大海区近岸海域一、二类海水比例年际比较

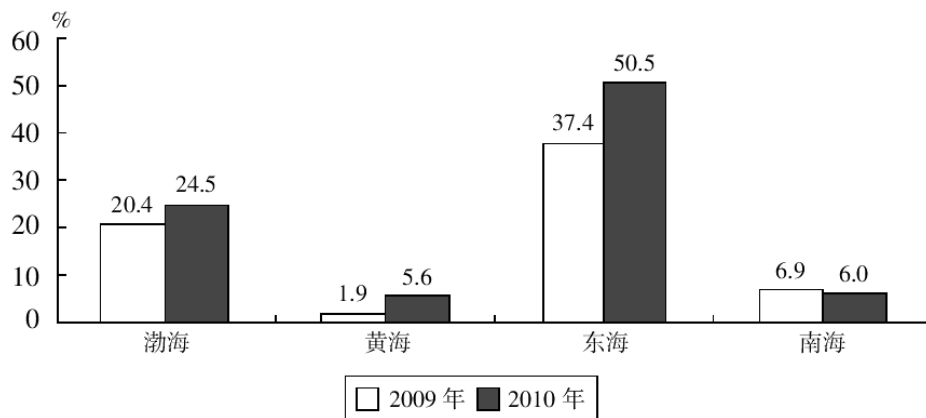


图 2 四大海区近岸海域四类、劣四类海水比例年际比较

86. 2010 年我国近岸海域监测为一、二类海水的面积约为多少万平方千米?
 A.13.5 B.15.5 C.17.5 D.19.5
87. 按监测点位计算, 2009 年我国近岸海域四类和劣四类海水的比例为:
 A.14.1% B.21.1% C.25.3% D.44.6%
88. 四大海区近岸海域 2010 年一、二类海水比例较 2009 年降幅最低的是:
 A.渤海 B.黄海 C.东海 D.南海
89. 若近岸海域监测面积包括整个渤海, 那么 2010 年渤海一、二类海水面积比 2009 年减少了多少平方千米?
 A.7854 B.9756 C.10450 D.12551
90. 能够从资料中推出的是:
 A.2010 年我国近岸海域发生赤潮次数较 2009 年增多
 B.2010 年四大海区近岸海域中, 南海与黄海水质较好, 东海水质最差
 C.2010 年四大海区监测到的四类与劣四类海水面积均比上年有所上升
 D.2010 年监测到的四类与劣四类海水总面积比上年增加 5 万余平方千米

二、根据以下资料, 回答 91~95 题。

2013 年 11 月 6 日《中国信息报》刊发了《改革开放铸辉煌 经济发展谱新篇》, 用数字和图形展示了自 1978 年改革开放 35 年以来中国经济社会发展的巨大变化。文章数

据显示, 1978~2012 年, 我国国内生产总值平均增长 9.8%, 国内生产总值由 1978 年的 3645 亿元迅速跃升至 2012 年的 518942 亿元; 1978 年人均国内生产总值仅有 381 元, 2012 年人均国内生产总值达到 38420 元, 扣除价格因素, 比 1978 年增长 16.2 倍, 平均增长 8.7%。

表 1978~2012 年国内生产总值及人均国内生产总值情况

年份	国内生产总值(亿元)	人均国内生产总值(元)
1978	3645	381
1980	4546	463
1985	9016	858
1990	18668	1644
1995	60794	5046
2000	99215	7858
2005	184937	14185
2010	401513	30015
2011	473104	35198
2012	518942	38420

91. 表中数据显示, 我国人均国内生产总值超过万元的初始年份是:
 A.2005 年 B.2000 年 C.1990 年 D.2010 年
92. 资料显示, 2012 年我国国内生产总值比 1978 年增长了:
 A.1.41 倍 B.142.4 倍 C.141.4 倍 D.1.42 倍
93. 改革开放 35 年以来, 我国国内生产总值和人均国内生产总值:
 A.二者均呈增长趋势 B.前者不断减少, 后者不断增加
 C.前者不断增加, 后者不断减少 D.二者均呈下降趋势
94. 改革开放 35 年以来, 我国国内生产总值与人均国内生产总值平均增长情况是:
 A.前者慢于后者 B.前者快于后者
 C.二者同步增长 D.二者同步降低

95. 下列表述正确的是:

- A.2012 年, 我国人均国内生产总值是 1978 年的 16.2 倍
- B.1978~2012 年, 我国国内生产总值年均增长 8.7%
- C.1978~2012 年, 我国人均国内生产总值年均增长 9.8%
- D.表中数据显示, 2005 年我国国内生产总值超过十万亿元

三、根据以下资料, 回答 96~100 题。

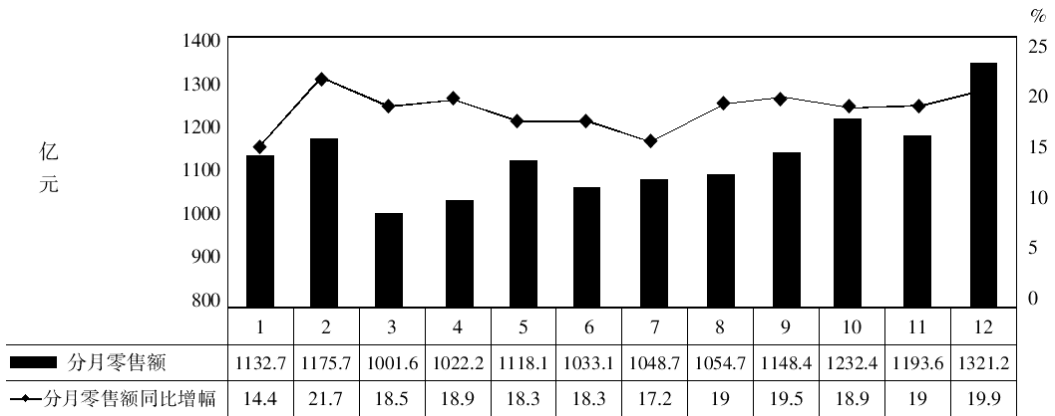


图 1 2010 年某省社会消费品分月零售额及增幅

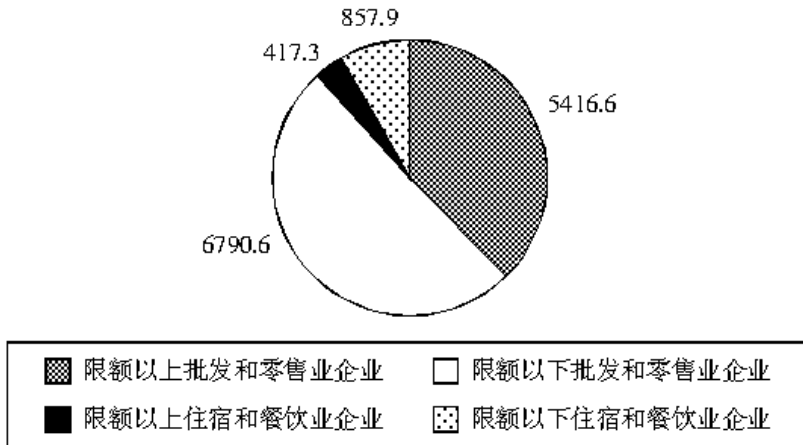


图 2 2010 年该省分行业零售额 (单位: 亿元)

96. 以下说法正确的是：
- A.2009 年该省社会消费品分月零售额最大的是 12 月份
 - B.2010 年该省社会消费品分月零售额增幅最大的是 12 月份
 - C.2010 年该省限额以上企业零售额大于限额以下企业零售额
 - D.该省 2009 年 5 月社会消费品零售额为 941.5 亿元
97. 已知 2010 年该省限额以下批发和零售企业零售额相比于 2009 年同期增幅为 18.7%，那么 2009 年该省限额以下批发和零售企业零售额约为：
- A.5720 亿元 B.4563 亿元 C.772 亿元 D.351 亿元
98. 已知 2010 年限额以上企业零售额增幅为 27.4%，限额以下企业零售额增幅为 12.8%，那么 2009 年限额以上企业和限额以下企业零售额差值比 2010 年差值：
- A.约少 386 亿元 B.约多 386 亿元
- C.约少 647 亿元 D.约多 647 亿元
99. 该省 2010 年社会消费品零售总额是：
- A.11959.6 亿元 B.13482.4 亿元
- C.14852.6 亿元 D.16347.2 亿元
100. 以下说法错误的是：
- A.2010 年 1 月的零售额增幅在 12 个月中是最小的
 - B.2010 年 3 月的零售额在 12 个月中是最少的
 - C.2010 年批发零售业零售额占社会消费品零售总额的比重超过 50%
 - D.2010 年限额以上企业零售额占社会消费品零售总额的比重超过 50%

※※※全部测验到此结束！※※※