

# 2020 年全国军队文职人员 统一招聘考试 《公共科目》模拟卷

## 重要提示：

为维护您的个人权益，确保考试的公平公正，请您协助我们监督考试实施工作。

本场考试规定：监考老师要向本考场全体考生展示题本密封情况，并邀请2名考生代表验封签字后，方能开启试卷袋。

条形码  
粘贴处

请将此条形码揭下，  
贴在答题卡指定位置



## 注 意 事 项

1. 《公共科目》分为基本知识和岗位知识两部分，共计 110 题，限时 120 分钟，满分 100 分。
2. 将姓名与准考证号在指定位置上用黑色字迹的钢笔、签字笔或圆珠笔填写，并用 2B 铅笔在准考证号对应的数字上填涂。
3. 请将题本上的条形码揭下，贴在答题卡指定位置。没有贴条形码的答题卡将按作废处理，成绩计为零分。
4. 题目应在答题卡上作答，在题本上作答一律无效。
5. 待监考老师宣布考试开始后，你才可以开始答题。
6. 监考老师宣布考试结束时，你应立即停止作答，将题本、答题卡和草稿纸都翻过来放在桌上，待监考老师确认数量无误、发出离开指令后，方可离开考场。
7. 试题答错不倒扣分。
8. 严禁折叠答题卡！

※※※※※※※※※※※※※※※※※※※※※※※※※※※※※※

※        停！请不要往下翻！听候监考老师的指令。        ※

※        否则，会影响你的成绩。        ※

※※※※※※※※※※※※※※※※※※※※※※※※※※※※※※



## 第一部分 基本知识

### 一、单项选择题( 请根据题目要求, 在四个选项中选出一个最恰当的答案。共 50 题, 每题 0.5 分, 共 25 分 )

1. 马克思主义最崇高的社会主义理想是:  
A. 实现中国梦  
B. 实现“大同”世界  
C. 实现共产主义  
D. 实现最广大人民的根本利益
2. “只见树木, 不见森林”; “一叶障目, 不见泰山”。这是一种:  
A. 不可知论的观点  
B. 相对主义的观点  
C. 庸俗唯物主义的观点  
D. 形而上学的观点
3. 人类社会变化发展的决定性因素是:  
A. 物质资料的生产方式  
B. 地理环境和人口条件  
C. 阶级斗争  
D. 天才人物的出现
4. 1949 年新民主主义革命取得胜利, 建立了新中国, 这时的新中国是:  
A. 资产阶级专政的共和国  
B. 无产阶级专政的共和国  
C. 几个革命阶级联合专政的共和国  
D. 民族资产阶级专政的共和国
5. \_\_\_\_\_是“四个全面”战略布局中具有突破性和先导性的关键环节。  
A. 全面深化改革  
B. 全面建成小康社会  
C. 全面依法治国  
D. 全面从严治党
6. 邓小平理论形成的时代背景是:  
A. 战争与革命为时代主题  
B. 和平与发展为时代主题  
C. 经济一体化为时代主题  
D. 可持续发展为时代主题
7. 进入新时代, 我党形成了新时代中国特色社会主义思想, 新时代中国特色社会主义思想系统的回答了\_\_\_\_\_这个重大理论问题。



13. 能够创造、带来新增价值的价值附着物叫做资本，其最初表现形式是：  
A.商品                      B.货币                      C.价值                      D.使用价值
14. 产业部门之间的竞争形成了：  
A.超额剩余价值                      B.平均利润率  
C.商品的社会价值                      D.商品的个别价值
15. 在社会主义初级阶段我国的经济结构是以生产资料公有制为主体，多种所有制并存的多元化所有制结构，我国目前存在的公有制的主要形式是：  
A.国有经济和个体经济  
B.国有经济和私营经济  
C.集体经济和个体经济  
D.集体经济和国有经济
16. 老王在国企担任技术部编辑工程工作，今年9月获得了3000元底薪，2000元项目奖金和中秋节过节奖，2000元项目奖金属于：  
A.按劳分配                      B.按生产要素分配  
C.按资本要素分配                      D.按技术要素分配
17. 在市场机制体系中，\_\_\_\_\_是核心，市场机制要发挥作用，必须由其来实现。  
A.价格机制                      B.竞争机制                      C.供求机制                      D.风险机制
18. 当一国的国民生产总值小于国内生产总值时，说明该国公民从外国取得的收入\_\_\_\_\_外国公民从该国取得的收入。  
A.大于                      B.小于                      C.等于                      D.不确定
19. CPI是指：  
A.消费价格指数                      B.国民收入  
C.生产价格指数                      D.居民可支配收入
20. 通货膨胀是指流通中货币量超过实际需求量引起的\_\_\_\_\_经济现象。  
A.货币贬值、物价上涨                      B.货币升值、物价上涨  
C.货币贬值、物价下跌                      D.货币升值、物价下跌

21. 负责货币供给的银行是：  
 A. 商业银行                      B. 建设银行                      C. 农业银行                      D. 中央银行
22. 《天工开物》被誉为“中国十七世纪工艺百科全书”，它是明代哪位著名科学家所著：  
 A. 沈括                              B. 宋应星                              C. 徐光启                              D. 张衡
23. 公元前 214 年前后，秦始皇下令修筑万里长城，秦始皇修长城的目的主要是：  
 A. 显示皇帝的威风  
 B. 为统一六国作必要的准备  
 C. 巩固边防，保护北方人民的正常生活和生产  
 D. 加强与匈奴之间的文化交流
24. \_\_\_\_\_ 事变的和平解决促成了第二次国共合作。  
 A. 九一八                              B. 华北                              C. 南京                              D. 西安
25. 在山东的历史文化名人中，2500 年前与学生们进行了世界上第一个小孔成像实验，对光的直线传播第一次作出了科学解释的是：  
 A. 曾子                              B. 墨子                              C. 鲁班                              D. 甘德
26. 中国矿产资源丰富，主要蕴藏在：  
 A. 东北地区                              B. 华北地区  
 C. 西北地区                              D. 东部沿海大陆地区
27. 2019 年 4 月 23 日，习近平集体会见了应邀前来参加活动的多国海军代表团团长。他在会见时指出，中国海军将一如既往同各国海军加强交流合作，积极履行国际责任义务，保障国际航道安全，努力提供更多\_\_\_\_\_。  
 A. 优质海上生态产品                              B. 高质量的海上服务  
 C. 海上公共安全产品                              D. 海上安保和信息服务
28. 2019 年 5 月 31 日，“不忘初心、牢记使命”主题教育工作会议在京召开，会议指出，今年是中华人民共和国成立\_\_\_\_\_周年，也是我们党在全国执政第\_\_\_\_\_个年头，在这个时刻开展这次主题教育，正当其时。  
 A. 60 60                              B. 60 70                              C. 70 60                              D. 70 70



29. 2019年10月1日,庆祝中华人民共和国成立70周年大会在北京天安门广场隆重举行,习近平发表重要讲话并检阅受阅部队。他强调,中国人民解放军和人民武装警察部队要永葆人民军队\_\_\_\_\_,坚决维护国家主权、安全、发展利益,坚决维护世界和平。
- A.性质、宗旨  
B.性质、宗旨、本色  
C.宗旨、本色  
D.传统、宗旨、本色
30. “互联网+\_\_\_\_\_”是“互联网+”行动计划首先要加以推动的领域。
- A.制造  
B.服务  
C.农业  
D.运输
31. 民族区域自治制度是我国解决民族问题的基本制度,下列关于民族区域自治的说法**不正确**的是:
- A.是国家统一领导与少数民族区域自治的结合  
B.民族自治地方分为自治区、自治州、自治县、民族乡  
C.各少数民族聚居的地区实行区域自治  
D.民族自治地方的自治机关实行民主集中制的原则
32. 依据现行《宪法》规定,下列选项中,**不属于**全国人民代表大会常务委员会行使的职权是:
- A.解释宪法,监督宪法的实施  
B.撤销国务院制定的同宪法、法律相抵触的行政法规,决定和命令  
C.决定驻外全权代表的任免  
D.决定特别行政区的设立以及制度
33. 田某在回家的路上碰上了程某正在抢劫一位女士的财物,并上前制止。程某掏出一把匕首刺向田某。在搏斗中,程某被田某用力推倒在地,头撞在一块石头的尖角上,当场死亡。田某的行为是:
- A.过失致人死亡,承担较轻的刑事责任  
B.正当防卫,不承担刑事责任  
C.间接故意杀人,但由于田某的行为是为了保护他人的利益,应免除刑事责任

- D.故意伤害致人死亡，承担刑事责任
34. 货车司机甲因怕耽误时间，晚上不睡觉，连续驾驶两天两夜。途中不慎将车开出高速匝道，撞上一过路人乙，乙在送往医院途中因失血过多死亡，则甲应判处：
- A.过失死亡罪  
B.交通肇事罪  
C.重大责任事故罪  
D.死刑
35. 张某，15 周岁，某中学初二学生。因对经常殴打他的继父吴某心怀仇恨，某日中午趁家人不注意在吴某的水杯下毒，致吴某死亡。对此，张某：
- A.应负刑事责任，但应当从轻或减轻处罚  
B.应负刑事责任，且应当从重处罚  
C.可以不负刑事责任，但应负民事责任  
D.暂不负刑事责任，满 16 周岁再负刑事责任
36. 下列哪种情形中，当事人之间产生合同法律关系？
- A.甲拾得乙遗失的一块手表  
B.甲邀请乙看球赛，乙因为有事没有前去赴约  
C.甲因出差，将一台电脑放入乙家  
D.甲把乙打伤，赔偿乙医疗费一千元人民币
37. 遗嘱继承人**不包括**：
- A.对公婆或岳父母尽了主要赡养义务的丧偶儿媳或女婿  
B.丧失继承权的继承人的晚辈直系血亲  
C.因抢劫而被判刑的被继承人的子女  
D.非婚生子女
38. 陈某独立创作出一篇学术论文。依我国《著作权法》规定：
- A.陈某的论文不论是否发表都能享有著作权  
B.陈某只有在其论文发表后才能享有著作权  
C.陈某的论文须经登记后才能享有著作权  
D.陈某的论文须经做上版权标记后才能享有著作权

39. 根据我国商标法, 可以注册为商标的标记包括:
- ①文字                      ②图形                      ③立体造型                      ④声音
- A.①②③                      B.②③④                      C.①②④                      D.①②③④
40. 根据我国《劳动法》的规定, 下列选项正确的是:
- A.订立的劳动合同和法律法规不一致时, 应遵守合同约定
- B.劳动合同的无效, 由劳动争议仲裁委员会或者人民法院确认
- C.国家机关与劳动者签订的劳动合同不适用《劳动法》
- D.我国公民的劳动能力年龄为 18 周岁
41. 国防是\_\_\_\_\_的全面体现。
- A.国家军事力量                      B.国家经济实力
- C.国家综合力量                      D.国家科技实力
42. 国防法的施行时间是:
- A.1997 年 3 月 14 日                      B.2007 年 3 月 14 日
- C.2017 年 3 月 14 日                      D.2007 年 8 月 1 日
43. 中华人民共和国的武装力量属于:
- A.中国共产党                      B.国家主席
- C.国家                      D.人民
44. 我军建军的时间为:
- A.1921 年                      B.1949 年                      C.1927 年                      D.1945 年
45. 军队领导指挥体制改革形成的格局是:
- A.军委管总、战区主战、军种主建
- B.军委主席负责制
- C.军委管总、战区主战
- D.军委管总、军种主战、战区主建
46. 军事秘密是关系\_\_\_\_\_, 依照规定的权限和程序确定, 在一定时间内只限一定范围的人员知悉的事项。

- A.单位利益  
B.重大事项  
C.敏感问题  
D.国防安全和军事利益
47. 宋朝设置\_\_\_\_\_作为军事领导的最高机构,主官用文官担任,主要目的是防止“权将”拥兵自重。
- A.枢密院  
B.锦衣卫  
C.大理寺  
D.督察御史
48. 文职人员的岗位等级,一般应当\_\_\_\_\_晋升。
- A.不再  
B.逐级  
C.定期  
D.逐年
49. 首次订立聘用合同的,可以约定试用期,试用期一般不超过:
- A.6个月  
B.3个月  
C.12个月  
D.9个月
50. 冯·诺依曼式计算机硬件系统的组成部分包括:
- A.运算器、外部存储器、控制器和输入输出设备  
B.运算器、控制器、存储器和输入输出设备  
C.电源、控制器、存储器和输入输出设备  
D.运算器、放大器、存储器和输入输出设备

**二、多项选择题(请根据题目要求,在五个选项中选出两个或两个以上恰当的答案,错选或多选均不得分,少选且选择正确的每个选项得 0.3 分。共 10 题,每题 1.5 分,共 15 分)**

51. “社会主义初级阶段是很长的历史发展过程,我们对这个阶段的状况、矛盾、演变及其规律的认识,在许多方面还知之不多,知之不深。我们的许多方针,政策和理论还有待于发展,要随着实践的发展,不断经受检验,得以补充、修正和提高。”这段话体现的哲理是:
- A.认识发展的反复性、无限性和上升性  
B.实践是认识发展的动力  
C.实践是认识的基础

- D.前进性和曲折性是统一的  
E.新事物一定优于旧事物
52. 社会生产的总过程包括的环节有:
- A.生产  
B.分配  
C.交换  
D.消费  
E.服务
53. 人民政协的主要职能包括:
- A.政治协商  
B.制定法律  
C.参政议政  
D.民主监督  
E.依法执政
54. 我国最早建立的四个经济特区是:
- A.深圳  
B.厦门  
C.珠海  
D.汕头  
E.广州
55. 中国古代四大名著是:
- A.《西游记》  
B.《红楼梦》  
C.《儒林外史》  
D.《三国演义》  
E.《水浒传》
56. 关于法的国家强制性,表述正确的是:
- A.法在实施过程中,始终离不开国家强制力的介入  
B.在法自觉得到遵守的情况下就没有必要运用国家强制力  
C.国家强制性是保证法实施的唯一力量  
D.法的实施也需要社会舆论、思想教育等多种手段来保证  
E.是否具有国家强制性,是法和其他社会规范相区别的一个重要标志

57. 《中华人民共和国著作权法》保护的作品包括：
- A.文字作品  
B.工程设计图  
C.计算机软件  
D.摄影作品  
E.美术作品
58. 在我国社会主义制度下，劳动既是公民的权利，也是公民的义务。根据《中华人民共和国劳动法》的规定，劳动者的义务包括：
- A.完成劳动任务  
B.提高职业技能  
C.执行劳动安全卫生规程  
D.遵守劳动纪律和职业道德  
E.取得劳动报酬
59. 国防教育应遵循的原则：
- A.经常教育与集中教育相结合  
B.理论与实践相结合  
C.普及教育与重点教育相结合  
D.理论教育与行为教育相结合  
E.理论教育与实践教育相结合
60. 计算机网络的主要特征有：
- A.计算机网络中，计算机是信息处理的主体  
B.计算机与相关外部设备通过总线连在一起，实现数据交换  
C.计算机网络中的计算机既相互联系又相互独立，不存在主从关系  
D.计算机网络中的计算机系统通过通讯协议实现信息交互  
E.在计算机网络中，用户与用户可以进行无风险的沟通

**※※※第一部分结束，请继续做第二部分！※※※**

## 第二部分 岗位知识

## 一、言语理解与表达（请根据题目要求，在四个选项中选出一个最恰当的答案，共15题，每题1分，共15分。）

61. 哄抢事件时常发生，因哄抢而被拘留或判刑则鲜有耳闻，许多哄抢事件最后\_\_\_\_\_，货主和车主只能自认倒霉。某种程度上，这种状况导致了参与哄抢者更加\_\_\_\_\_。

填入划横线部分最恰当的一项是：

- A.尘埃落定 无拘无束                      B.不了了之 有恃无恐  
C.淡然置之 得意忘形                      D.束之高阁 仗势欺人

62. 容易犯错误是我们人类无法避免的一个弱点，不管科技发展到什么程度，事故总是会在不经意间发生。懂得这个道理，我们就可以“\_\_\_\_\_”，只有这样，或许我们才能\_\_\_\_\_应对一切可能出现的麻烦。

填入划横线部分最恰当的一项是：

- A.未卜先知 巧妙                              B.未雨绸缪 从容  
C.先发制人 完美                              D.稳操胜券 主动

63. 评论文章若想可读，就要写活，既要\_\_\_\_\_，也要提出建议；既可从细微处议论，也可就大政方针发言。作为平面媒体，报纸要和网络竞争，追求\_\_\_\_\_显然不现实，只能在思想的深度上下功夫，用“综合性”的专栏言论来克服劣势。

填入划横线部分最恰当的一项是：

- A.一针见血 关注度                              B.针砭时弊 时效性  
C.高屋建瓴 发行量                              D.言之有物 世俗化

64. 唐朝社会的各色人物在唐朝文人笔下\_\_\_\_\_，活灵活现。世界名著中有著名的四大吝啬鬼形象，即阿巴贡、泼留希金、夏洛克和葛朗台，而唐朝文人笔下的吝啬和贪婪之人亦\_\_\_\_\_，这些生活在社会各阶层的人，被唐代文人刻画得\_\_\_\_\_，读来呼之欲出，令人不禁莞尔。

填入划横线部分最恰当的一项是：

- A.惟妙惟肖 不相上下 绘声绘色
- B.跃然纸上 大相径庭 酣畅淋漓
- C.栩栩如生 毫不逊色 入木三分
- D.引人入胜 风格各异 活灵活现

65. ①这些河谷高山群，北连亚洲腹地和青藏高原，南接亚洲南部热带地区，成为动植物南北扩散通道和东西交汇之地

②学界认为横断山脉是古老物种的庇护所和物种的演化中心

③在喜马拉雅山脉以东，有一系列南北走向的高山峻岭，这就是中外闻名的横断山地区

④因此，这里的动植物不仅种类多，而且特有种所占比例很高，亚种分化复杂，还有不少古老原始的种类

⑤当地民谣“一山有四季，几里不同天，隔山能说话，相见要一天”便是对这里地貌和气候的生动描述

⑥高山深谷纵列，海拔高差巨大，形成垂直多变的立体气候

将以上 6 个句子重新排列，语序正确的是：

A.③⑥⑤①④②

B.③⑥⑤④①②

C.②③⑤④⑥①

D.②③⑥⑤④①

66. 在中国传统绘画中，作为使笔运墨的方法，笔墨有些像文言文。文言在秦代以前就是一种书面语言，然而即便在当时，文人们在日常生活中也使用“古白话”，不会使用文言去说话。因此，\_\_\_\_\_。同样，笔墨也成了文人画家隔离包括画工在内的广大民众的一道绘画语言的屏障。

填入划横线部分最恰当的一项是：

A.文言文成了读书人在特定圈子特定时候的特权

B.除了现实世界，文人们还拥有另一个更丰富的世界

C.文言文便有了一种特殊的韵味和魅力

D.文言文成为中国文化的重要载体



67. 下列各句中，句意明确，**没有**语病的一项是：
- A.他如果天天都熬夜看奥运会，精力不济，影响工作，那么我们就应该及时向他提出意见甚至警告。
- B.联合国医疗署的官员警告说，中国需要采取紧急行动制止艾滋病的传播，否则不采取紧急行动，今后 10 年里还会有 1000 万人成为艾滋病感染者。
- C.人们的悲哀在于，应该珍惜的时候不懂得珍惜，而懂得珍惜的时候却失去了珍惜的机会。
- D.俗话说：“上有天堂，下有苏杭。”的确如此，而且春天的西湖是最美丽的季节。
68. 下列各句中，成语使用**没有**错误的一项是：
- A.姐姐不是一个从长计议的人，常常在中旬就花光一个月的生活费。
- B.半岛电视台一直同西方唱对台戏。
- C.今年的国庆彩车非常漂亮，人们争相前往，趋之若鹜。
- D.尽管我们想尽了办法，校园网络还是屡试不爽，不得不推迟开通时间。
69. 下列各组词语中**没有**错别字的一组是：
- A.辍学  即便  耳濡目染  不孚众望
- B.海涵  连锁  截长补短  美轮美奂
- C.切身  特聘  专程谒见  义气相投
- D.申说  回馈  禁止赌搏  征稿启事
70. 与快速发展的物质生活相比，我国公民文化生活质量提升相对滞后，而道德领域存在的种种问题更成为人民群众最为不满的主要社会现象之一。在社会发展的新时期新阶段，公民道德建设能否取得成效，直接影响着构建社会主义和谐社会的历史进程。为此，必须紧密联系我国政治、经济、社会和文化发展的新情况、新形势，从多方面入手，不断创新公民道德建设的实现方式，提高公民道德建设的有效性。这段文字主要说明：

- A. 公民道德建设需要与时俱进
- B. 物质生活与文化生活的发展不平衡
- C. 公民道德建设的程度影响社会发展的进程
- D. 公民道德水平的提升有利于构建和谐社会

71. 在以前的对外传播和交往中，我们的外交官经常会遇到这样的情况：外国人在中国博大精深、错综复杂的文化历史面前望而却步，甚至连我们自己也无法精要地描述这一深刻变动的古老文明。我们提出的“和平崛起”、“和谐世界”等战略框架和口号，更多地着眼于国外的战略决策者，而不是针对那些普普通通、对中国不甚了解的国外民众。用现代形象管理学的标准来衡量，我们的“广告词”和“象征符号”还不太贴近群众，在视觉触摸感和情感想象力上，还总让人感到有些缺憾。

这段文字谈论的核心问题是：

- A. 我国在对外传播和交往中存在的误区
  - B. 古老文明走向世界需要突破的难关
  - C. 中西不同文化间客观上存在的隔膜
  - D. 外交官在对外交往中遭遇的困境
72. 幽默是人类面对共同的生活困境而创造出来的一种文明。它以愉悦的方式表达人的真诚、大方和心灵的善良。它像一座桥梁拉近人与人之间的距离，弥补人与人之间的鸿沟。幽默是奋发向上者和希望与他人建立良好关系者不可缺少的东西，也是每一个希望减轻自己人生重担的人所必须依靠的支柱。

下列说法中，不符合文意的一项是：

- A. 幽默拉近了人与人之间的距离
- B. 幽默是希望减轻人生重担者的支柱
- C. 幽默创造了人类文明
- D. 幽默表达人的真诚、大方和心灵的善良

73. 像历史上的任何一次大规模移民一样, 搬迁只意味着第一步的迈出。外迁移民需要一个漫长的适应与被吸纳的过程。其中有一些人, 因无法适应全新的生活环境, 选择回到接近故土的地方, 被称为移民的“返流”现象。移民“返流”提出的是复杂的课题, 既说明政策上有尚需跟进和完善之处, 也表明外迁移民与迁出地之间需要更积极的融合。

对这段文字概括最正确的一项是:

- A. 历史证明大规模移民并不可取
  - B. “返流”的增多, 伴生了许多新的社会问题
  - C. “返流”现象表明移民安置是一项系统工程
  - D. 移民的“返流”现象不可避免
74. 互联网时代, 地球是平的, 这意味着在今天这样一个因信息技术而紧密、方便联系的互联世界中, 已经冲破了国家和地域的限制。然而, 不同的国家和地域, 拥有不同的文化和生活方式, 用户的管理方式和本地诉求也不尽相同, 谁能更好的满足用户需求, 提升用户体验, 谁就能在竞争中占据主动权, 从而赢得一片广阔的市场。这段文字意在说明在互联网时代:

- A. 满足不同的用户需求是竞争的关键
  - B. 世界因技术而紧密联系
  - C. 信息技术的飞跃是行业发展的重要契机
  - D. 互联网产品呈多样化发展趋势
75. 现代医学科学认为: 人全身血液循环的速度与肌肉及大脑神经紧张程度成反比; 肌肉及神经紧张, 血管受到挤压, 会使血液流量减少, 而造成局部缺血缺氧。当肌肉及大脑神经紧张度较平时增加 60% 以上时, 其局部血液流动可全部中断。当今所有的疾病中, 60%~80% 可以从现代生活的过度紧张中去寻根溯源。

这段文字旨在说明:

- A. 现代医学已经找到当今疾病的绝大部分病理根源
- B. 肌肉与神经的过度紧张是患心血管病的主要原因

C.血液循环的速度与肌肉及大脑神经紧张程度有关

D.现代人的很多疾病与紧张的生活状态相关

**二、数量关系（请根据题目要求，在四个选项中选出一个最恰当的答案，共 10 题，每题 1.5 分，共 15 分。）**

76. 某太阳镜厂有 76 名工人，4 名工人每天可以加工 6 个镜框，6 名工人每天可以加工 20 个镜片，需要调配多少工人加工镜片才能使每天生产的镜框和镜片配套？

A.24

B.25

C.32

D.36

77.  $0, \frac{3}{2}, \frac{15}{4}, \frac{35}{6}, ( )$

A. $\frac{63}{8}$

B. $\frac{3}{2}$

C.6

D. $\frac{15}{2}$

78. 吴某正站在一列有 500 人的长队中，如果在他前面有 345 人，那么他后面有( )人。

A.153

B.154

C.155

D.254

79. 63, 26, 7, 0, -1, -2, -9, ( )

A.-18

B.-20

C.-6

D.-28

80. 某人在公共汽车上发现一个小偷向反方向步行，10 秒钟后他下车去追小偷，如果他的速度比小偷快一倍，比汽车慢五分之四，则此人追上小偷要( )秒。

A.20

B.50

C.95

D.110

81. 某单位招聘了 6 名新员工，总经理要把他们安排在三个组，每组两人，有多少种安排方式：

A.80

B.85

C.90

D.95

82. 某单位购买一批树苗计划在一段路两旁植树，若每隔 5 米种 1 棵树，可以覆盖整个路段，但这批树苗剩余 20 棵。若每隔 4 米种 1 棵树且路尾最后两棵树之间距离为 3 米，则这批树苗刚好可以覆盖整个路段。这段路长为：

A.195 米

B.205 米

C.375 米

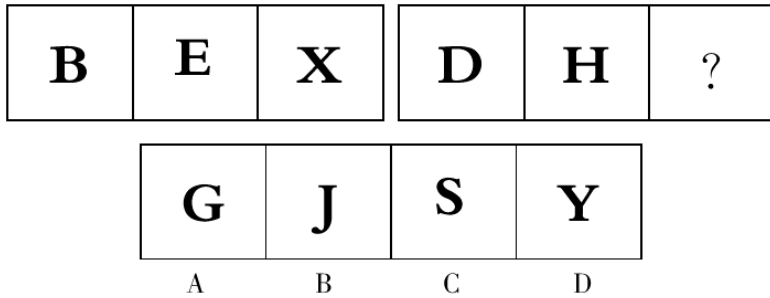
D.395 米

83. 甲、乙、丙进行 800 米赛跑，跑道为 400 米环形。当甲跑完 1 圈时，乙比甲多跑  $\frac{1}{7}$  圈，丙比甲少跑  $\frac{1}{7}$  圈。设三人速度不变，则乙到达终点时，甲在丙前面多少米？
- A.100 米                      B.85 米                      C.105 米                      D.90 米
84. 幼儿园阿姨带领 5 个小朋友春游，她的布袋里有苹果、草莓、芒果三种口味的糖果各 20 个。问：阿姨一次最少拿出几个糖果，才能保证至少有 1 个口味的糖果被 5 个小朋友同时拿到？
- A.13                              B.14                              C.17                              D.20
85. 7 年后，父亲的年龄是女儿的 4 倍，17 年后，父亲的年龄是女儿的 2.5 倍。问 27 年后，父亲的年龄是女儿的多少倍？
- A.1.5 倍                      B.1.8 倍                      C.2 倍                      D.2.2 倍

**三、判断推理（请根据题目要求，在四个选项中选出一个最恰当的答案，共 10 题，每题 1.5 分，共 15 分。）**

86. 民主政体的法律一般保护最大多数人的利益，因为他们源于大多数的公民，这些公民易于犯错，但他们不会站在自己利益的反面。相反，寡头政治的法律有助于将财富和权力集中在少数人手中，因为从本质上看，寡头政治是由少数人建构起来的。因此可以断定，一般情况下，民主政体的立法宗旨比寡头政治的立法宗旨对人类更有益。
- 以下哪项如果成立，最有助于削弱上述断定？
- A.一般说来，寡头政治的立法成本比民主政体要低，且在效率上要高
- B.相比于寡头政治，民主政体下的法律经常会出现众多漏洞，而导致整个社会的利益遭到重大损害
- C.寡头政治亦可能是精英政治，立法未必只会从自身的利益出发，而牺牲整个社会的利益
- D.从现实情况看，寡头政治国家要比民主政体国家的国民经济生产增加值更高

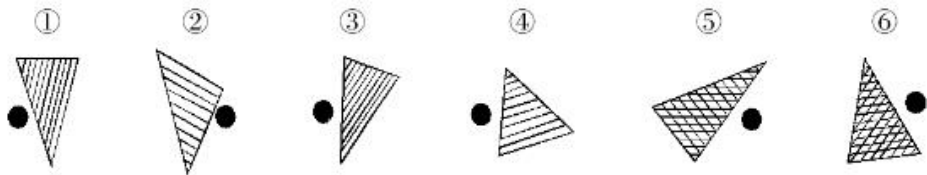
87. 从所给的四个选项中, 选择最合适的一个填入问号处, 使之呈现一定的规律性:



88. 破产原因是指企业法人不能清偿到期债务, 并且资产不足以清偿全部债务或者明显缺乏清偿能力。

根据以上定义, 下列情况属于破产原因的是:

- A. 甲公司为有限责任公司, 现有资产 1000 万元, 负债 1500 万元, 全部已到清偿期限
  - B. 甲公司为有限责任公司, 现有现金 1000 万元, 负债 1500 万元, 已到清偿期, 但甲公司对外享有 1000 万债权, 尚未到清偿期
  - C. 某合伙企业甲现有资产 100 万, 对外负债 150 万, 未到清偿期限
  - D. 某合伙企业甲现有现金 100 万元, 负债 150 万元, 已到清偿期, 但甲公司对外享有 100 万债权, 尚未到清偿期
89. 把下面的六个图形分为两类, 使每一类图形都有各自的共同特征或规律, 分类正确的一项是:



- A. ①②④, ③⑤⑥
- B. ①③④, ②⑤⑥
- C. ①②⑥, ③④⑤
- D. ①③⑤, ②④⑥

90. A、B、C、D、E 和 F 六人围一圆桌坐下。已知条件如下:

- (1) B 是坐在 A 右边的第二人
- (2) D 坐在 E 的正对面

(3) E 和 F 不相邻

那么, 坐在 A 和 B 之间的是:

A. D

B. E

C. F

D. C

91. 某公司领导根据员工小张、小李和小王的工作业绩, 提出选派他们出国培训的两个相容的选择方案: (1) 小张和小李都不派出; (2) 派出小王。

综合考虑这两个方案, 其意思可以表达为:

A. 如果小王被派出, 则小张和小李都要派出

B. 如果小张和小李都没有被派出, 则要派出小王

C. 只要小张和小李有一人派出, 就要派出小王

D. 如果小王没有被派出, 则小张和小李都要派出

92. 甲、乙、丙三名大学生应聘到湖北省担任村官, 一个去了大潮村, 一个去了龙潭村, 还有一个去了幸福村。大家做了一下猜测:

李某猜: 甲去了大潮村, 乙去了龙潭村

邓某猜: 甲去了龙潭村, 丙去了大潮村

翟某猜: 甲去了幸福村, 乙去了大潮村

后来证实李某、邓某、翟某三位的猜测都是只对了一半。

由此可以推出:

A. 甲去了大潮村, 乙去了龙潭村, 丙去了幸福村

B. 甲去了幸福村, 乙去了龙潭村, 丙去了大潮村

C. 甲去了龙潭村, 乙去了大潮村, 丙去了幸福村

D. 甲去了幸福村, 乙去了大潮村, 丙去了龙潭村

93. “点子大王”秦老师最近又要贡献一个点子给都市报报业集团。秦老师分析了目前报纸的发行时段: 早上有晨报, 上午有日报, 下午有晚报, 真正为晚上准备的报纸却没有。秦老师建议他们办一份《都市夜报》, 打开这块市场。谁知都市报报业集团却没有采纳秦老师的建议。

以下哪项如果为真, 能够恰当地指出秦老师的分析中所存在的问题?

- A.报纸的发行时段和阅读时间是不同的
- B.酒吧或影剧院的灯光都很昏暗，无法读报
- C.许多人睡前有读书的习惯，而读报的比较少
- D.晚上人们一般习惯于看电视节目，很少读报

94. 美国俄亥俄州立大学的研究人员对超过 1.3 万名 7 至 12 岁的中学生进行调查。在调查中，研究人员要求这些学生各列举 5 名男性朋友和女性朋友，然后统计这些被提名的朋友总的得票数，选取获得 5 票的人进行调查统计。研究发现，在获得五票的人当中，独生子女出现的比例与他们在这一年龄段人口中的比例是一致的，这说明他们与非独生子女的社交能力没有明显差别，并且这一结果不受父母年龄、种族和经济地位的影响。

以下哪项如果为真，最能支持上述研究发现？

- A.在没有获得选票的人当中，独生子女出现的比例高于他们在这一调查对象中的比例
- B.获得选票的独生子女人数所占比例和他们在这一调查对象中的比例基本相当
- C.在获得 1 票的人当中，独生子女出现的比例远高于他们在这一调查对象中的比例
- D.在得票前 500 名的人当中，独生子女出现的比例和他们在这一调查对象中的比例相当

95. “城乡污染转移”是指在经济发展过程中，组织或个人将造成环境污染的设备、工艺、技术、产品以及其他有形或无形的污染物质，由城市转移至农村的行为。“城乡污染转移”已成为农村环境形势日益严峻的主要原因之一。

根据上述定义，下列不属于“城乡污染转移”的是：

- A.某市水泥厂每年有 10 吨未经处理的废水流经附近乡村的河流
- B.某镇的耕地受城区搬迁过来的工厂产生的重金属残渣污染达 20 公顷
- C.为打造绿色文明城市形象，某城市将重污染的钢铁厂迁至附近的乡镇
- D.某市为保证城区用水修建水库，致使下游许多村庄农田灌溉用水不足



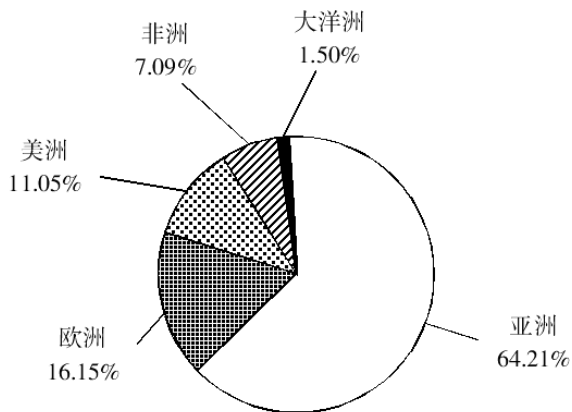
**四、资料分析 ( 请根据题目要求, 在四个选项中选出一个最恰当的答案。共 15 题, 每题 1 分, 共 15 分。 )**

**材料一:**

2011 年来华留学生 ( 不含港、澳、台地区, 下同 ) 总人数比上年增长 27521 名, 同比增幅为 10.38%。其中自费生总人数 266924 名, 比上年增长 24224 名, 其他均为中国政府奖学金生, 共计 25687 名。

**表 2011 年来华留学生人数超过 5000 名的国家及其留学生人数**

国家	人数	国家	人数
蒙古	7112	巴基斯坦	8516
韩国	62442	哈萨克斯坦	8287
日本	17961	俄罗斯	13340
越南	13549	法国	7592
泰国	14145	德国	5451
印度尼西亚	10957	美国	23292
印度	9370	—	—



**图 2011 年来自各大洲的在华留学生人数占全年在华留学生总数的比重**

96. 2011 年来华的留学生中, 中国政府奖学金生比上年增加了多少人?  
 A.2857                      B.3297                      C.3737                      D.4177
97. 2011 年来自亚洲的留学生人数约为:  
 A.152340                      B.164320                      C.187900                      D.202010

98. 若 2011 年来华韩国留学生均为自费生，则其他国家留学中，中国政府奖学金生的比重约为：

- A.9%                      B.11%                      C.15%                      D.20%

99. 关于 2011 年来华留学生状况，下列说法正确的是：

- A.德国是来华留学生人数最多的欧洲国家  
 B.来华留学生人数排名前五的都是亚洲国家  
 C.越南来华留学生人数超过非洲各国的总和  
 D.美洲来华留学生中，美国来华留学生人数占一半以上

材料二：

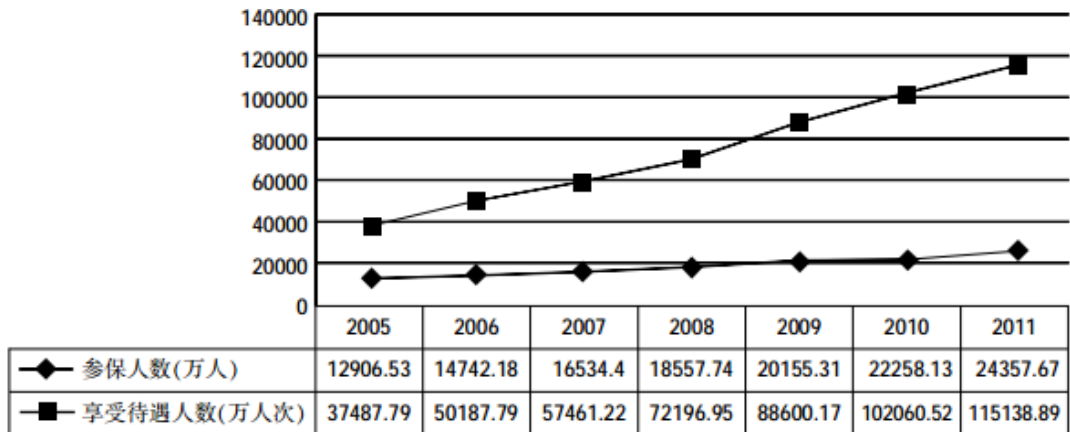


图 1 2005—2011 年城镇职工基本医疗保险参保人数和享受待遇人数

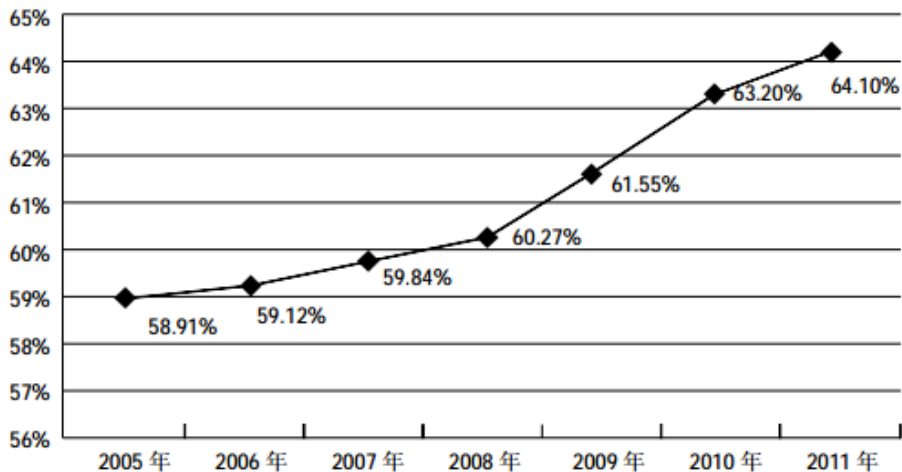


图 2005 年~2011 年城镇职工基本医疗保险平均实际报销比例变化情况

100. 2005 到 2011 年，平均每年新增城镇职工基本医疗保险参保者约为多少亿人？
- A.0.17                      B.0.19                      C.0.21                      D.0.23
101. 某职工 2008 年就医 4 次，平均每次产生费用 2400 元，每次均享受与当年全国城镇职工基本医疗保险平均实际报销比例相当的基本医疗保险待遇，则他当年自己实际支付的医疗费用约为多少钱？
- A.3406 元                      B.3814 元  
C.5193 元                      D.5785 元
102. 以下关于城镇职工基本医疗保险状况的描述正确的是：
- A.2008 年参保人数的同比增量超过其余年份  
B.2006 到 2011 年，享受待遇人次数平均每年增加不到一亿  
C.2009 到 2011 年，参保人数增长率均低于 10%  
D.2007 到 2009 年，平均每个参保人员享受的待遇人次逐年增加

材料三：

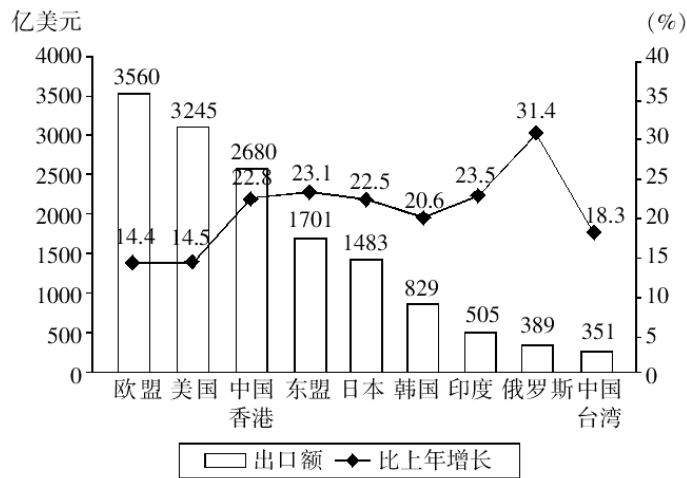


图 1 2011 年中国对部分国家和地区货物出口额及其增长率

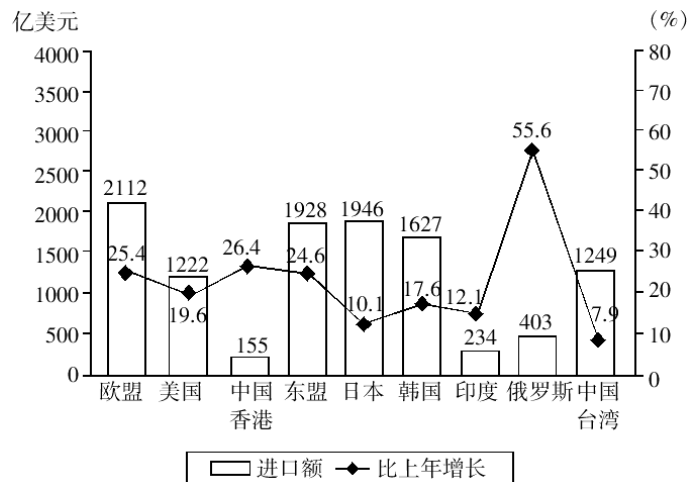


图 2 2011 年中国对部分国家和地区货物进口额及其增长率

103. 2011 年中国对图中几个国家（地区）实现贸易顺差？

- A.3
- B.4
- C.5
- D.6

104. 如只统计图中国家（地区），2011 年中国的第四大贸易伙伴（按贸易总额排序）是：

- A.中国香港
- B.东盟
- C.日本
- D.韩国

105. 图中 2011 年对中国贸易顺差最大的国家（地区），2010 年中国对其货物出口额约是多少亿美元？

- A.300                      B.400                      C.700                      D.2000

106. 图中 2011 年对中国进口和出口贸易同比增长均超过 20%的所有国家（地区），当年中国对其货物进口额的总和为多少亿美元？

- A.2486                      B.4113                      C.4770                      D.5599

**材料四：**

**表 金砖国家经济社会指标比较**

	国家	2005	2009	2010	2011
GDP (现价)亿美元	巴西	8820	16250	21430	24808
	俄罗斯	7640	12230	14870	18500
	印度	7660	12930	16030	
	中国	22580	49910	59310	73010
	南非	2470	2840	3640	3750
人均 GDP (现价)美元	巴西	4812	5867	10812	12726
	俄罗斯	5339	8616	10409	12945
	印度	692	1115	1325	
	中国	1732	3749	4434	5432
	南非	5215	5727	7250	
GDP 增长率 (不变价)%	巴西	3.2	-0.3	7.5	2.7
	俄罗斯	6.4	-7.8	4.3	4.3
	印度	15.8	12.4	23.9	
	中国	11.3	9.2	10.4	9.2
	南非	5.3	-1.5	2.9	3.1
公共教育支出 占 GDP 比重(%)	巴西		4.3		
	俄罗斯				4.1
	印度		3.9		
	中国			3.7	
	南非			10.1	

107. 2011 年中国人均 GDP 比上一年提高：

- A.44.8%                      B.144.8%                      C.122.5%                      D.22.5%

108. 2011 年中国 GDP 比巴西提高了：

- A.2.94 倍                      B.1.94 倍                      C.0.43 倍                      D.1.43 倍

109. 巴西 GDP2005~2011 年间平均每年增加：

- A.2284.00 亿美元                      B.2664.67 亿美元

- C.2812.69 亿美元                      D.1689.00 亿美元

110. 中国 2010 年公共教育支出的费用是：

- A.79.9 亿美元                      B.2194.5 亿美元

- C.90.1 亿美元                      D.190.1 亿美元

**※※※全部测试到此结束! ※※※**