

## 2020 年军队文职人员招聘考试《公共科目》

### 《行测-判断推理》每日一练

#### 单项选择题

1.如果在橙子开花季节持续干旱，橙子产量将会受到影响，今年某地在橙子开花季节出现旱情，因此有人担心橙子价格会上涨，从而使得该地橙汁饮料厂的生产成本提高。

以下最能削弱上述论证的一项是：

- A.今年橙汁饮料的价格是历年最低的
- B.该地的旱情并没有预计的严重
- C.今年该地扩大了橙子的种植面积
- D.该地橙汁饮料厂的原料供应大多来自外地

2.有人认为，语言对于个人和社会都极其重要，语言不仅能方便人际间的交流，还能产生物质资料。

以下最能反驳这一观点的是：

- A.人和人之间的交流不依靠语言
- B.言谈举止体现了一个人的修养
- C.世界上很多夸夸其谈的人却是穷光蛋
- D.世界上不少富有的人能言善道

3.时尚的一个特点是影响面广，往往不分社会地位和社会阶层，也不分男女老幼。

以下哪项如果为真，最能对上述观点提出质疑？

- A.在欧洲君主制时代，追求奢侈是一种时尚。宫廷和贵族当然不用说了，乡下姑娘进了城也追求奢华的生活，贵族阿·圣克拉拉对此感到不能容忍
- B.近来动画片《喜羊羊和灰太狼》热播，很多孩子都很喜欢看，有不少成年人还买了喜羊羊毛绒玩具放在沙发上或汽车里
- C.17、18世纪的法国，男人普遍喜欢戴假发，当然上层人和下层人的假发的等级和价格是不一样的
- D.有人把花上千元人民币去听世界顶尖钢琴家的演奏看作一种流行时尚，几个退休老人说起此事都觉得不可理解
- 4.一份研究报告指出，为接受研究的3至5岁的孩子准备的一个特殊教育方案提高了他们在今后学校教育中获得成功的可能。因此，对所有的孩子实行类似的教育方案会提高他们在今后学校教育中取得成功的机会。

如果以下哪项为真，最能削弱上面的说法？

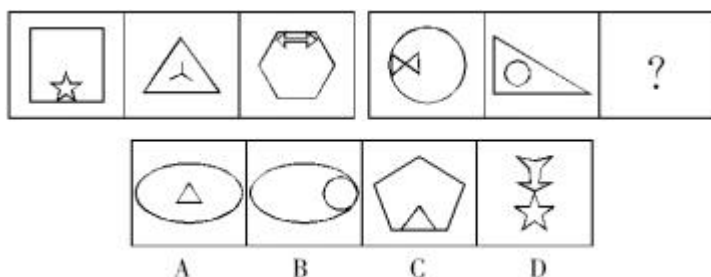
- A.学龄前儿童的父母被教育的流行风尚吸引了，他们并没有清楚孩子接受什么样的早期教育是有利的
- B.儿童在3至5岁时的认知能力是不断变化的
- C.调查人员并没有意识到他们把以前曾受到另一种教育培训的一大批孩子也包括了进来
- D.很多父母错误地认为，早期正规教育将占孩子本来可以更好地独立探索世界的时间

5.地名是各个历史时代人类活动的产物，有着丰富的历史、地理、语言、经济、民族、社会等科学内涵，是一种特殊的文化现象，是人类历史的活化石。据统计，中国古今的姓氏超过 22000 个。由此可以推测，地名中涉及姓氏的用字也不会少。

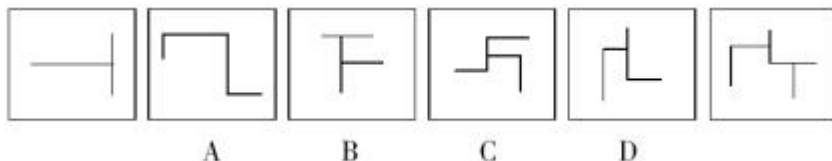
以下哪项如果为真，最能支持上述推测？

- A.这些凝聚民族、语言史料的地名，对于了解古代的部族迁徙有很大帮助
- B.宗法社会的人们往往按姓氏聚居，姓氏便成为地名中最富区别意义的亮点
- C.考古学家以河南登封县一个叫“王城岗”的古地名为线索，在那里挖掘出夏朝遗址
- D.据统计，姓陈的人在南方比较多，在北方比较少

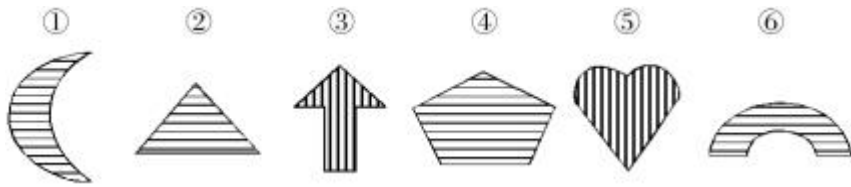
6.从所给四个选项中，选择最合适的一个填入问号处，使之呈现一定的规律性：



7.从以下图形序列中将哪一个去掉后，剩下的图形可以呈现出一定的规律性？



8.把下面的六个图形分为两类，使每一类图形都有各自的共同特征或规律，分类正确的一项是：



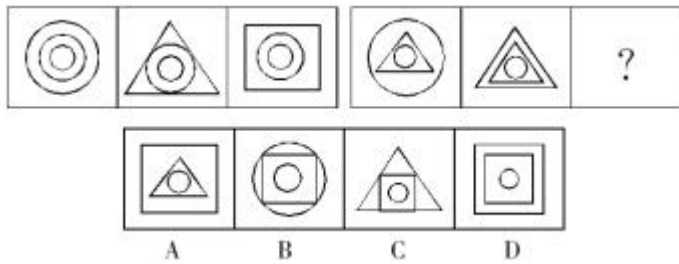
A. ①②④, ③⑤⑥

B. ①③④, ②⑤⑥

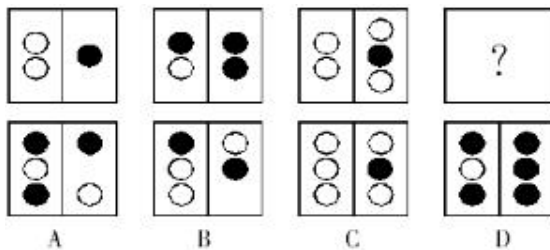
C. ①③⑤, ②④⑥

D. ①④⑤, ②③⑥

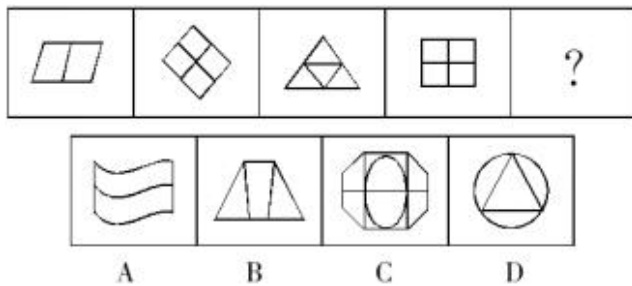
9. 从所给四个选项中, 选择最合适的一个填入问号处, 使之呈现一定的规律性:



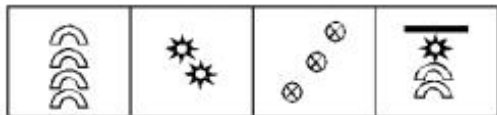

10. 从所给四个选项中, 选择最合适的一个填入问号处, 使之呈现一定的规律性:



11. 从所给四个选项中, 选择最合适的一个填入问号处, 使之呈现一定的规律性:




12. 从所给四个选项中, 选择最合适的一个填入问号处, 使之呈现一定的规律性:



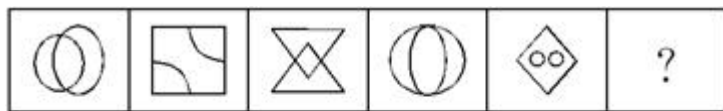
A B C D

13. 从所给四个选项中，选择最合适的一个填入问号处，使之呈现一定的规律性：



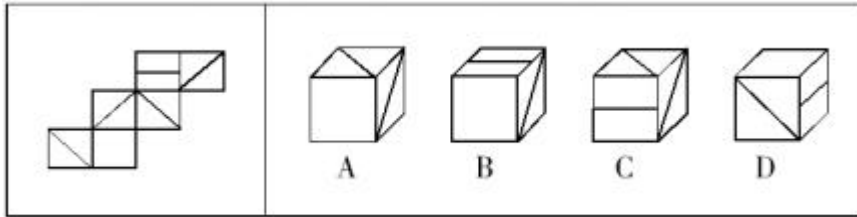
A B C D

14. 从所给四个选项中，选择最合适的一个填入问号处，使之呈现一定的规律性：

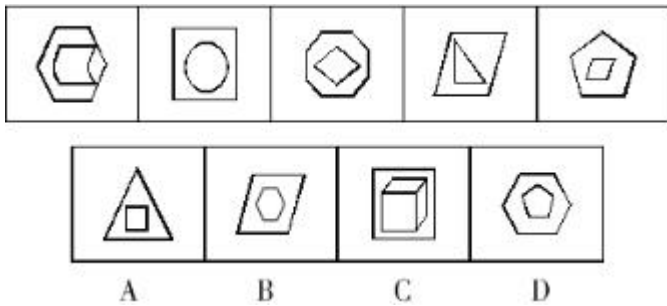


A B C D

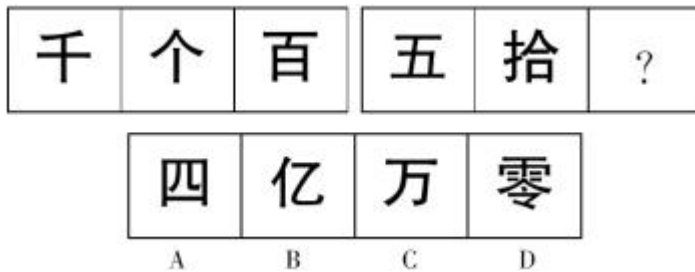
15. 左边给定的是纸盒的外表面，下面哪一项能由它折叠而成？



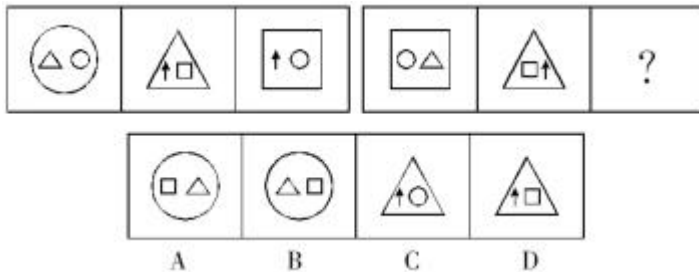
16. 从所给四个选项中，选择最合适的一个，使之呈现一定的规律性：



17. 从所给四个选项中，选择最合适的一个填入问号处，使之呈现一定的规律性：

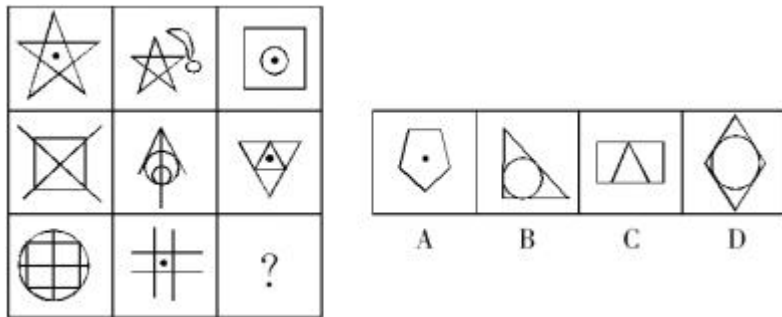


18. 从所给四个选项中，选择最合适的一个填入问号处，使之呈现一定的规律性：

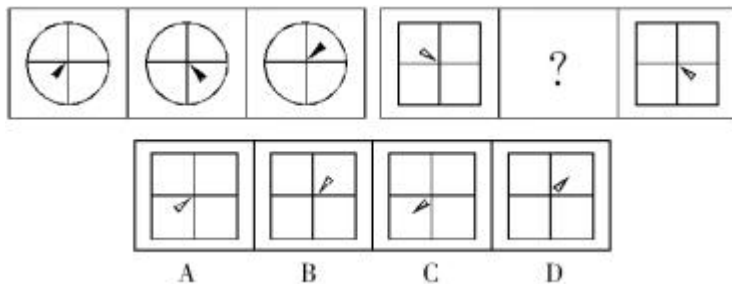




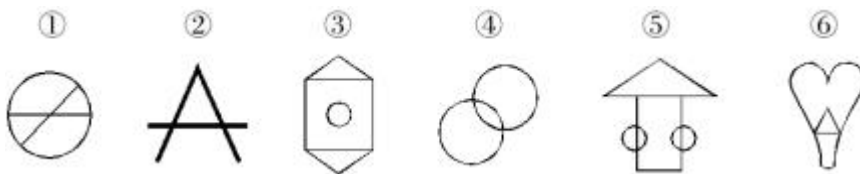
23.从所给四个选项中，选择最合适的一个填入问号处，使之呈现一定的规律性：



24.从所给四个选项中，选择最合适的一个填入问号处，使之呈现一定的规律性：



25.把下面的六个图形分为两类，使每一类图形都有各自的共同特征或规律，分类正确的一项是：



A.①②④，③⑤⑥

B.①③④，②⑤⑥

C.①③⑤，②④⑥

D.①④⑤，②③⑥

26.假性道德是指一个本来非常可鄙的行为，到了一个很多人都从事这一可鄙行为的地方，却具有了道德的内涵，它是建立在对他人恶意的揣测之上的，是以公平的名义与某种可鄙行为同流合污。



根据以上定义，下列各项中不属于假性道德的是：

- A.甲同学说：“大家考试都作弊，为什么我不可以作弊？”
- B.乙官员说：“大家都贪污，我贪点算什么？”
- C.丙司机说：“大家都违规，我不违规不就亏了吗？”
- D.丁说：“大家都跳下水救人了，我只能硬着头皮跳下去了。”

27.信息共享是指不同人员、不同部门、不同层次之间，利用网络平台，对相关信息进行系统连接，使信息资源得到充分的开发利用。

下列不属于信息共享的是：

- A.大学毕业生李红在 QQ 上建了一个群，同班同学都加入了
- B.某县所有党政机关都建立了 OA 系统，实现了无纸化办公
- C.某研究所将全部项目研究资料刻录成光盘，职工人手一套
- D.校团委在校园网 BBS 论坛上成功组织了校长与新生的对话

28.行政领导是指在一定的行政环境下，行政领导者为实现一定的行政目标对被领导者所进行的统帅、率领和引导的行为过程。

根据以上定义，下列不属于行政领导的是：

- A.行政领导者以个人名义组织了一个宴会，邀请下级来参加
- B.行政领导者提出一个施政纲领，通过号召动员大会，使下级朝目标积极前进
- C.行政领导者建立一定的组织制度和机构体系，选拔和使用行政人员
- D.行政领导者提出改善市区环境的意见，通过宣传讲解，让下级接受

29.人格化指的是对动物、植物以及非生物赋予人的特征，使他们具有人的思想感情和行  
为。

根据上述定义，以下诗句中没有使用人格化的是：

- A.娉娉袅袅十三余，豆蔻梢头二月初
- B.谁言寸草心，报得三春晖
- C.请君试问东流水，别意与之谁短长
- D.云想衣裳花想容，春风拂槛露华浓

30.海关是对出入国境的一切商品和物品进行监督、检查并照章征收关税的国家机关。

根据上述定义，海关工作人员在执勤时可以：

- A.查验他人行李
- B.拍摄他人肖像
- C.检查他人身体
- D.扣留他人一天

31.无因管理是指没有法律上的义务而管理他人事务的行为。

下列行为属于无因管理的是：

- A.萧红上大学走后，其父母为其保管所收集的邮票
- B.韩建外出旅游，邻居王大妈帮她修缮房屋
- C.王新带侄子去游泳，侄子落水呼救，王新将他救上来
- D.某居民楼下水道被堵，物业管理处派人前去疏通

32.受贿罪是指国家工作人员利用职务上的便利，索取他人财物，或者非法收受他人财物，  
为他人谋取利益的行为。

下列不属于受贿罪构成要件的是：

- A.主体为特殊主体，即国家工作人员
- B.主观是有受贿的故意
- C.受贿者为行贿者提升职务
- D.客观方面表现为利用职务上便利，索取他人财物，或者非法收受他人财物，为他人谋取利益的行为

33.行政处理是行政主体为了实现法律、法规和规章确定的行政管理目标和任务，应行政相对人申请或依职权处理涉及特定行政相对人特定权利义务事项的具体行政行为。所谓行政相对人是指在行政法律关系中与行政主体相对应的另一方当事人。

下列行为属于行政处理的是：

- A.中央作出开发西部的战略规划
- B.全国人大提出修改《婚姻法》
- C.公安机关通缉刑事犯罪人员
- D.县卫生局对医疗事故作出处理

34.缔约过失是指当事人在缔约过程中具有过失，从而导致合同不成立、无效或被撤销，致使他方当事人受到损害的情况。

根据以上定义，下列属于缔约过失的是：

- A.甲将其所有的房屋转让给乙取得定金 10 万，之后见丙出价高又卖给丙并办理了房屋转让过户登记
- B.甲租住了一套房屋，因近期生意不景气手头紧，遂将该房屋卖给乙，骗取定金 10 万后逃逸

- C.甲根据乙的指示将货物送货上门，运输途中遭遇暴雨，货物毁损，遭乙拒收
- D.甲乙签订了一份技术转让协议，后因技术原因无法实施，合同终止

35.偷换概念是指在思维和论辩过程中自觉或不自觉地违反同一律的逻辑要求，用一个概念去替换另一个不同的概念而产生的逻辑错误。

根据上述定义，下列属于偷换概念的是：

- A.这件事情我没有问过，只是侧面了解一下情况，提点意见，仅供参考
- B.如果把丈夫定义为妻子的爱人，那么，妻子就是丈夫的爱人
- C.为了加快中国的发展，必须大力发展航天工业，因为在发达国家，航天工业发展很快
- D.有西方记者问：“在你们中国，明明是人走的路为什么叫马路？”周恩来答道：“我们走的是马克思主义道路，简称马路。”

36.自行车 对于 ( ) 相当于 ( ) 对于 卡车

- A.单车，轿车
- B.轿车，马车
- C.飞机，火箭
- D.马路，桥梁

37.社会：和谐

- A.关系：冷淡
- B.剥削：反抗
- C.反感：同情
- D.银行：贷款

38.绵羊：畜牧：草原

- A.鱼虾：海产：湖水
- B.书本：书桌：学校
- C.小鸟：鸣叫：树林
- D.白鸭：家禽：河塘

39. 颓废：奋发

A. 厌恨：发怒

B. 爱戴：憎恨

C. 恋爱：分手

D. 隐藏：发现

40. ( ) 对于 黎族 相当于 国家 对于 ( )

A. 白族，越南

B. 种族，巴黎

C. 蒙古，英语

D. 民族，波兰