

2019 年内蒙古自治区高校毕业生“三支一扶”

计划招募考试

《基本素质测试》每日一练

第一部分 公共基础知识

1. 十九大提出实施乡村振兴战略破解“三农”问题，解决“三农”问题的根本途径是：

- A. 科技创新
- B. 加大资金投入
- C. 城镇化
- D. 城乡发展一体化

2. 习近平同志在十九大报告中指出，经过长期努力，中国特色社会主义进入了新时代，我国社会主要矛盾已经转化为人民日益增长的美好生活需要和_____之间的矛盾。

- A. 落后的社会生产力
- B. 精神文化需求不满足
- C. 社会贫富两极分化
- D. 不平衡不充分的发展

3. 十九大报告指出，_____是民族昌盛和国家富强的重要标志。要完善国民健康政策，为人民群众提供全方位全周期健康服务。

- A. 经济发展
- B. 政治清明
- C. 文化繁荣
- D. 人民健康

4. 2018 年《政府工作报告》指出，推动农村各项事业全面发展。改善_____等基础设施，新建改建农村公路 20 万公里。

- A. 供水、供电、水利
- B. 供水、供电、信息
- C. 道路、供电、信息
- D. 供水、供电、桥梁

5. 十九届三中全会提出，深化党和国家机构改革的目标要立足实现第一个百年奋斗目标，针对_____，抓重点、补短板、强弱项、防风险，从党和国家_____上为决胜全面建成小康社会提供保障。

- A. 突出矛盾 组织职能
- B. 突出矛盾 机构职能

C.突出问题 组织职能 D.突出问题 机构职能

6.2018年11月14日,李克强在新加坡会展中心出席第21次中国—东盟(10+1)领导人会议暨庆祝中国—东盟建立战略伙伴关系_____周年纪念峰会。

A.15 B.16 C.17 D.18

7.2018年11月17日,“两弹一星”功勋奖章获得者,2013年国家最高科学技术奖获得者,2017年“八一勋章”获得者_____院士在京病逝,享年101岁。

A.程开甲 B.郭永怀 C.任新民 D.陈能宽

8.2018年10月9日,赵乐际出席十九届中央第二轮巡视工作动员部署会并讲话。他强调,要持续深入学习贯彻习近平新时代中国特色社会主义思想 and 党的十九大精神,提高_____,强化巡视监督,推动落实脱贫攻坚_____,为打赢脱贫攻坚战提供有力保障。

A.政治意识 政治责任 B.政治意识 政治目标

C.政治站位 政治责任 D.政治站位 政治目标

9.2018年9月15日,以“_____”为主题的2018年全国科普日活动在全国范围内同步启动。

A.科技引领时代,智慧点亮生活 B.科技引领时代,科技点亮生活

C.创新引领时代,智慧点亮生活 D.创新引领时代,科技点亮生活

10.2018年10月17日,是第_____个国家扶贫日。

A.三 B.四 C.五 D.六

11.辩证法的否定即“扬弃”,其含义是:

A.抛弃

B.事物中好的方面和坏的方面的组合

C.纯粹的否定

D.既克服又保留

12.德国著名的物理学家普朗克曾指出:研究人员的世界观将永远决定着他的工作方向。这句话表明了:

A.哲学凌驾于具体科学之上

B.哲学对具体科学的决定作用

C.哲学源于具体科学

D.哲学对具体科学的指导意义

13.下列属于主观唯心主义的是:

- A.道生一，一生二，二生三，三生万物
- B.吾心即宇宙
- C.人之初，性本善
- D.存天理，灭人欲

14.汉代的思想家董仲舒说：“古之天下，亦今之天下，今之天下，亦古之天下。”

这种观点是:

- A.形而上学观点
- B.唯心论观点
- C.辩证法观点
- D.唯物论观点

15.下列观点正确反映思维和存在的关系的是:

- A.形存则神存，形谢则神灭
- B.存在就是被感知
- C.物是观念的集合
- D.人的理性为自然界立法

16.马克思主义哲学产生的自然科学基础是:

- A.系统论、控制论、信息论
- B.细胞学说、能量守恒和转化定律、生物进化论
- C.古典力学、量子力学、相对论
- D.电子学、高分子化学、分子生物学

17.下列各项中，属于生产力基本构成要素的是:

- A.生产资料
- B.经济基础
- C.生产关系
- D.生产方式

18.物质的根本属性是:

- A.客观实在性
- B.运动
- C.物理结构
- D.质和量的统一

19.意识产生的决定性环节是:

- A.语言
- B.人脑的进化
- C.劳动
- D.动物的心理

20.“意识一开始就是社会的产物,而且只要人们还存在着,它就仍然是这种产物”,这是_____的一种观点。

- A.朴素唯物主义
- B.庸俗唯物主义
- C.辩证唯物主义
- D.形而上学唯物主义

21.中国共产党内第一个提出“毛泽东思想”科学概念的是:

- A.周恩来
- B.刘少奇
- C.朱德
- D.王稼祥

22.毛泽东思想的本质特征是:

- A.马克思主义的共产主义目标
- B.马克思主义同中国具体实际相结合
- C.马克思主义注重解放和发展生产力
- D.马克思主义的为人民服务的宗旨

23.1949年新民主主义革命取得胜利,建立了新中国,这时的新中国是:

- A.资产阶级专政的共和国
- B.无产阶级专政的共和国
- C.几个革命阶级联合专政的共和国
- D.民族资产阶级专政的共和国

24.毛泽东在湘赣边界发动秋收起义后,最先建立的革命根据地是:

- A.湘赣根据地
- B.湘西根据地
- C.井冈山根据地
- D.赣东北根据地

25.中国共产党在民主革命中战胜敌人的三大法宝是:

- A.土地革命、游击战争、党的建设
- B.统一战线、武装斗争、党的建设
- C.武装斗争、土地革命、统一战线
- D.土地革命、党的建设、统一战线

26.十九大报告指出,实现伟大梦想,必须推进伟大事业。_____是改革开放以来党的全部理论和实践的主题,是党和人民历尽千辛万苦、付出巨大代价取得的根本成就。

- A.邓小平理论
- B.中国特色社会主义
- C.科学发展观
- D.习近平系列讲话

27.习近平新时代中国特色社会主义思想形成的时代背景是:

- A.中国特色社会主义进入新时代
- B.中国特色社会主义进入新阶段
- C.中国特色社会主义进入新时期
- D.中国特色社会主义进入新世纪

28.十八大以来,国内外形势变化和我国各项事业发展都给我们提出了一个重大时代课题,这个时代课题是:

- A.什么是社会主义,怎么建设社会主义
- B.坚持和发展什么样的中国特色社会主义、怎样坚持和发展中国特色社会主义
- C.建设什么样的党,怎么建设党
- D.实现什么样的发展,怎样发展

29.习近平新时代中国特色社会主义思想中明确中国特色社会主义最本质的特征和中国特色社会主义制度的最大优势是:

- A.人民当家作主
- B.依法治国
- C.中国共产党的领导
- D.以德治国

30.下列不属于新时代坚持和发展中国特色社会主义的基本方略的是:

- A.坚持全面深化改革
- B.坚持全面依法治国
- C.坚持全面从严治党
- D.坚持全面建成小康

31.十九大报告指出,坚持立党为公、执政为民,践行全心全意为人民服务的根本宗旨,把党的群众路线贯彻到治国理政全部活动之中,把人民对美好生活的向往作为奋斗目标,依靠人民创造历史伟业则必须:

- A.坚持党对一切工作的领导
- B.坚持以人民为中心
- C.坚持全面从严治党
- D.坚持社会主义核心价值观

32.党的十九大报告指出,_____是发展的根本目的。

- A.实现共同富裕
- B.实现中华民族伟大复兴
- C.增进民生福祉
- D.全面建成小康

33.创新,包括理论创新、制度创新、科技创新以及其他各方面的创新,其中,最为关键的是:

- A.制度创新
- B.科技创新
- C.理论创新
- D.文化创新

34.坚持创新发展、协调发展、绿色发展、开放发展、_____,是关系我国发展全局的一场深刻变革。

- A.科学发展
- B.共享发展
- C.融合发展
- D.可持续发展

35.党是十八届五中全会提出的五大发展理念中,_____注重的是解决发展动力问题。

- A.开放
- B.协调
- C.创新
- D.共享

36.社会主义民主政治的本质和核心是：

- A.建立公共文化服务体系
- B.人民具有更高的文明素质
- C.人民当家做主
- D.依法治国

37.国家制度的核心是：

- A.政体
- B.国体
- C.国家结构形式
- D.政党制度

38.党的十九大报告指出，_____是具有中国特色的制度安排，是社会主义协商民主的重要渠道和专门协商机构。

- A.人大及常委会
- B.政府
- C.人民政协
- D.全国工商联

39.党的十九大报告指出，人民政协工作要聚焦党和国家中心任务，围绕_____两大主题，把协商民主贯穿政治协商、民主监督、参政议政全过程，完善协商议政内容和形式，着力增进共识、促进团结。

- A.协作和民主
- B.团结和合作
- C.民主和合作
- D.团结和民主

40.科学发展观，第一要义是发展，核心是以人为本，基本要求是全面、协调、可持续，根本方法是：

- A.改革开放
- B.统筹规划
- C.总揽全局
- D.统筹兼顾

- 41.法的指引作用针对的是:
- A.本人的行为
 - B.他人的行为
 - C.一般人的行为
 - D.违法者的行为
- 42.甲公司向乙公司购买了 10 台空调。在这一买卖法律关系中,空调属于:
- A.法律事实
 - B.法律关系的主体
 - C.法律关系的客体
 - D.法律关系的内容
- 43.法律形式又称:
- A.法律规定
 - B.法律渊源
 - C.法律条文
 - D.法律文件
- 44.按照法律的地位和效力等级,下列排序正确的是:
- A.宪法>行政法规>法律>地方性法规
 - B.法律>宪法>行政法规>地方性法规
 - C.宪法>法律>行政法规>地方性法规
 - D.宪法>法律>地方性法规>行政法规
- 45.我国公民在法律面前人人平等指的是:
- A.权利的平等性
 - B.权利的广泛性
 - C.权利的真实性
 - D.权利的平衡性
- 46.根据宪法及相关法律规定,国家的最高监督权由_____行使。
- A.全国人民代表大会
 - B.全国人民代表大会常务委员会
 - C.最高人民法院

D.最高人民法院

47.根据《宪法》规定，全国人民代表大会的职权包括：

A.决定驻外全权代表的任免

B.解释宪法，监督宪法的实施

C.制定和修改刑事、民事、国家机构和其他基本法律

D.撤销国务院制定的同宪法、法律相抵触的行政法规、决定和命令

48.根据我国宪法规定，不属于国家主席的职权：

A.公布法律

B.进行国事活动

C.国家立法权

D.任免国务院总理

49.下列对我国国务院的性质和地位理解不正确的是：

A.国务院是中央人民政府

B.国务院是我国最高国家权力机关的执行机关

C.地方各级人民政府都是它的下级单位

D.国务院与全国人大并非从属关系

50.下列不属于国家机构组成部分的是：

A.全国人大

B.国家主席

C.国务院

D.全国政协

51.我国现行宪法是新中国成立以后制定颁布的第_____部宪法。

A.1

B.2

C.3

D.4

52.下列哪一项不属于宪法规定的公民的基本权利？

A.环境权

B.平等权

C.出版自由

D.受教育权

53.中国现行的宪法是在_____颁布的。

A.1954年

B.1976年

C.1982年

D.1987年

54.下列不属于民法调整的是:

- A.某人民法院对何某做出管制 5 个月判决
- B.某小区居民王某与莫某直接缔结婚姻关系
- C.某合伙企业与社会人员张某形成雇佣合同关系
- D.某工商局与公民陈某之间订立日用品买卖合同

55.甲拥有一栋房子,准备转让给乙,于是甲与乙依法签订了一份房屋买卖合同,但双方都没有时间去办理物权登记手续,在这种情况下,房屋所有权属于:

- A.甲
- B.乙
- C.甲乙共有
- D.政府

56.张三被车撞伤,李四经过时看到并拦下出租车将其送往医院,还垫付了出租车费用,后张三发现手机丢失,要求李四赔偿。对此表述正确的是:

- A.车费张三支付,手机李四赔偿
- B.车费张三不支付,手机李四赔偿
- C.车费张三支付,手机李四不赔偿
- D.车费张三不支付,手机李四不赔偿

57.甲偶然获得乙的夫妻亲密照片,便在网络上发布,甲的做法侵犯了乙的:

- A.肖像权
- B.人格尊严
- C.人身安全
- D.隐私权

58.关于物权的说法,正确的是:

A.物权是一种“对世权”,它的权利主体总是特定的人,而义务主体则不是特定的人

- B.物权的客体是特定的独立的物或精神财富
- C.物权不具有追及权和优先权
- D.特殊情况下,同一物存在内容互不相容的两个物权

59._____是所有权中带有根本性的一项权能。

- A.占有
- B.使用
- C.收益
- D.处分

60.代理人应以_____的名义而行使代理权。

- A.被代理人
- B.自己
- C.代理人所在机构
- D.被告

61. 行为人没有约定或法定的义务, 为避免他人利益受损失而进行管理或服务所实施的行为是:

- A. 侵权行为 B. 不当得利 C. 无因管理 D. 违法行为

62. 我国对作品实行_____原则, 作者在作品完成时即取得著作权, 受法律保护。

- A. 实际履行 B. 协作履行 C. 自动保护 D. 先申请

63. 某大学生甲去水房打水, 回来的时候遇到两个学生乙丙在踢足球, 为了使热水瓶不被足球踢碎, 甲便将热水瓶高高举起, 由于热水瓶的质量问题导致热水瓶突然爆裂, 热水将甲乙丙三人烫伤。就三人受损害下列哪一观点正确?

- A. 甲可以向热水瓶的销售者、制造者要求承担赔偿责任
B. 甲也可以要求乙丙承担赔偿责任
C. 乙丙不可以向热水瓶的销售者、制造者要求承担赔偿责任
D. 乙丙可以向甲要求承担赔偿责任

64. 养花专业户李某为防止有人偷花, 在花房周围私拉电网。一日晚, 白某偷花不慎触电, 经送医院抢救, 不治身亡。李某对白某死亡的主观心理态度是:

- A. 直接故意 B. 间接故意
C. 过于自信的过失 D. 疏忽大意的过失

65. 甲乙积怨较深, 一日见乙被人砍伤在路边, 奄奄一息, 但未死亡, 甲未采取任何措施而走开, 后乙因失血过多而死亡。下列说法正确的是:

- A. 甲的行为构成作为犯罪
B. 甲的行为构成见危不救罪
C. 甲的行为构成不作为犯罪
D. 甲仅违反道德义务, 不构成不作为犯罪

66. 犯罪的未遂可能发生在:

- A. 犯罪着手以前 B. 犯罪着手之后
C. 犯罪预备阶段 D. 犯罪中止之后

67. 刑法的主刑有:

- A. 拘役、有期徒刑、无期徒刑、死刑
B. 管制、拘役、有期徒刑、无期徒刑、死刑
C. 拘役、有期徒刑、无期徒刑、死刑、没收财产和驱逐出境

D.拘役、有期徒刑、无期徒刑、死刑、剥夺政治权利

68.王明在某小区盗窃财物，被保安发现，用刀将保安刺伤后逃跑，王明犯了：

- A.盗窃罪
- B.抢劫罪
- C.抢夺罪
- D.故意伤害罪

69.王某持匕首抢劫张某，在争斗中王某头部撞击墙上昏迷，张某见状，捡起匕首往王某心脏上猛刺致死，张某的行为是：

- A.正当防卫，不负责任
- B.意外事件，不负责任
- C.防卫过当，应负责任
- D.故意杀人，应负责任

70.下列行为中构成犯罪的是：

- A.甲，13 周岁，初中生，因网瘾成性杀死亲生母亲
- B.乙，18 周岁，在校大学生，驾车撞死路人并逃逸
- C.丙，25 周岁，公司职员，遭人抢劫奋起反击，将抢劫者打伤
- D.丁，35 周岁，警察，征用路人的私家车追捕网上逃犯

71.根据我国刑法有关规定，减刑以后实际执行的刑期，判处管制、拘役、有期徒刑的不能少于：

- A.原判刑期的三分之一
- B.原判刑期的二分之一
- C.一年
- D.二年

72.我国刑法规定，_____阶段怀孕的妇女和犯罪时未满十八周岁的未成年人不得执行死刑。

- A.逮捕
- B.传唤
- C.审判
- D.调查

73.共同犯罪是指_____人以上共同故意犯罪。

- A.2
- B.4
- C.3
- D.5

74.某市政府决定关闭一影响市容环境的屠宰场，并给予受到损失的业主以相应的经济补偿。市政府的这一行为体现了行政许可的：

- A.比例原则
- B.合法性原则
- C.合理性原则
- D.信赖保护原则

75.在行政诉讼法律关系中，原告特有的诉讼权利是：

- A.委托诉讼代理人
- B.撤诉
- C.申请回避
- D.提起上诉

76.我国《行政诉讼法》规定,下列能够成为行政诉讼被告的是:

- A.张大力,男,22周岁
B.吉林省宏峰房地产有限公司
C.长春市公安局
D.美美理发店

77.下列关于行政行为的说法正确的是:

- A.行政行为是行政相对人的行为
B.行政行为是行政机关工作人员的行为
C.行政行为是行政主体的行为
D.行政行为是行政法律关系当事人的行为

78.公民、法人或者其他组织对行政机关的_____不服,不可以申请行政复议。

- A.行政处罚
B.行政强制措施
C.民事纠纷调解
D.行政许可

79.若某公司对河北省政府作出的具体行政行为不服,可向_____申请复议,对复议决定不服的,可:

- A.国务院 提起行政诉讼
B.省政府 提起行政诉讼或向国务院申请裁决
C.国务院 终局裁决
D.省政府 再次向省政府提起行政复议

80.违法事实确凿、有法定依据。且拟处以较小数额罚款或警告,则此种情况下可适用的行政处罚决定程序种类是:

- A.简易程序
B.一般程序
C.听证程序
D.合议程序

81.某公司对年内被评为优秀的员工赠送高尔夫球俱乐部一年有效期会员证,此举属于:

- A.工资激励
B.晋升激励
C.精神激励
D.物质激励

82.成员基于共同心理或者情感需求而自发聚集在一起形成的组织被称为:

- A.正式组织
B.非正式组织
C.机械式组织
D.有机式组织

83.“骏马能历险,犁田不如牛;坚车能载重,渡河不如舟”,这句话启发我们在用人方面要坚持:

- A.德才兼备原则
B.适才适用原则

- C.法治管理原则
D.任人唯贤原则
- 84.行政管理活动的实质和核心是：
A.行政执法 B.行政指导 C.行政监督 D.行政职能
- 85.行政管理的首要环节和各项管理功能的基础是：
A.管理决策 B.行政决策 C.行为决策 D.科学决策
- 86.一般监督和专门监督构成：
A.一般专门监督 B.行政系统的内部监督
C.行政系统的外部监督 D.政党监督
- 87.以下关于公文说法错误的是：
A.上行文应当标注签发人姓名
B.标题由发文机关名称和事由组成
C.发文机关署名须署发文机关全称或者规范化简称
D.涉密公文应当标注份号
- 88._____是公文的核心部分。
A.标题 B.正文 C.印章 D.附件
- 89.公告与通告的区别在于：
A.前者应写明主送单位，后者不需写明主送单位
B.前者范围大，后者范围小
C.前者可登报，后者不可登报
D.前者内容复杂，后者内容简单
- 90.通告和通知共同具有的一个特征是：
A.独特性 B.指导性 C.知照性 D.政策性
- 91.公文中，_____适用于向上级机关汇报工作、反映情况、答复上级机关的询问。
A.报告 B.请示 C.批复 D.函
- 92.××市教育局欲申请财政支持，拟写请示，公文的主送机关应为：
A.××市财政局 B.××市人民政府
C.××省人民政府 D.××市人民政府、××市财政局

- 93.在一定时期内一种商品需求量的变动对价格变动的反映程度是指：
- A.需求价格弹性
B.供给价格弹性
C.需求单位弹性
D.需求完全弹性
- 94.不同商品的需求量对价格变动的反应程度不同，受价格变动影响较大的是：
- A.高档耐用品
B.生产用品
C.生活必需品
D.生活用品
- 95.下列属于商业银行职能的是：
- A.货币发行
B.最终贷款
C.商业贷款
D.执行货币政策
- 96.当社会总需求小于社会总供给时，一般不宜采取：
- A.均衡的货币政策
B.紧缩的货币政策
C.扩张的货币政策
D.松散的货币政策
- 97.下列哪一个根据人们通常将之作为衡量一个家庭生活水平高低的尺度：
- A.贝恩指数
B.幸福指数
C.基尼指数
D.恩格尔指数
- 98._____被称为社会经济活动的“内在稳定器”。
- A.货币政策
B.财政政策
C.产业政策
D.投资政策
- 99.基尼系数是衡量一个国家：
- A.收入分配公平程度
B.城乡发展差距
C.经济发展水平
D.居民穷富程度
- 100.拉动经济增长的最主要力量被称为国民经济“三驾马车”，是指：
- A.投资、消费和出口
B.投资、消费和生产
C.调控、消费和市场
D.国民消费需求、国外市场需求和货币投资
- 101.在社会主义市场经济条件下，我国的宏观经济调控的主要手段是：
- A.计划手段
B.行政手段
C.法律手段
D.经济手段

102.再分配主要实现手段是:

- A.通过宏观调控机制
- B.通过市场运行机制
- C.通过国家行政手段
- D.实施社会保障制度

103.深化事业单位人事制度改革必须遵循的基本原则是:

- A.分类管理
- B.分级管理
- C.统一管理
- D.集中管理

104.事业单位与受聘人员建立聘用关系应依法订立聘用合同。聘用合同类型包括:

- A.短期合同、中期合同、长期合同、项目合同
- B.短期合同、中期合同、永久合同、项目合同
- C.岗位合同、短期合同、中期合同、长期合同
- D.岗位合同、短期合同、中期合同、永久合同

105.下列关于地震自救表述不正确的是:

- A.为防止次生灾害的发生,首先要切断电源、气源,防止火灾发生
- B.应疏散到高大建筑物、窄小胡同、陡山坡及河岸边
- C.在家中要避免险,可选择较安全的地方(如桌子底下)躲避
- D.住单元楼内,可选择开间小的卫生间、厨房、储藏室及墙角躲避

106.当你一走近感应玻璃门,它就会自动向左右打开;你一走远,它又自动关上。

玻璃门是靠_____感应到人来的。

- A.震动
- B.人体移动
- C.紫外线
- D.红外线

107.红外线是太阳光线中众多不可见光线的一种,由德国科学家霍胥尔于 1800 年发现。它之所以不能被人看到是因为:

- A.超出了可见光谱范围
- B.低于视觉刺激阈限
- C.不能刺激锥体细胞
- D.不能刺激棒体细胞

108.运输危险品货物的列车发生泄漏、火灾、爆炸时,车上人员应:

- A.迅速向下风方向或高坡地段转移
- B.迅速向上风方向或低坡地段转移
- C.迅速向上风方向或高坡地段转移
- D.迅速向下风方向或低坡地段转移

109.测量出已知位置的卫星到用户接收机之间的距离,然后综合多颗卫星的数据就可知道接收机的具体位置,这就是 GPS 的工作原理, GPS 简称为:

- A.“伽利略”导航系统
- B.“格洛纳斯”导航系统
- C.全球定位系统
- D.北斗系统

110.人体内的染色体对数为:

- A.24
- B.23
- C.42
- D.46

111.DNA 分子结构是:

- A.线型结构
- B.双螺旋结构
- C.环状结构
- D.带状结构

112.汽车行驶时突然刹车,这时,乘客的身体会向前倾。这种现象体现的物理原理是:

- A.万有引力定律
- B.库仑定律
- C.欧姆定律
- D.惯性定律

113.超导技术主要运用在:

- A.公交车
- B.水稻增产
- C.磁悬浮列车
- D.医疗器械灭菌

114.在南极上空,臭氧不断地减少,并形成了臭氧空洞,这是因为:

- A.人类活动中排放大量的含氟化合物
- B.南极的气候变暖
- C.地壳活动
- D.太阳的辐射太强烈

115.第二次工业革命以_____的广泛应用为主要标志。

- A.水力
- B.蒸汽
- C.石油
- D.电力

116.人体摄取维生素 D 的主要食物来源不包括:

- A.鱼肝油
- B.奶制品
- C.蛋
- D.果仁

117.大雁在飞翔时队形有时是“一”字形,有时是“人”字形,影响它们飞行时队形变化的主要原因是:

- A.大雁数量
- B.飞行方向

C.地磁线角度 D.风向的变化

118.20 世纪的四项重大发明是指激光器、计算机、原子能和:

A.基因工程 B.纳米材料 C.半导体 D.宇宙飞船

119.20 世纪 80 年代初中国提出了“蓝色革命”的新构想,其科学含义是:

A.填海造城
B.利用海水提炼食盐
C.利用现代科学技术向海洋乃至内陆水域索取人们需要的众多优质水产品
D.利用现代科学技术使海洋和内陆水域变得更蓝

120.根据板块构造学说,地球的岩石圈分为六大板块,而唯一全是海洋的板块是:

A.亚欧板块 B.印度洋板块
C.太平洋板块 D.南极洲板块

121.自然科学中最早出现的科学是:

A.数学 B.天文学 C.医学 D.化学

122.在世界上第一次把圆周率精确到小数点后 7 位数的科学家的是:

A.毕达哥拉斯 B.亚里士多德 C.袁天罡 D.祖冲之

123.DNA 是人类进行亲子鉴定的主要依据。就 DNA 的组成,下面说法正确的是:

A.DNA 由核糖、碱基和磷酸组成
B.DNA 由脱氧核糖、磷酸和碱基组成
C.DNA 由脱氧核糖、磷酸、碱基和蛋白质组成
D.DNA 由脱氧核糖、磷酸、碱基和脂肪组成

124.土壤的酸性太强会带来害虫和疾病,阻碍植物生长,并析出有毒金属。目前,造成我国土壤酸化的主要原因是:

A.空气中二氧化碳浓度增大
B.滥施化肥
C.酸雨
D.大面积种植单一作物,生物多样性遭到破坏

125.通过在探路仪内装一个超声波发射器,可使盲人发现障碍物,“探路仪”采用了仿生技术,其模仿的动物是:

A.萤火虫 B.苍蝇 C.鱼 D.蝙蝠

126.近年来,转基因食品的研发迅猛发展,产品品种及产量也成倍增长,但它的成熟和不确定性,使得转基因食品的安全性成为人们关注的焦点。转基因是一种新兴的:

- A.新材料技术手段
- B.信息技术手段
- C.生物技术手段
- D.能源技术手段

127.空难事故发生后,飞机往往解体,甚至被烈火烧毁。人们到现场救援的时候,总是会寻找一个东西,这就是被誉为空难“见证人”的黑匣子。下列关于黑匣子的说法,错误的是:

- A.就是指机舱话音记录器
- B.军用和民用飞机都可使用
- C.通常安装在飞机尾部最安全的部位
- D.具有极强的抗火、耐压、耐冲击振动、抗磁干扰等能力

128.下列对于常见现象的解释,错误的是:

- A.雨后天空中出现的彩虹是光线发生散射造成的
- B.木匠把木头做成桌子,只是改变了它的形状,而没有改变其本质
- C.镜子中出现自己是光反射的结果
- D.冬天早晨窗玻璃上出现的冰花是水蒸气遇冷凝华形成的

129.自行车的前后轮胎、车把手塑料套、脚踏板以及刹车块处均刻有一些花纹主要是为了:

- A.延长使用寿命
- B.提高行车速度
- C.外形美观
- D.增大摩擦

130.下列说法正确的是:

- A.物体吸收热量,温度一定升高
- B.做功和热传递都能改变物体的内能
- C.物体温度越高,具有的内能越多
- D.物体温度升高,一定吸收了热量

131.物质从固态直接变成气态的过程叫做:

- A.熔化
- B.液化
- C.升华
- D.凝固

132. 下列关于一次能源分类表达错误的是:

- A. 水能是一次能源, 是可再生资源, 属于清洁能源
- B. 电能是一次能源, 是可再生资源, 属于清洁能源
- C. 太阳能是一次能源, 是可再生资源, 属于清洁能源
- D. 石油是一次能源, 是不可再生资源, 不是清洁能源

133. 当一颗大质量恒星耗尽内部核燃料而抵达其演化末态时, 就会产生:

- A. 耀斑爆发
- B. 暗物质
- C. 黑洞
- D. 彗星

134. 在细菌、病毒及其他抗原性物质进入机体后, 能识别抗原的细胞是:

- A. 神经细胞
- B. 淋巴细胞
- C. 白细胞
- D. 红细胞

135. 常温下, 呈现液态的有:

- A. 钛合金
- B. 二氧化硅
- C. 汞
- D. 碳酸钙

136. 我国商周时代的青铜器不仅是盛物用的容器, 也是宗庙中的礼器。商周青铜器的主要成分是:

- A. 铜与锡
- B. 铜与金
- C. 铜与铁
- D. 铜与铝

137. 孔子用“而立”“不惑”“知天命”指代不同的年龄, 其中“知天命”是指:

- A. 40 岁
- B. 50 岁
- C. 60 岁
- D. 70 岁

138. 北宋司马光主持编写的编年体史书是:

- A. 《战国策》
- B. 《资治通鉴》
- C. 《左传》
- D. 《史记》

139. “人生自古谁无死, 留取丹心照汗青”的作者是:

- A. 文天祥
- B. 辛弃疾
- C. 陆游
- D. 白居易

140. 下列加强专制皇权的措施产生于元朝的一项是:

- A. 行省制
- B. 三省六部制
- C. 丞相制
- D. 军机处

141. _____ 被誉为“书圣”, 其楷书势巧形空。

- A. 王羲之
- B. 王献之
- C. 欧阳修
- D. 颜真卿

142. 法兰西第一帝国皇帝, 《民法典》的颁布者是欧洲哪位军事天才?

- A. 亚历山大
- B. 拿破仑
- C. 汉拔尼
- D. 儒略·凯撒

143.苏轼在《念奴娇·赤壁怀古》，中提到了：羽扇纶巾，谈笑间，檣櫓灰飞烟灭。羽扇纶巾形容的历史人物是：

- A.诸葛亮 B.周瑜 C.曹操 D.关羽

144._____与木兰诗合称乐府双璧。

- A.陌上桑 B.长歌行 C.孔雀东南飞 D.子夜歌

145.一个国家中的文化精华，称其为国粹。中国三大国粹为：

- A.儒学，国画和针灸 B.茶艺，昆曲和武术
C.瓷器，书法和儒学 D.国画，京剧和中医

146.中国作家_____获诺贝尔文学奖。

- A.贾平凹 B.王安忆 C.路遥 D.莫言

147.苏秦、张仪在诸子百家中是_____的代表人物。

- A.法家 B.儒家 C.纵横家 D.墨家

148.“兼爱”“非攻”是_____主张。

- A.荀子 B.庄子 C.韩非 D.墨子

149.秦朝时修的长城是抵御_____的进犯。

- A.羌族 B.鲜卑族 C.氏族 D.匈奴族

150.台湾自古以来就是我国领土不可分割的一部分，近代史上，使台湾失而复归的历史事件是：

- A.抗日战争的胜利 B.中华民国的建立
C.洋务运动的开展 D.五四运动的爆发

151.下列文学常识判断中不正确的是：

- A.《桃花源记》的作者是陶渊明，宋代人，他的作品还有《岳阳楼记》
B.苏轼《水调歌头》中“但愿人长久，千里共婵娟”，表达了与亲人共赏人间美景的心愿，体现了人积极乐观的人生态度
C.《雪》选自鲁迅的散文，他的代表作品有《孔乙己》
D.在中国文学史上的“唐宋八大家”中，有苏轼三父子，他们是父亲苏洵，儿子苏轼和苏辙

152.下列不属于“建安七子”的是：

- A.孔融 B.曹丕 C.徐干 D.应玚

153.金榜题名一直以来是古代文人的梦想，以下诗句与金榜题名无关的一项是：

- A.春风得意马蹄疾，一日看尽长安花
- B.慈恩塔下题名处，十七人中最少年
- C.白日放歌须纵酒，青春作伴好还乡
- D.蓬瀛乍接神仙侣，江海回思耕做人

154.白居易的作品《长恨歌》中的诗句“在天愿作比翼鸟，在地愿为连理枝”，描述的是_____的爱情故事。

- A.董永和七仙女
- B.牛郎和织女
- C.唐明皇和杨贵妃
- D.吕布和貂蝉

155.下列关于文学常识表述，不正确的是：

- A.初唐“四杰”是指杜牧、王勃、骆宾王、王维
- B.鲁迅，原名周树人，伟大的文学家、思想家、革命家
- C.矛盾，现代著名作家，其代表作有长篇小说《子夜》、中篇小说《林家铺子》
- D.蒲松龄，清代小说家，他的代表作《聊斋志异》是我国古代优秀的文言短篇小说集

156.下列文学常识说法错误的是：

- A.“春风得意马蹄疾，一日看尽长安花”的作者是唐朝诗人孟郊
- B.“姑苏城外寒山寺，夜半钟声到客船”的作者是唐代诗人张继
- C.“三军可夺帅也，匹夫不可夺志也”出自孙子的《孙子兵法》
- D.“郎骑竹马来，绕床弄青梅。同居长千里，两小无猜”出自李白的《长干行》

157.不属于唐宋八大家的是：

- A.欧阳修
- B.王勃
- C.柳宗元
- D.王安石

158.最早提出“振兴中华”口号的代表人物是：

- A.康有为
- B.梁启超
- C.严复
- D.孙中山

159.由于青铜技术的成熟包括鼓风、浇铸等的运用，世界各个民族的先人陆续掌握了冶铁技术，中国是在_____时代初步掌握冶铁技术。

- A.春秋时期
- B.汉代
- C.秦代
- D.宋代

160.在先秦诸子散文中，想象最丰富、最富浪漫色彩的是：

- A.《孟子》
- B.《庄子》
- C.《老子》
- D.《韩非子》

161.曹操诗歌的风格特点是:

- A.清新淡雅 B.豪放飘逸 C.苍凉悲壮 D.简洁含蓄

162.下列诗人中属于盛唐边塞诗派代表作家的是:

- A.王昌龄 B.王维 C.李白 D.杜甫

163.唐代古文运动的领袖是:

- A.陈子昂 B.韩愈 C.欧阳修 D.苏轼

164.杜甫诗歌的主要风格是:

- A.清新俊逸 B.沉郁顿挫 C.苍凉悲壮 D.沉哀凄苦

165.《清明河上图》反映了我国哪个朝代的都市生活:

- A.北宋 B.南宋 C.明朝 D.元朝

166.下列哪组词语都与我国科举考试有关:

- A.蟾宫折桂, 桂冠, 连中三元
B.问鼎中原, 独占鳌头, 蟾宫折桂
C.连中三元, 五子登科, 名落孙山
D.金榜题名, 桂冠, 独占鳌头

167.贝多芬是_____最著名的音乐家。

- A.德国 B.英国 C.波兰 D.法国

168._____是文艺复兴时期意大利著名的画家,也是文艺复兴后三杰中最年轻的一位,他的性情平和,文雅,创造了大量的圣母像,他的作品充分体现了安宁,完美和恬静的秩序。

- A.拉斐尔 B.达·芬奇 C.米开耶基罗 D.达伽马

169.首次登上美洲大陆的航海家是:

- A.麦哲伦 B.达·伽马 C.迪亚士 D.哥伦布

170.下列事件发生在 1895 年的是:

- A.中国同盟会成立 B.公车上书
C.八国联军侵华 D.《辛丑条约》签订

171. 康乾盛世被称为中国封建社会末期的百年之治，但很快盛极而衰，它给当今社会留下的历史教训最主要的是：

- A. 加快社会改革，调整生产关系
- B. 加强以德治国，紧跟时代潮流
- C. 保持社会稳定，促进经济发展
- D. 惩治贪官污吏，加强政权建设

172. 汉武帝时，接受_____的建议，实行推恩令，削弱地方诸侯王的势力。

- A. 晁错
- B. 董仲舒
- C. 主父偃
- D. 司马相如

173. “丝绸之路”是链接古代中国与中亚、西亚的重要通道，对中国与周边国家的贸易，文化交往有着极其重要的作用，一下关于“丝绸之路”的说法不正确的是：

- A. “丝绸之路”是由德国地理学家李希特霍芬首先命名的
- B. “丝绸之路”是东汉班超出使西域之后逐步形成开辟而成
- C. 玄奘法师取经的时候经过了“丝绸之路”
- D. 唐朝时期，菠菜经“丝绸之路”传入中国

174. 中国第一本诗歌理论和评论专著是：

- A. 刘勰的《文心雕龙》
- B. 许慎的《说文解字》
- C. 曹丕的《典论·论文》
- D. 钟嵘的《诗品》

175. 历史上著名的“八王之乱”发生在：

- A. 南唐
- B. 西晋
- C. 北魏
- D. 东汉

176. 20 世纪第三世界国家纷纷崛起，拉丁美洲第一个独立的国家是：

- A. 巴西
- B. 阿根廷
- C. 玻利维亚
- D. 海地

177. 开辟了环球新航线的航海家是：

- A. 马可·波罗
- B. 郑和
- C. 麦哲伦
- D. 哥白尼

178. 论及欧洲文艺复兴，恩格斯指出：“那是一个需要巨人并且产生了巨人的时代”。

下列选项中属于意大利文艺复兴“前三杰”的是：

- ① 彼特拉克
 - ② 达·芬奇
 - ③ 薄伽丘
 - ④ 拉斐尔
 - ⑤ 但丁
 - ⑥ 波提切利
- A. ①③⑤
 - B. ②④⑥
 - C. ①②③
 - D. ④⑤⑥

179. 《大海啊故乡》是影片《大海在呼唤》中的插曲，2017 年 9 月，她在金砖国家会晤的文艺晚会上，再次展现了其独特魅力。《大海啊故乡》的词曲作者是：

- A. 王立平
- B. 田汉
- C. 郭沫若
- D. 王洛宾

180.汉语拼音的发明人是:

- A.郭沫若 B.周有光 C.王力 D.费孝通

181.奠定国共二次合作基础的历史事件是:

- A.西安事变 B.五四运动
C.福建事变 D.蒋介石发表庐山谈话

182.日本挑起的_____，使东北三省沦陷。

- A.七·七事变 B.九·一八事变
C.八·一三事变 D.西安事变

183.1999年澳门回归前，属于_____的殖民地。

- A.英国 B.葡萄牙 C.西班牙 D.荷兰

184._____是国外历史上的第一次中日战争。

- A.甲午战争 B.戚继光抗倭
C.唐高丽之战 D.万历朝鲜之战

185.《饮冰室合集》是_____的作品集。

- A.康有为 B.梁启超 C.谭嗣同 D.杨锐

186.下列历史事件按时间先后顺序排列正确的是:

- ①《共产党宣言》的发表 ②《南京条约》签订
③太平天国运动 ④戊戌变法
A.②①③④ B.①②③④ C.①②④③ D.③④②①

187.中国面积最大的省级行政单位:

- A.内蒙古自治区 B.新疆维吾尔自治区
C.海南省 D.广西壮族自治区

188.我国最大的内陆咸水湖是:

- A.鄱阳湖 B.洞庭湖 C.青海湖 D.贝加尔湖

189.秦岭—淮河一线是我国:

- A.平原和梯田的分界线 B.河流结冰与不结冰的分界线
C.棉花生产区与非生产区的界线 D.湿润和干旱的界线

190.下列选项属于我国内海的是:

- A.黄海 B.东海 C.渤海 D.南海

191.我国的能源条件可以概括为:

- A.缺煤、富油、少气
B.富煤、缺油、少气
C.缺煤、缺油、少气
D.富煤、富油、少气

192.我国在少数民族聚居区实行民族区域自治,到今天为止建立的省级自治区有:

- A.三个
B.四个
C.五个
D.六个

193.关于我国的平原,下列说法不正确的是:

- A.东北平原、华北平原和长江中下游平原是我国三大平原,是全国主要农耕地
B.东北平原位于燕山以北,大、小兴安岭与长白山之间,是我国最大平原
C.华北平原南北分别是燕山与大别山,西起太行山和伏牛山,东抵山东丘陵与渤海、黄海,是我国第三大平原
D.长江中下游平原主要包括洞庭湖平原、江汉平原、鄱阳湖平原、苏皖沿江平原和长江三角洲平原等,是我国著名鱼米之乡

194.我国第一大河长江的最大支流是:

- A.金沙江
B.汉江
C.湘江
D.白龙

195.我国是世界上水资源丰富的国家之一,下列不符合我国水资源特点的是:

- A.水资源的人均单位面积占有量不丰富
B.水资源地区分布不均,南少北多,相差悬殊
C.水资源量的年份和季节变化很大
D.水旱灾害较频繁

196.关于我国自然资源分布特点,概括正确的是:

- A.耕地资源——西南多、东北少
B.水资源——东南多、西北少
C.煤炭资源——南方多、北方少
D.森林资源——平原多、山区少

197.中国跨越经度最大、轮廓最狭长、邻省最多的省级行政区是:

- A.青海省
B.云南省
C.西藏自治区
D.内蒙古自治区

198.内蒙古自治区位于中纬度,地处欧亚大陆内部,大部分地区处在东亚季风的影响之下,属于_____,气候复杂多样,四季分明。

- A.中温带季风气候
B.温带大陆性季风气候
C.温带草原气候
D.温带沙漠气候

199.著名的“河套人”发源于：

A.巴彦淖尔市

B.鄂尔多斯市

C.呼和浩特市

D.包头市

200.世界上唯一以沙漠为主题的世界地质公园坐落在：

A.乌海市

B.鄂尔多斯市

C.银川市

D.阿拉善盟

第二部分 行政职业能力测验

言语理解与表达

1.在极为有限的生命小溪中，人能够成就事业的时间最多也不过三四十年。如果三四十年虽生活窘迫，形孤影单，但若能做到_____，振聋发聩，引领潮流，也足堪告慰；如果三四十年虽饮食无忧，但寥寥可数的文章著作只能被人_____，与白蚁、老鼠和灰尘伴舞，此生的失败就再明显不过了。

填入划横线部分最恰当的一项是：

- | | | | |
|--------|------|--------|------|
| A.厚积薄发 | 置若罔闻 | B.举重若轻 | 置之不理 |
| C.登高眺远 | 束之高阁 | D.忍辱负重 | 视而不见 |

2.《新文学的传统》一书着重探讨了“五四”以来受过西方新思想洗礼的现代作家、评论家对中国文学“新传统”的_____，评点“新传统”建设者和继承者的功过得失。作者的论述可谓_____，卓见迭出，有别于几十年来出版的同类著述，比照阅读，可一探新文学的真相。

填入划横线部分最恰当的一项是：

- | | | | |
|------|------|------|------|
| A.批判 | 滴水不漏 | B.贡献 | 气势磅礴 |
| C.审视 | 一针见血 | D.构建 | 高屋建瓴 |

3.信用问题本质上是一个制度问题。信用使人们为了获得长远利益而愿意牺牲眼前利益。一个人的最优行为与他的生命预期有关，生命预期越长，他的行为就越_____，就越愿意坚持_____自己的承诺。所以，建立信用制度，最重要的是使每一个公民、每一个企业都有一个长期的预期。

填入划横线部分最恰当的一项是：

- | | | | |
|------|----|------|----|
| A.主动 | 履行 | B.规范 | 兑现 |
| C.明确 | 遵守 | D.一致 | 尊重 |

4.说到教育,难免谈到教师和学生,教师并不总在与学生_____对话,教育总带点儿权威性甚至强制性,带点_____的“灌输”,即使把教育刻画成一场对话,师生之间的对话也不是完全对等的,这一点,小学和中学很明显,但大学和研究院里其实也一样。

填入划横线部分最恰当的一项是:

- A.亲切 强迫式
- B.诚恳 冷漠式
- C.平等 独白式
- D.开放 填鸭式

5.细节决定差异。但是,过早地_____于细节,会使你迷失在不重要的事物中,所以首先要抓住基础,_____细节。

填入划横线部分最恰当的一项是:

- A.集中 发现
- B.致力 考虑
- C.沉溺 摒弃
- D.纠结 忽略

6.一位批评家如果不对几种艺术门类有较为浓厚的欣赏兴趣,很难说他对小说评论会有准确的判断力。一个人艺术鉴赏力的培养,通常是_____、相互影响的。文学批评的思想性的建构,基本要义也应该是在艺术修养的_____之中逐渐获得,而不是像一些人理解的单靠_____一点理论概念名词,或单靠翻阅几本理论书籍就能解决。

填入划横线部分最恰当的一项是:

- A.触类旁通 熏陶 搬弄
- B.相辅相成 沉浸 掌握
- C.潜移默化 培养 运用
- D.融会贯通 陶冶 创造

7.甲骨文是迄今为止在中国所发现一种最古老的、自成体系的文字,可以说是现代汉字的老祖宗。甲骨文已相当_____,如果认为仰韶文化、龙山文化的图形符号是汉字的雏形,那么在它们与甲骨文之间,应该还存在一个_____的环节。

填入划横线部分最恰当的一项是:

- A.成熟 过渡
- B.规范 关联
- C.优美 补充
- D.完善 缓冲

8.英国《卫报》的一篇评论曾这样写道:“19 世纪,英国教会世界如何_____ ; 20 世纪,美国教会世界如何_____ ; 如果中国要_____ 21 世纪,它必须教会世界如何可持续发展。”这可能就是中国要在未来肩负起的责任。

填入划横线部分最恰当的一项是:

- A.节俭 享用 领导 B.生产 消费 引领
C.节约 享受 引导 D.制造 消耗 带领

9.越来越多的人表示愿意购买医疗保险产品,但医疗保险产品的销售情况并没有与需求保持_____。因为消费者并不单是从开支管理角度来考虑,更多的是受到情感的_____，他们真正寻求的是一种心理安定,这往往是销售者所_____的。

填入划横线部分最恰当的一项是:

- A.一致 左右 关注 B.协调 干扰 利用
C.同步 驱动 忽视 D.统一 暗示 追求

10.中国古代数学家对“一次同余论”的研究有_____的独创性和继承性,“大衍求一术”在世界数学史上的崇高地位是不容_____的。正因为这样,在西方数学史著作中,一直公正地称求解一次同余组的剩余定理为“中国剩余定理”。

填入划横线部分最恰当的一项是:

- A.完全 否定 B.明确 忽视
C.绝对 动摇 D.明显 怀疑

11.世界建筑文化源远流长。自古以来,人们在建筑房屋的过程中,创造着自己的建筑文化。因此,建筑汇聚了文化的精华,也体现了建筑师的人文修养。纵观历史上优秀的建筑师,除了学识渊博外,大都有着丰富的阅历,而不是_____的理论家,正因此,他们才能_____,迁想妙得,将自己意匠独造的想象力渗入建筑之中,丰富人类的建筑文化。

填入划横线部分最恰当的一项是:

- A.循规蹈矩 融会贯通 B.纸上谈兵 博采众长
C.闭门造车 才华横溢 D.墨守成规 推陈出新

12.春天的江南是美丽的,风很_____,空气很_____,太阳很_____；大田里的麦苗像一片海,星罗棋布的村庄是不沉的舟。

填入划横线部分最恰当的一项是:

- A.柔顺 清新 灼热 B.柔和 清澈 灼热
C.柔顺 清澈 温暖 D.柔和 清新 温暖

13.文化认同作为小到群体、大到一个民族向心力的有机“粘合剂”，是凝聚这个群体和民族伟大精神力量的_____。文化认同如果缺失，社会语境便趋于焦虑，人们的价值取向便会_____，因为文化认同相对于政治认同和社会认同，具有更深远的_____。

填入划横线部分最恰当的一项是：

- A.基础 丧失 意义
B.根本 丢失 价值
C.根基 迷失 内涵
D.基础 失落 涵义

14.2012 赛季国际泳联世界水球联赛男子组总决赛在阿拉木图拉开战幕。首日在美国对哈萨克斯坦的比赛中，双方球队在第一节攻防转换节奏较快，开局阶段是以 4 比 4 战平，_____；美国队在第二节却_____，随即将分差扩大到 8 比 5；虽然东道主哈萨克斯坦队力拼防守，但是第三节仍旧_____，最终以 8 比 11 主场告负。

填入划横线部分最恰当的一项是：

- A.不分伯仲 势如破竹 回天无力
B.并肩前进 盛气凌人 不堪一击
C.齐头并进 气势汹汹 望风披靡
D.不相上下 斗志昂扬 无计可施

15.①文水县灭火指挥部下达命令：在过火区进行“拉网式”_____，灭绝一切易燃点。

②广大群众认为：綦江市彩虹桥倒塌案公开审理是公平性、公正性原则的_____体现。

填入划横线部分最恰当的一项是：

- A.探察 法治
B.探察 法制
C.巡查 法制
D.巡查 法治

16.早在几千年前，人类已开始利用酵母来制作发酵产品。最早在市场上销售的产品是酵母泥，它的发酵速度快，但_____和使用不便，产品的商业化受到了一定的_____。从销售酵母泥算起，酵母制造工业已有 200 余年的历史了。酵母现已成为世界上研究最多的微生物之一，是当今生物技术产品研究开发的_____。

填入划横线部分最恰当的一项是：

- A.保存 影响 支柱
B.运输 限制 热点

C.销售 阻碍 关键 D.制作 干扰 难点

17.音乐是声音中最早进入电影的一个艺术_____,它向来以擅长表现感情、_____气氛而受到编创人员的喜爱。

填入划横线部分最恰当的一项是:

A.环节 烘托 B.元素 渲染
C.手段 打造 D.形式 调动

18.“知识爆炸”有一个前提条件,那就是每一个人都愿意通过一定的媒介把自己创造的知识_____,使之成为全人类共同拥有的知识。如果每一个人都把自己创造的知识封闭起来留在自己的脑袋中,那么“知识爆炸”就_____。

填入划横线部分最恰当的一项是:

A.共享 无从谈起 B.传播 不切实际
C.展现 名不副实 D.发布 言过其实

19.所谓顺耳的话,是指那些表扬、赞许、中听的话。顺耳之言当属甜言蜜语,听起来让人_____,很舒服。所谓逆耳的话,是指那些挑剔、批评、不中听但能反映真实情况,_____,能够促人警醒的话。逆耳之言恰似寒冬恶语,听起来让人_____。

填入划横线部分最恰当的一项是:

A.心旌摇曳 振聋发聩 寒心销志
B.如沐春风 一语中的 如坐针毡
C.心旷神怡 微言大义 心如芒刺
D.喜形于色 醍醐灌顶 忧心忡忡

20.即使是一个最简单、最平常的句子,由于语境不同,也会表达不同的意思。比如“你怎么啦”这句话,在不同的语境中,可以表示_____,也可以表示_____,也可以表示_____,还可以表示_____。离开语境,是不能真正理解语言的意义的。

填入划横线部分最恰当的一项是:

A.怀疑 焦急 紧张 激动
B.担心 沮丧 害羞 失望
C.不解 惊奇 关切 责备
D.询问 痛苦 惊惶 喜悦

21. 跪着求人永远是耻辱的事情。要想_____地站着做人就不妨先弯着腰_____地做事。

填入划横线部分最恰当的一项是：

- A. 循规蹈矩 踏踏实实 B. 顶天立地 实事求是
C. 堂堂正正 脚踏实地 D. 名正言顺 实实在在

22. 近年的欧洲连续经历严寒的冬天，这似乎与全球气候变暖的说法相左。但在不少专家看来，异常寒冷事件并未说明气候变暖趋势_____，相反，这是气候变暖大背景下全球极端天气愈加频发的_____。

填入划横线部分最恰当的一项是：

- A. 偏转 表现 B. 逆转 缩影
C. 倒转 象征 D. 反转 预兆

23. 在一定程度上，全球化是对民族性的_____和挑战。它要求我们既要从民族的角度进行思考，也要学会从全球的角度进行分析；既要进行纵向思维，在发展中传承历史经验，也要注重横向思维，在_____中汲取他人之长。

填入划横线部分最恰当的一项是：

- A. 同化 交流 B. 排斥 沟通
C. 超越 比较 D. 吸纳 协商

24. 毫无疑问，在今日武断批判中医的人中，不乏以“科学”代言人自居者，将各种自己不懂的知识系统一棍子打死，归入_____。这种态度不能不使人怀疑其言论与知识的讨论无关，另有用意。不过，在抗拒这种学霸的同时，我们也不必非要陷入相反的_____。坦率地说，身为一个“中医”，我以为目前的中医面对的最大危机不是外来的，而是内在的。中医落到今天这个地步，一定程度上可谓是_____。

填入划横线部分最恰当的一项是：

- A. 邪说 境地 罪有应得 B. 异端 泥淖 咎由自取
C. 异己 泥潭 责无旁贷 D. 异类 困境 作茧自缚

25.在金融危机下,税务人员并不知道每个企业的资金链到底有多_____,能够承受起多大的_____。

填入划横线部分最恰当的一项是:

- A.脆弱 风吹草动 B.牢固 大起大落
C.强韧 风吹草动 D.稳固 暴风骤雨

26.金融风暴过后,我们如果发现市场经济最坚定的_____在亚洲,也无需惊讶。发生于上个世纪末的亚洲金融危机使得这个大洲_____,他们已经从这些经历中学到_____的重要性,已经学会更加成熟地处理和应对全球化的各种问题。

填入划横线部分最恰当的一项是:

- A.基础 化险为夷 防患未然 B.拥趸 因祸得福 未雨绸缪
C.柱石 反败为胜 有备无患 D.支柱 转危为安 谋敌未动

27.唐高宗李治在位时期完成的《唐律疏议》是一部极为重要的法典,全面体现了中国古代法律制度的_____,风格和基本特征,成为中华法系的_____性法典,对后世及周边国家产生了极为深远的影响。

填入划横线部分最恰当的一项是:

- A.性质 权威 B.原则 方向
C.水平 代表 D.观念 指导

28.企业经营是为了获得利润,人生经营是为了让自己增值。可是,价值的大小并不由你说了算,它的_____掌握在别人的手上,而别人永远不会_____赋予你理想的价值,你必须先去做一块招牌,放大自己的价值,_____他们去看。

填入划横线部分最恰当的一项是:

- A.评价 简单 启发 B.准则 随便 引导
C.标尺 主动 提醒 D.指标 盲目 影响

29.父亲像一座山,所以在很多时候,感受父亲就像爬山。山越高越雄伟,则越难爬到顶峰,越不容易看到他的_____,越无法领悟他的_____。

填入划横线部分最恰当的一项是:

- A.全部 真谛 B.壮丽 奥妙
C.广阔 精华 D.精妙 内涵

30. 是让圆明园保留_____的现状，还是应当重建？在国内的互联网上，围绕这个问题展开了激烈的_____。

填入划横线部分最恰当的一项是：

- | | | | |
|-------|----|-------|----|
| A. 遗迹 | 争执 | B. 遗存 | 讨论 |
| C. 废墟 | 争论 | D. 废址 | 研讨 |

31. ①近日，股市遭遇连续暴跌的“雪灾”，“杀得”股民、基民_____。转眼就到春节，正值用钱消费之际，许多投资者非但没能赚上一把，反倒亏了不少。

②本次欧盟峰会清楚地表明，各成员国对目前的危机_____，只好推迟做出决定，这种状况无助于提高欧盟国家公民，尤其是爱尔兰民众，对欧盟政治领导层的信任。

填入划横线部分最恰当的一项是：

- | | | | |
|---------|------|---------|------|
| A. 措手不及 | 束手无策 | B. 猝不及防 | 不知所措 |
| C. 束手无措 | 手足无措 | D. 手足无措 | 惊慌失措 |

32. 中国古典剑学_____包含以下四个层面：采矿、冶炼、锻打、淬火的工艺学，剑客竞技搏杀的武学，有关宝剑德行和品质的伦理学，以及研究各种宝剑奇迹的神学，如此等等。在春秋战国时代，这种_____的分层早已完成。

填入划横线部分最恰当的一项是：

- | | | | |
|-------|----|-------|----|
| A. 至少 | 详细 | B. 具体 | 完备 |
| C. 一般 | 简略 | D. 起码 | 细致 |

33. 任何一个真实的文明人都会自觉不自觉地心理上过着多种年龄相_____的生活，没有这种生活，生命就会失去_____，很容易风干和脆折。

填入划横线部分最恰当的一项是：

- | | | | |
|-------|----|-------|----|
| A. 重叠 | 弹性 | B. 干扰 | 色彩 |
| C. 交叉 | 光泽 | D. 作用 | 活力 |

34. 春天翻动思绪，春景使人联想。行到水穷处，坐看云起时，那是哲人对春天的一种见解，沐浴春天的一种方式。对春天的理解_____，春天呈现的种类自然也就_____。

填入划横线部分最恰当的一项是：

- | | | | |
|---------|------|---------|------|
| A. 莫衷一是 | 千变万化 | B. 因人而异 | 千姿百态 |
| C. 浮想联翩 | 姹紫嫣红 | D. 众说纷纭 | 千娇百媚 |

35.一帆风顺的旅途只能酿就_____的思维,而人生中的_____从来都是经历了颠簸与坎坷之后才赫然出现。

填入划横线部分最恰当的一项是:

- | | | | |
|--------|----|--------|----|
| A.墨守成规 | 捷径 | B.一成不变 | 捷径 |
| C.画地为牢 | 道路 | D.中规中矩 | 道路 |

36.怎样的事物才能真正永存?阿房宫和华清池都已片瓦不留,李杜的名句和老庄的格言却一字不误地_____在每个华人的心里。世上延绵最久的还是非物质的——思想与精神,能够_____地记忆思想的只有文字。所以说,文字是我们的生命。

填入划横线部分最恰当的一项是:

- | | | | |
|------|----|------|----|
| A.保存 | 永久 | B.铭刻 | 永恒 |
| C.保留 | 明确 | D.镌刻 | 准确 |

37.一个思想家或艺术家,没有比把作品写到生命上更令人_____。本雅明是这种人如其文的思想家,文字与生命贯彻着忧郁的气质。忧郁性格的人,建立的同时永远潜藏一股自我毁灭力,以否定来肯定一如从忧郁撷取力量。

填入划横线部分最恰当的一项是:

- | | | | |
|--------|--------|--------|--------|
| A.惊心动魄 | B.动人心魄 | C.胆战心惊 | D.触目惊心 |
|--------|--------|--------|--------|

38.改革开放40年来,我国城市化进程不断加快,越来越多农村用地被_____为城市用地。与此同时,失地农民的养老保险制度也引起了社会的广泛关注。从理论上分析,该制度的建立充分考虑了土地对农民的_____和保障两大职能,解决了失地农民进入法定退休年龄之后的基本生活,对促进社会和谐稳定具有积极的意义。

填入划横线部分最恰当的一项是:

- | | | | |
|------|----|------|----|
| A.征用 | 生存 | B.占用 | 升值 |
| C.征用 | 升值 | D.占用 | 生存 |

39.免费与管理并不冲突,反而可以_____。把管理等同于收费,甚至把收费当成管理的目的,免费了就_____地“不收费不担责”,疏于管理,甚至无人过问,这不仅有违公共管理的价值追求,而且难以将免费的实惠落到实处。

填入划横线部分最恰当的一项是:

- | | | | |
|--------|------|--------|------|
| A.取长补短 | 顺理成章 | B.相得益彰 | 堂而皇之 |
| C.求同存异 | 理直气壮 | D.合二为一 | 冠冕堂皇 |

40.随着人们环保意识的加强,在选购家具时人们更_____于选择带有环保标识的产品。本来有这样的意识是件好事,但我国并没有强制家具认证规定,国内也尚未_____环保家具认证标准,现在国内市面上的认证机构_____,环保标识_____。

填入划横线部分最恰当的一项是:

- A.趋向 公布 鱼目混珠 不一而足
- B.倾向 颁布 鱼龙混杂 五花八门
- C.热衷 确定 各自为政 良莠不齐
- D.垂青 制定 形形色色 千奇百怪

41.元代的方回,论诗颇有眼力,而对朱熹的诗却抬举过分,事出反常。这里除了有乡里私心的原因之外,很可能与方“秽德彰闻,依托道学”的隐曲有关,文人既心存依附之念,势必_____。再如,中国古代文论的作者,常常自己就兼作家身份,“文章得失寸心知”,发而为论,时有取长补短或_____的隐衷。

填入划横线部分最恰当的一项是:

- A.进退维谷 才短思塞
- B.随波逐流 博采众长
- C.进退失据 扬长避短
- D.骑虎难下 避实就虚

42.①当前老百姓不仅要提防假冒伪劣产品,也需要学会_____各种有害食品,增强防疫能力。

②毕业生走上工作岗位后,并不意味着学习的_____,而是要在新的环境下继续学习。

③这样的承诺他不止说过一次,但从未见诸_____。

填入划横线部分最恰当的一项是:

- A.辨别 停止 实施
- B.辨别 中止 落实
- C.鉴别 中断 施行
- D.识别 终止 行动

43.农村情况千差万别,发展不可能一个模式,必须因地制宜、量力而行,切忌_____、一哄而起。

填入划横线部分最恰当的一项是:

- A.因循守旧
- B.好高骛远
- C.循序渐进
- D.急功近利

44.事后控制不如事中控制，事中控制不如事前控制，可惜大多数事业经营者均未能_____到这一点，等到错误的决策造成了重大的损失才如梦方醒，结果往往是请来了名气很大的“空降兵”也_____。

填入划横线部分最恰当的一项是：

- A.意识 于事无补
- B.体会 无力回天
- C.观察 无济于事
- D.认识 一事无成

45.作为维护世界和平的两大力量、促进共同发展的两大市场、推动人类进步的两大文明，中国和欧洲的每一次_____、_____不仅相互影响，也牵引着世界的神经。

填入划横线部分最恰当的一项是：

- A.互望 和谈
- B.对望 对话
- C.凝望 谈话
- D.对视 谈判

46.什么是人才，可谓_____。在全球化和信息化时代，人才应该具备的几点基本素质倒是_____的。很多大企业认为，引领未来企业发展的，也是企业最缺乏的人才必须具备三大条件：领导才能、谈判能力和全球思维。

填入划横线部分最恰当的一项是：

- A.众说纷纭 统一
- B.莫衷一是 固定
- C.见仁见智 共通
- D.因人而异 公认

47.中国真正进入全球化的坐标体系，也就在这短短三十多年。但就是在这三十多年里，我们写下了让世界_____的“中国故事”。从_____的革命年代，到_____的建设岁月，再到_____的改革时期，在不断探索和奋斗中，我们形成和发展了中国特色社会主义道路。

填入划横线部分最恰当的一项是：

- A.惊异 战火纷飞 激情燃烧 轰轰烈烈
- B.惊叹 硝烟弥漫 激情燃烧 波澜壮阔
- C.惊异 战火纷飞 热情奔放 轰轰烈烈
- D.惊叹 硝烟弥漫 热情奔放 波澜壮阔

48.钓鱼岛及其附属岛屿自古以来就是中国的固有领土，中国对此拥有_____的主权。日方对中国渔民渔船的扣押、调查以及任何形式的司法_____都是非法和无效的。日方必须就此次事件向中方作出道歉和赔偿。

填入划横线部分最恰当的一项是：

- A.无可辩驳 活动 B.无可争议 活动
C.无需争辩 举措 D.无可争辩 举措

49.“过云楼”是江南著名的私家藏书楼，经过顾氏家族六代人 150 年的传承，其藏书已逾 800 种，并大都保存完好，整洁如新。顾氏家族示有家训：过云楼藏画可任人_____，而家藏善本古籍不可轻易示人，故过云楼藏书终年置于楼内，_____。

填入划横线部分最恰当的一项是：

- A.临摹 存而不论 B.观赏 束之高阁
C.评阅 秘而不宣 D.点评 无人问津

50.四川大地震在相当程度上修改或者说_____了国际社会对中国的观感，那些在帐篷里坚韧不拔、有尊严地生活着的老百姓，_____地前往灾区的志愿者，有力地说明了即便经历市场经济大潮的_____，中华民族依然保有一些最根本的品质。

填入划横线部分最恰当的一项是：

- A.扭转 摩肩接踵 考验 B.颠覆 前仆后继 洗礼
C.匡正 络绎不绝 冲击 D.批判 川流不息 洗刷

51.依次填入下面一段文字横线处的句子，排列最恰当的一项是：

教育不限于学校，也不限于读书。_____，孔子一生“学而不倦”，就是看透了这个道理。

- ①我们离开了学校，仍然要从种种方面受教育，并且要自我教育
- ②学校教育只是教育的一部分，读书也只是教育的一部分
- ③目的还是在养成习惯，增强能力
- ④我们在学校里受教育，目的是养成习惯
- ⑤习惯越自然越好，能力越增强越好

- A.②①④③⑤ B.②④①③⑤
C.④②①③⑤ D.④⑤②①③

52.①出版人是一个时代知识文化生产与传播的操盘手

②出版家的限度，也是一个时代思想文化的限度

③出版家的品质决定出版的品质，有什么样的出版家，就有什么样的出版

④殊不知，很多时候，没有他们的催生、助产，好多优秀的东西真的难以临盆，甚至会夭折

⑤出版家的高度即是一个时代出版业的高度

⑥有时候，人们会有这样错觉：没有出版人这个助产婆，孩子照样能够生出来

⑦他们经常把作者推在了前面，自己却躲在“后台”，扮演“影子”角色，致使其作用隐而不彰

将以上 7 个句子重新排列，语序正确的一项是：

A.③⑤②①⑦⑥④

B.⑤②③①⑥④⑦

C.①⑥④②③⑤⑦

D.③②⑤⑥④①⑦

53.①3D 模拟海啸袭击、解析肝癌细胞样本、大幅提高石油勘探效率……超级计算机的应用成果正日渐走入大众视野

②国民经济、科学技术和国防领域的重大应用需求不断引领着超级计算机的发展

③超级计算机是指计算速度最快、处理能力最强的计算机，旨在解决一些特别复杂的科学工程挑战性难题

④超级计算机和高性能应用需求相伴相生

⑤超级计算机的重大技术进步往往也会对应用领域的创新产生深刻的影响，催生一大批重大前沿科学突破与新技术变革，从而衍生出新的超级计算应用发展需求

⑥当然这个“超级”的概念是相对的，一个时代的超级计算机到下一时代可能成为普通的计算机，其技术也可能转化为通用的计算机技术

将以上 6 个句子重新排列，语序正确的一项是：

A.②③④①⑥⑤

B.③②⑥①⑤④

C.④⑤③⑥①②

D.①③⑥④②⑤

54.①根据专业统计，消费者在每封信件上只会停留短短 7 秒钟

②要想消费者从众多的直邮中拆开你的信件，那你的信封就必须够独特，够有诱惑力

③如果将企业的直邮销售看作一个产品，那么信封就是这个产品的包装

④如果目标顾客连你的信封都不拆开，就别提直邮营销的成功率

⑤目标顾客邮箱里天天电话单、朋友寄来的贺卡、银行账单、各种企业目录等信件源源不断

将以上 5 个句子重新排列，语序正确的一项是：

- A.④①②③⑤
B.③⑤②①④
C.⑤①④③②
D.①⑤③②④

55.①他们在这漫长的八个月里已经成为朋友，时常会在伤残军人活动室里下围棋或者喝茶，有时也用英语谈论文学，但更多时候是相互学习中文与日语

②林楠笙出院那天忽然下起了阵雨，香港的秋季仍像夏天一样阴晴不定，空气中弥漫着一股浓烈的海腥味

③经过医院的大门外时，林楠笙看了眼穿着橡胶雨衣站得笔直的卫兵，忽然用日语问：“你杀过几个中国人？”

④铃木正男军医打着一把雨伞相送，一路上，两个人谁也不说话

⑤林楠笙接过他提着的那个皮箱，说，那好吧，再见

⑥铃木正男愣了愣，用中文说，我是个医生，只会救人

将以上 6 个句子重新排列，语序正确的一项是：

- A.①②③⑥④⑤
B.④①②③⑥⑤
C.②④①③⑥⑤
D.④②①⑥⑤③

56.一个普遍的说法是，人类能辨别 1 万种不同的气味。一只猎犬的鼻膜上有 2.2 亿个气味受体细胞，而人类只有 2000 万个，但我们的嗅觉系统也是相当复杂而专业的。气味分子随气流进入鼻子，通过鼻腔顶端上皮和它的气味受体细胞，这些细胞表面覆盖着能捕捉气味分子的蛋白。气味受体蛋白共有 300 多种，分别负责不同的气味分子，可以产生大量组合，形成大量的气味模式，_____。而且我们的嗅觉很容易训练，短期内可见惊人成效。在实验中，如果暴露在单一的花香中，人只要 3 分半钟，就能极大提高对这种花香的辨别能力。

填入划横线部分最恰当的一项是：

- A.这些气味信息直接进入嗅觉皮层还会影响人的情感反应
B.但是不同的人对这些气味模式的敏感程度有所不同
C.这也就是人类能够辨别 1 万种不同气味的原因
D.因此对人类来讲嗅觉仍是第一大感官知觉

57.如今,在联系日益紧密的商业社会,企业的管理者正在变得越来越公众化。这也为他们提供了越来越多的发表演说的机会和平台:推介自我需要演说、应对危机需要演说、事业突破需要演说、沟通思想需要演说、感召部下需要演说、商务谈判需要演说、说服他人需要演说……可以说,_____。

填入划横线部分最恰当的一项是:

- A.树立良好的公众形象等于成功了一半
- B.与人沟通的技巧在商业社会不可或缺
- C.企业管理者无时无刻不需要自我表达
- D.卓越的口才是企业领导人必备的素质

58.不慎掉进了河沟里,可以想想也许会有一条鱼游进口袋;如果你不是老想着自己是否幸福,你就获得了幸福;有人站在山顶上,有人站在山脚下,虽然所处的位置不同,但两者眼中所看到的对方其实是同样大小的;失败并不意味着浪费时间和生命,而意味着又有理由去拥有新的时间和生命。_____。

填入划横线部分最恰当的一项是:

- A.自我安慰有助于人们得到幸福
- B.悲观与乐观是一枚硬币的两面
- C.对事物期望的高低决定了人们的情绪反应
- D.转换角度思考问题有助于保持良好的心态

59.画是有形的诗,讲究直觉与意境。批评是无形的思,侧重理性与逻辑。_____。柏拉图要把诗人逐出他的理想国,诗人对他也没有好感。儒家诗圣杜甫“穿花蛱蝶深深见,点水蜻蜓款款飞”的诗句,被儒家思想家朱熹颇为不屑地批评说:“道他做甚?”言下之意是很无聊很没意思。

填入划横线部分最恰当的一项是:

- A.感性与理性需互相参照
- B.诗与思是宿敌
- C.哲学家和诗人势如水火
- D.画与批评是不可分割的整体

60.一个画家要明白宣告的宗旨是使得人们对于人生,对于自身,对于自己生活中所能起的作用感兴趣。而要达到这一目的,最好的办法是通过艺术使人们相信人生是一场很有意思的游戏,人人都能参加。任何生活方式,哪怕再高雅,再拘谨,总是会有很多出路和通道。况且人生的乐趣也不归政治家或百万富翁所专有,而是公平分配的,只

要我们为它留出一点时间、耐心和想象力，不要只泡在什么具体的目标或粗俗的野心中去。因此，真正的艺术和绘画在我们身边悄悄说出的那个重大秘密是_____。

填入划横线部分最恰当的一项是：

- A. 我们想要了解的事物，总是始于我们的好奇心
- B. 千变万化的生活，决定了我们的人生是否充实
- C. 只要我们生活得充实，生活经验本身自有价值
- D. 人生的意义完全在于给予，而不在于主动索取

61. 领导带领机关干部扫大街，从官员和机关的角度看，这当然是好事，可以拉近与民众的距离，显示出领导干部勤政为民。但是，从干部的个人权利讲，义务劳动不是不可以，但不能是行政命令的驱使；从环卫部门的角度来看，如果干部常态化扫街确有必要，反映出的可能是两个方面的问题，要么环卫工人的数量不够，人手短缺；要么是环卫工人不好好干活，工作留下了很多死角。

下列表述最能概括上述文字内容的是：

- A. 领导干部带头扫街、参加义务劳动是对个人权利的侵犯
- B. 领导干部带头扫街能激发环卫部门工作人员的工作积极性
- C. 领导干部带头扫街可以拉近与民众的距离，促进干群关系和谐
- D. 领导干部带头扫街，很可能造成民众的误解，达不到理想效果

62. 台湾祥和基金会制作的元旦贺卡上载有仿陆游《钗头凤》的一段话：“当地烟，本地烟，成瘾苦海都无边。前人唱，后人和，饭后一支，神仙生活，错错错！烟如泪，人苦透，咳嗽气喘累受够！喜乐少，愁苦多，一朝上瘾，终身枷锁，莫莫莫！”

这段话主要支持了这样一种观点，即：

- A. 吸烟的极大乐趣
- B. 人们生活艰辛，幸福来之不易
- C. 现代人争名夺利，沉迷于物质
- D. 劝告人们不要吸烟

63. 平时我们请人帮个小忙，习惯说劳驾、借光，帮忙和借光有什么关系？其实“借光”一词的来历就说明了求助也就意味着互利。据说，古代有个勤劳的女子，因为家里太穷买不起灯油，夜晚无法纺线。村里有个大房子里有灯光，那里有许多妇女纺线，她便去请求帮助，借点光亮，为了让人家欢迎她去，她说，你们给我方便，我也要给大家做点好事，每天晚上我来打扫房间，于是，她就这样每天晚上和大家一起纺线了。

这段文字旨在表达的意思是：

- A.解释了“借光”一词的来历
- B.人们习惯说劳驾、借光是有缘由的
- C.人际交往要注意互利原则
- D.平时请人帮忙应该学会感恩

64.对于一个人来说,独处和交往均属必需。在独处时,人是直接面对世界的整体,面对万物之源的。相反,在交往时,人却只是面对部分,面对过程的片断。人群聚集之处,只有凡人琐事,过眼烟云,没有上帝和永恒。也许可以说,独处是时间性的,交往是空间性的。人之所以需要独处,是为了进行内在的整合,所谓整合,就是把新的经验放到内在记忆中的某个恰当位置上。唯有经过这个过程,外来的印象才能被自我所消化,自我也才能成为一个既独立又生长着的系统。

这段文字意在表达:

- A.生活中我们既要保持交往也要保持独处
- B.和交往相比我们更需要多一些的独处
- C.在独处中体验内在的整合过程至关重要
- D.独处是为了成就一个既独立又生长的自我

65.“吃啥补啥”或“以形补形”的说法一直深入人心,在民间也是向来大受欢迎,吃核桃便是“以形补形”的最典型案例。在许多人看来,核桃有类似人脑组织“沟回”的结构,最好用来补脑。搜寻网络,不少饮食指引、进补心得令人眼花缭乱,有人说番茄像心脏,高胆固醇患者要多吃以降低中风风险;红葡萄像红血球,能帮助身体对抗心血管疾病……不过在现实生活中,也有不少人栽在“补”字上。

这段文字意在说明:

- A.提醒人们应该遵循科学的养生方法
- B.不可过于迷信“吃啥补啥”的说法
- C.不少人因过度“补”而引发各种问题
- D.消费者需谨慎对待网络上的饮食言论

66.大众传媒主要是通过报纸、电视、广播等平台来开展。人际传播是指举办论坛、公众开放日等活动,实现人和人之间的传播。新媒体集合了大众传媒和人际传播两者的优点,兼具广泛性和精准性,既可以同时面对数百万甚至数千万的受众,也可以实现传

播者和受众一对一的交流。受众既是传播的目标对象，也是传播的主体，可以帮助我们实现二次乃至多次再传播。

根据上述文字，对“新媒体”理解不准确的一项是：

- A.新媒体是建立在大众传媒传播和人际传播的基础之上的
- B.新媒体的受众已从传播的目标对象转变为传播的主体
- C.新媒体有助于我们实现二次乃至多次再传播
- D.新媒体的双向互动性体现了它与传统媒体的区别和优势

67.一位学者弗洛姆说，现代技术系统有两个指导原则：第一原则是“凡技术上能够做的事都应该做”，第二原则是“最大效率与产出原则”。弗洛姆所说的第二原则，就是所谓的效率原则。他所说的第一原则提出了一种技术逻辑——“能够做”等于“应该做”。这两条原则结合起来，就是凡技术能够做的都应当去做，而且还要尽量强化它的效果。即使是恶的技术，也应当采用，并且努力强化它的恶果。这当然是荒唐的逻辑。

“能够”是对技术功能的判断，是事实判断；“应该”是价值判断、伦理判断。“能够”不等于“应该”，正如“应该”不等于“能够”。同样，技术不能取代道德，就像道德不能取代技术。如果凡技术能够做到的事，我们都应当去做，那我们就放弃了对技术应用后果的评价和责任。

下列不属于作者对弗洛姆“第一原则”评价的一项是：

- A.第一原则事实上混淆了事实判断与价值判断、伦理判断
- B.第一原则提出了一种技术逻辑，而这一逻辑是片面的
- C.如果应用这一原则，那么，势必会放弃对技术应用后果的评价和责任
- D.第一原则强调了凡技术能做的都应当去做，而且要尽量强化它的效果

68.社会冲突扮演了一个激发器的角色，它激发了新规范、规则和制度的建立，从而充当了促使敌对双方社会化的代理人。此外，冲突重新肯定了潜伏着的规范，从而强化了对社会生活的参与。作为规范改进和形成的激发器，冲突使得调整已经发生变化了的社会关系成为可能。但是，社会冲突是否有利于内部适应，取决于是在什么样的问题上发生冲突，以及冲突发生的社会结构。

这段文字主要说明：

- A.社会冲突有助于社会整合
- B.社会冲突的整合功能是需要条件的

- C.社会冲突是社会化不充分的表现
- D.社会冲突是参与社会生活的方式之一

69.每个人的德性都与公共生活紧密相关。现代国家中的公民，是构成社会的基本分子，离不开公共生活。公共生活的重要部分之一，就是完全超越利己动机的公益慈善。事实上，追问人的本性，每个社会成员都有向善、为善的一面。与其说这是完成他的社会责任，不如说这会给他带来助人的喜悦和欢愉。这既是本性，也是权利。那种片面地将公益慈善视为社会精英特权或某些组织禁脔的思想，是无视人之本性的陋见，不利于公共伦理和公共道德的形成，是阻碍现代公民意识生成的绊脚石。

这段文字意在强调：

- A.德性与公共生活紧密相关
- B.行善给人带来喜悦和欢愉
- C.做善事是社会成员的权利
- D.不正确的慈善观危害甚大

70.残缺家庭是指家庭中配偶一方因离婚、死亡、出走、分居等原因使家庭成员不全的家庭。在现代西方国家，离婚率较高，造成残缺家庭数量增多。以美国为例，20世纪70年代以来，每两对登记结婚的夫妇中就有一对离婚，单亲家庭数量增加75%以上。离婚后，由于男子的再婚机会多于女子，单亲家庭大多以妇女为主，这种单亲家庭约占美国家庭的19%。在西方其他国家，离婚也是造成单亲家庭的主要原因。中国由于长期受封建节操观的影响，多为寡居家庭，因离婚产生的残缺家庭较少，但现在情况也有所改变。

下列说法与这段文字相符的是：

- A.美国的离婚率一度高达75%
- B.美国妇女的再婚率高于中国
- C.在中国，离婚造成的单亲家庭数量有所上升
- D.在美国，以妇女为户主的家庭占家庭总数的19%

71.19世纪的一项重大发明导致制蜡业产生了革命性的变化，也使得照明成为了普通老百姓的现实。在19世纪的早期和中期，人类发现了利用碱和硫酸提炼动物脂的工艺，其产品硬脂比没有提炼的动物硬脂更加坚硬，燃烧时间也更长。这一发明创造意味着人类可以生产出点燃时无太多烟尘和太臭气体的脂蜡。

下列关于19世纪人类发明了硬脂产品以后的各项说法中正确的一项是：

- A.蜡燃烧时没有太多烟尘
- B.蜡燃烧时散发出香味

C.蜡没有达到普遍使用

D.蜡燃烧时间不长

72.公共领域的问题从来都不是科学的问题、统计数字的问题，而是主观认知的问题、意见的问题、想象的问题。在社会领域，民众的主观感觉才是最主要的客观事实。因此，在讨论公共政策问题的时候，看似准确的数字，其实并不像官员、专家们想象的那样重要。相反，如果一个国家的民众感觉自己的税负沉重，那么，该国的税负就是沉重的，不论专家们计算出来的宏观税负水平与其他国家相比有多低。

这段文字意在告诉我们：

A.有时公共政策的科学制定需要我们远离数据分析

B.一国税负的沉重与否取决于该国公民对税负的主观感受

C.我们对一些公共领域问题的认识有失偏颇

D.解决公共领域问题时参考民众的感觉比数据更加重要

73.今日中国文化，需要的不是流氓精神，而是新的文化绅士精神。如果说，旧文化已经显示出其可笑之处，那替代它们的也不应当是山寨文化，而是真正具有原创性的独立文化。“山寨”或许有反抗的努力，却没有自由精神。他们或许有天才，但却不能指向真善美的创造。

下列表述，符合上述这段话意思是：

A.山寨文化是流氓文化

B.山寨文化不是真正具有原创性的独立文化

C.山寨文化正是由于依附于旧文化而缺乏独立自由之精神

D.山寨文化颠覆了传统的真善美

74.早在1900年，第一辆电动汽车就已经上路。尽管近些年一些知名汽车厂商先后推出了各自的纯电动概念车，但这并未拉近电动汽车与现实生活之间的距离。究其原因，电动汽车的研发并非只是将传统发动机更换为电动机这般简单，而是一个庞大的研究课题。仅车用蓄电池就存在电池容量、存储能力、稳定性等诸多问题。此外，用电动机代替传统发动机后，车身设计、传动系统、电气系统都会产生颠覆性的变化。解决这一系列问题，需要汽车厂家具备雄厚的研发能力。

这段文字意在说明：

A.电动汽车研发的瓶颈是蓄电池问题

B.电动汽车广泛应用于实际生活尚需时日

C.电动汽车已成为汽车工业研究发展的新方向

D.电动汽车的研发进程取决于厂家的研发实力

75.从事实际工作的同志往往经验较多，这是很可贵的，但是如果他们就以自己的经验为满足，那也很危险。他们须知自己的知识是偏于感性的或局部的，缺乏理性的知识和普遍的知识，就是说，缺乏理论，他们的知识也是比较地不完全。而要把革命事业做好，没有比较完全的知识是不行的。

这段话的主要意思是：

A.拥有很多经验是可贵的

B.拥有很多经验是危险的

C.拥有很多经验的人往往缺乏理性的知识

D.搞好革命事业没有理性的知识是不行的

76.西藏的一些高僧往往以经年累月的光阴用五彩细砂砌成巧夺天工的曼荼罗图案，整个过程中，作业者口诵经文、心存敬意、屏息凝视、一丝不苟。几经辛苦，到了功行完满的一刻，却会毫不留恋地一手抹掉。这一种态度，对惯于享用先进科技和讲求功效的现代人来说，骤看简直不可思议，但细心省察下，却寓意深远。

最准确表达这段文字中“寓意”的意思的是：

A.人生的一切繁华景象归根到底都是无常的

B.应对生命保持高度的敬畏感

C.应认真庄严地投入生活又不为生活中的得失所累

D.生命的意义在于追寻精神上的安顿

77.焚香的习俗在中国有着悠久的历史，通常人们为了礼仪将衣服熏香，古代文人雅士也喜欢在书房内焚上一炉香，营造“红袖添香夜读书”的意境。因此，早在汉代以前就出现了以陶、瓷、铜、铁、瓦为材料制成的香炉。汉代时，佛教的传入对香炉的发展起了相当大的作用。元末明初，原先其它材料制成的香炉逐渐被铜香炉所取代，明代宣德年间则是铜香炉制作的巅峰时期。

这段文字是一篇文章的引言，文章接下来最可能讲述的是：

A.宗教对于香炉制作技术的影响

B.焚香习俗逐渐淡出礼仪的原因

C.香炉制作材料的发展演变过程

D.宣德香炉的制作及其艺术成就

78.清末民初,一批西方人跑到中国西南山区进行科学考察或偷猎活动。他们中有人在山区发现了一种体型较小的有尾熊,由于当地人称其为“山地熊”或“猫熊”,他们在文章中也称其为“猫熊”,“猫熊”后来为什么叫成“熊猫”了呢?民国以后,有些书刊由传统的竖排改为横排,有人由于左右行文的不同,把“猫熊”读成了“熊猫”。不过,其根本原因还是因为动物学界没有对它进行明确的分类。

这段文字主要是:

- A.论述熊猫如何进入研究视野
- B.介绍“熊猫”一词的由来
- C.表明应对熊猫进行科学分类
- D.说明对“熊猫”的误称由来已久

79.理论上说,当 HIV 病毒感染机体时,人体免疫系统所具有“免疫监视”功能,本应及时地发现并清除病毒:体液免疫系统可以产生抗体“中和”病毒;细胞免疫系统则可直接清除被病毒感染的细胞。但是,面对机体的“免疫监视”,HIV 病毒犹如巧妙地伪装了自己,不被免疫系统所发现。HIV 病毒分为两种亚型(HIV-1, HIV-2),即使同一亚型的病毒在不同患者体内,病毒的毒株也不相同。实验室中针对某一毒株所开发的疫苗或抗体,往往临床上不能对所有患者适用。

对这段文字理解正确的是:

- A.当 HIV 病毒感染机体时,人体免疫系统可以产生抗体“中和”病毒
- B.面对机体的“免疫监视”,HIV 病毒伪装了自己,不被免疫系统所发现
- C.细胞免疫系统的功能是可直接清除被 HIV 病毒感染的细胞
- D.同一亚型的 HIV 病毒在不同患者体内的毒株不同

80.在《蒙娜丽莎》曾经失窃的一年中,卢浮宫的空墙,一年时间吸引的游客竟然是过去一年的十二倍。这不能不说是个奇迹。其实卢浮宫的空墙并不是简单的空,而是深刻的“有”。空墙不空,就在于给游客提供了太多的想像。其实空墙的艺术又何尝不是人生的艺术,一览无余的人生从来不会有人感兴趣,只有那些充满曲折、坎坷的人生才会发出光彩,给别人想像的空间,才是精彩的人生,才会有后人的驻足欣赏和仰望。

适合做这段材料标题的是:

- A.耐人寻味的空间
- B.空墙独特的魅力
- C.人生的曲折艺术
- D.卢浮宫的空墙

81.从表面上消除批评并不难，我们的一些政府现在正在这样做。问题是没有批评不等于就是满意，更不容忽视的问题是不让批评将会导致更严重的对立。在不让批评的情况下，群众难免会有情绪，会有负面的东西。这个时候不是去消除批评，而是要消除阻碍批评的各种因素，既包括技术性障碍，更包括一些政府傲慢的心态、拒斥的举动。

这段话旨在说明：

- A.政府要消除阻碍批评的各种因素
- B.政府把工作做好了就不存在批评
- C.政府应以积极心态接受群众批评
- D.政府要创造条件让群众批评监督

82.上世纪70年代末，中国实行严厉的计划生育政策，每对夫妻只能生育一个孩子。计划生育有效控制了人口，但“天有不测风云，人有旦夕祸福”，计划生育也使得独生子女家庭面临更大的风险。投资者强调不能把所有鸡蛋放在一个篮子里，独生子女家庭却只能把鸡蛋放在一个篮子里，因为就算有更多的篮子，鸡蛋却只有一个，无论放在哪只篮子里，摔了也就没有了。

这段文字要说明的是：

- A.我国实行计划生育政策的起始时间
- B.计划生育政策有风险
- C.天有不测风云，人有旦夕祸福
- D.计划生育给独生子女家庭带来高风险

83.我国实行的开放政策使国内城市与城市之间、南方与北方之间、内地与沿海之间展开了多种多样的吸引外资的竞争，导致了一些省份原先获得的区域倾斜政策优势（如减税、退税、低税、优惠贷款等）减弱，从而增加了国内利用外资的竞争。

这段话主要支持了这样一种观点，即：

- A.优惠政策有利于吸引外资
- B.利用外资的国际环境越来越复杂
- C.国内为利用外资的竞争正在增加
- D.减税、退税、低税等政策使国家税收受损

84.戏剧和书法篆刻家使用的繁体字等小众文化产品，正面临阵地锐减、影响下降的处境。这样的表现，从技术层面说，并无大的问题，因为实用主义统治的时代，那些已经不甚实用的东西，可以退出技术的范畴，但是，从文化产品的延续性而言，那些被

几千年中国文明史检验了的文化，它绝不能不为人知，也不能只能由书法家、戏剧家等专门人士扛着，如果最后的结果就是这样，那么终会曲终人散，留下一段文化的悲剧。

下列属于文中“文化悲剧”的是：

- A.大量历史文物流失海外
- B.繁体字被简体字取而代之
- C.多种民间曲艺面临失传困境
- D.少数民族生活被现代生活简化

85.实体书店生存日益困难，据说和网络书店的冲击有些关系：网上买书，一来便宜，二来方便，三来品种广泛，选择面广。面对新的竞争手段，传统书店反应越来越迟钝，应对越来越吃力。当然，有时也越来越富有创造力——据说一家全国知名书店附设的咖啡馆都开始卖炒菜了。书和茶、咖啡似乎还有点关联（虽然这关联多半也还建立在习惯之上，经不起多少理性分析），可是和炒菜放一起，就有点怪异。这不禁使人怀疑，实体书店是不是迟早会消失。

对这段文字的主旨概括最准确的是：

- A.解释实体书店生存日益困难的原因
- B.指出实体书店在新的形势下的创造力
- C.比较实体书店和网络书店的差异
- D.分析实体书店当前所面临的窘迫处境

86.“一级对一级负责，一级让一级放心”“我的工作无差错，我的岗位请放心”……“放心”，常见于言之凿凿的表态，大庭广众之下的承诺，但能否真正做到让上级、让战友乃至让祖国、让人民放心，绝非拍拍胸脯、喊喊口号那么简单。

作者所要表达的观点是：

- A.让人放心应该成为工作标准
- B.让人放心应该成为一种常态
- C.只有付诸行动才会真正让人放心
- D.只有让人民放心才能让领导放心

87.仙人掌这种无叶有节、长着刺的“常青植物”、“卫士植物”，无论是生在沙漠、悬崖这种人迹罕至之地，或是公园、路边这种人流如川之地，她都能做到坦然无忧，笑迎日出日落。无论是其形胖如山丘，或是其体瘦如孤峰，她都能安身为乐，外不劳形去减肥；无忧为福，内不思悲以滋补，很有点“莫思身外无穷事，且尽生前有限杯”的味道。

这段文字描述的主要是：

- A.仙人掌的做派是豁达的，仙人掌的风骨是秀爽的

- B.仙人掌的胸襟是博大的，仙人掌的精神是高尚的
- C.仙人掌的生命是坚强的，仙人掌的情趣是自然的
- D.仙人掌是平常的“花瓶”，但又不平常的“刺头”

88.海德格尔说人应该“诗意地栖居在大地上”，对我们来说，这也许太空泛了。我们先要做的事是去注意身边的一片落叶，且不要去拒绝落叶给我们的心灵带来的清、静和悲凉。金钱能买到许多东西，但买不到生命深处的诗情。如果典当了固有的诗意体验，生命还剩下多少本真？

对这段文字理解错误的是：

- A.生命的本真是诗意的，要从一草一木中体验生命的价值，获得心灵的慰藉
- B.诗意不仅蕴含安宁、浪漫，也包容苍凉、悲怆，人类的生命何尝不是如此
- C.不要让物欲充塞了灵魂，否则精神和情感会变得日益麻木贫瘠、苍白乏味
- D.有了激情浪漫、多愁善感的诗人的气质和情怀，才能做到“诗意地”生活

89.语言到底是什么？假如它仅仅是交流工具，地球人都讲英语也就谈不上有啥危险。然而语言还是文化最原始、最根本的成分，是文化的载体和源泉。任何一种语言中都蕴藏着那个民族的智慧、技艺、信仰、风俗等丰富的内涵，一旦消亡，人类就会丧失对理解、认识和更新自我而言“不可替代的部分和瞬间”。一个语种的离去即是一种独一无二文明的死亡，只懂美式英语的人怕是难以理解这其中蕴含的悲恸和伤感。

对这段文字概括最准确的是：

- A.语言是人类真正的遗传密码
- B.英语成为地球上唯一的语言意味着文明的消亡
- C.语言是文化的载体，语种承载着文明形态
- D.不同的语言意味着不同的世界，抛弃一个语种就等于葬送一种文明形态

90.1956年，印度三个西南地区合并成为喀拉拉邦，全邦说同一语言——马拉雅拉姆语，是“山地语”的意思。喀邦人口3千3百万，农村人口占80%，有990个乡，人口密度在全国排第二，每平方公里有750人。但有一个惊人的数字：全邦有9千多间图书馆，1万2千多间阅览室。其中，隶属于“喀拉拉图书馆议会”的图书馆有5千多间，分为三类：甲类有图书2万5千册以上，乙类有1万5千册以上，丙类有5千册以上。三类图书馆的比例是2：3：5。这就是说，每个乡大约有人口2万5千人，图书馆8间，阅览室10间。

这段文字所要表达的重点内容是：

- A.印度喀拉拉邦的图书馆和阅览室数量惊人
- B.印度喀拉拉邦人口众多
- C.印度喀拉拉邦的城市化程度很低
- D.印度喀拉拉邦的图书馆分为甲乙丙三类

91.生物多样性是一定时间、一定地区所有生物物种及其遗传变异和生态系统的复杂性的总称。它是地球上生命与其环境相互作用并经过几十亿年的演变进化而形成的，是地表自然地理环境的重要构成成分之一。生物多样性与其物理环境相结合而共同构成的人类赖以生存和发展的生命支持系统，是社会经济发展的物质基础，对于维持自然界的生态平衡、美化和稳定生活环境具有十分重要的作用。

以下说法，不合文意的是：

- A.生物多样性是生物在几十亿年的漫长过程中形成的生物群体的总称
- B.生物物种的遗传变异和生态系统的复杂性是生物多样性的重要方面
- C.生物多样性是在漫长的演变进化中，由生命与环境相互作用而形成的
- D.生物多样性有利于维持生态平衡，是人类社会经济发展不可或缺的物质基础

92.每个人都希望自己的工作水平和能力能有所长进。但实际上总有一些人，确实就停留在一个水平上没有任何进步，甚至退步。安于现状，今天和昨天没有什么不同，明天也不会有什么新的打算。这种心态让一些人做什么事情都提不起劲来。能不能长进，怎样能长进，需要每一个职场中人认真思考。激情地投入工作与麻木而呆滞地工作，是完全不同的两个天地。

这段话的主旨是：

- A.在职场中要充满激情地工作
- B.态度决定“高度”
- C.职场中人应对未来有计划
- D.每个人都应该提高自己工作水平和能力

93.在市场经济条件下，企业要想达到自身获利的目的，必须首先生产或提供对他人有价值的东西。如果企业置他人利益于不顾，采取欺骗的手段进行不正当交换，不仅不被社会容忍，而且要受到法律惩罚。市场经济内在地要求企业遵循诚信、公平、负责

等交换准则。这些交换准则，内含着维系和推动企业发展的道德力量。换言之，不具备道德力的企业、不对他人或社会负责任的企业，终将被淘汰出局。

这段文字意在说明：

- A.提升企业道德力，是市场经济健康发展的内在要求
- B.提升企业道德力，是为了增强企业责任感和使命感
- C.提升企业道德力，是现代企业持续发展的必要条件
- D.提升企业道德力，是企业避免受到法律惩罚的手段

94.古阳关位于敦煌城西 75 公里的古董滩上，三面沙丘，沙梁环抱。它与玉门关遥相呼应，像两颗明珠镶嵌在一段汉长城的两端，因在玉门关以南，故名阳关。阳关这样的边塞之地之所以闻名遐迩，并不起始于王维的那首《渭城曲》，而是因为它自汉魏以来就是通往西域诸国最西边防上的重要关隘，是古丝绸之路南道的必经关口。

下列不属于古阳关闻名遐迩原因的一项是：

- A.古阳关是通往西域边防的重要关隘
- B.王维《渭城曲》诗中对古阳关的咏叹
- C.古阳关与玉门关遥相呼应，像两颗明珠镶嵌在一段汉长城的两端，因在玉门关以南，故名阳关
- D.古阳关是古丝绸之路的必经关口

95.居里夫人说，我认定科学本身就具有伟大的美。一位从事研究工作的科学家，不仅是一个技术人员，并且他是一个小孩儿，在大自然的景色中，好像迷醉于神话故事一般。这种魅力，就是使我终生能够在实验室里埋头工作的主要原因。

作者说，从事研究工作的科学家“是一个小孩”，意在说明：

- A.科学本身具有伟大的美
- B.科学家对所从事的工作达到迷醉的程度
- C.科学家一直沉醉于在实验室埋头工作
- D.小孩迷醉于大自然的美景如同进入神话境界

96.用石头造房子太慢，在古代光是石料加工和运输就是旷日持久的劳役。罗马彼得大教堂造了整整一百年，巴黎圣母院造了一百八十多年，而德国的科隆大教堂前后耗时竟达六百年之久。神是永恒的，不妨天长地久耗下去。可是钟情于现世的中国人绝对等不起，尤其是中国的皇帝和官员们。中国历史上每一次改朝换代都是一番大兴土木，

巍峨相接的宫殿一转眼就起来了，实在是靠了木结构的施工便利。换作西方人凿石垒堡的搞法，怕是皇帝等到死也住不进宫里。

对这段文字主旨概括最准确的一项是：

- A.揭示中国人和西方人早造房子上的理念的不同
- B.西方人喜欢用石头造房子，而中国人喜欢用木结构造房子
- C.分析中国古代建筑采用木结构而非石结构的原因
- D.揭示建筑的木结构相对于石结构具有的独特优势

97.中国骑兵的历史始于春秋战国时期，赵武灵王“胡服骑射”是骑兵日趋重要的反映，但当时骑兵非常辛苦，只能依靠双腿的力量夹紧驰骤颠簸的马匹以保持平衡。西汉中期，西南边陲的滇国骑兵开始普遍使用一种特殊的马镫，它使上马和骑乘时有了一个很好的着力点，马鞍前沿两侧各系有一根下垂至马腹前侧的绳子，绳端结成圆圈状，骑马者双脚的大拇指各伸入一圈，蹬向马腹前方，这种绳圈式马镫的图像时常出现在滇国的青铜器上。3世纪左右，一种更为方便简洁的上马搭足用的铁马镫在中华大地上出现，长沙金盆岭西晋墓骑马陶俑的单马镫再现了这段历史。这些陶俑的马镫仅出现在左侧，而且乘马者的脚也没踏在镫里，表明这个马镫是供上马时蹬踏之用。

下列说法与这段文字相符的是：

- A.马镫晚于骑兵而出现
- B.最早的马镫是青铜材质的
- C.西晋时的铁马镫只在马的右侧
- D.西汉骑兵使用只供上马的马镫

98.对于一个国家来说，没有历史的集体记忆，就难有现实的广泛认同，就难免出现数典忘祖的悲哀。一个国家，自身的历史越是深入人心，未来的发展就越有凝聚力。所以，有识之士总是强调国可以亡而历史不可灭这样一种观念。可见，历史素养应该是国民素质最基本的组成部分。那么，历史靠谁去传播？从某种意义上说，让自己的研究成果走出书斋，让更多的人了解历史，是史学家必须担当的责任和使命，而非单纯的个人意愿与喜好。

这段文字旨在说明：

- A.研究历史和传播历史是史学的重要功能
- B.史学者不仅要研究历史，还要传播研究成果
- C.史学家对国民历史素养的提高负有重大责任
- D.历史的集体记忆具有提高国民凝聚力的作用

99.铁树开花有很强的地域性,生长在热带的铁树,10年后就能年年开花结果。北方近年来铁树频频开花,是因为铁树大多被当做盆景养殖,人们在培养铁树的各个环节中都非常讲究,从幼苗培育到栽培技术,再到日常照顾都非常细心、认真,具体到选择高科技肥料、使用适宜的水量等等,生长在温室中的铁树自然容易开花结果。而且,铁树是裸子植物,达到一定的树龄自然会开花,不开花反而不正常。

这段文字意在表明:

- A.人工干预使铁树在北方的花期缩短
- B.铁树在寒冷的北方开花属于正常现象
- C.地域性强的植物通过人力能改变其品种
- D.裸子植物在北方的开花时间因品种而异

100.我国海域石油蕴藏量十分丰富,目前多数开发者集中在近海海域勘探开发。随着海洋石油勘探开发的飞速发展,有的钻井船和采油平台人为将大量的废弃物和含油污水不断地排入海洋。海洋污染会导致海洋生物死亡,幸存下来的成年鱼类和贝类长期生活在被污染的海水中,其体内也蓄积了某些有害物质,进入市场被人们食用后会危害人类健康。

这段文字旨在说明:

- A.我国海域石油开发的现状
- B.海洋石油开发造成的污染
- C.造成海洋污染的人为原因
- D.我国近海海域的污染状况

101.《方言播音需报批,文化根基应呵护》,这是一份提案引发的“粤语存亡”大争论。非此即彼,手忙脚乱的背后,是罢黜方言,独尊“官话”的文化专制,是本是同根生,相煎何更急的质问。中国,一直以其历史悠久,多民族融合而闻名;然,当外语成为教学及考核重点,各种外语词汇蜂拥进入现代汉语,方言何以被挂上“土话”的标签?当“哦卖糕”成为感叹词的同时,是不是暗含了一种实力的文化市俗观念?连自身都将方言根基抛弃,文化何以繁荣?

这段文字表达了这样一个观点,即:

- A.方言是文化的重要组成部分
- B.文化专制不适宜方言的发展
- C.文化的繁荣不应摒弃方言
- D.应正确认识方言的积极作用

102.消除监管共识与快递业之间的“隔离带”，首先需要理顺监管体制，让更多专业的监管力量盯住快递业违规的多发环节。同时，鉴于快递业大约80%的业务量来源于网购，需要让消费者们对快递企业有评价权和选择权，譬如网购时不只能选择货物，还可附带指定快递公司。如此，避免电商和托运企业只按价格高低或者能否违规承运选择快递、快递出于业务竞争多对电商和托运企业“负责”而罔顾消费者利益的二维格局。

这段文字意在强调：

- A.消除“隔离带”有利于快递业的规范发展
- B.引入消费者的监督，有助于规范快递业市场
- C.限制电商的发展是规范快递业市场的重要措施
- D.多方监管是保证快递业市场安全的有效途径

103.今天这个时代，我们当然没有必要固守传统的“纯文学”概念，文学外延的扩大是一个趋势，而从本质上来说，文学的内涵应该保持稳定：那就是对社会生活的审视，对人类心灵的呵护，对真理正义的追索。这个时代，越来越多的人涌进了文学队伍，越来越多的文学类型丰富着文学的领地，但令人遗憾的是，文学的内涵却没有得到深层次挖掘，某种程度上还有萎缩趋势——这是我们在看作家富豪榜时，透过苍白数字，需要认真思索的严峻现实。

这段材料的主要内容是：

- A.文学的发展扩大外延是必然趋势
- B.当今纯文学处于一个尴尬的位置
- C.文学的内涵应成为文学不倦的追求
- D.评论作家富豪榜不能只看数字

104.“公益黑幕”与“公益透明”之间的对决，胜负牌其实不在公益组织自己手里，也不在公众手里，而是在公益组织的大额捐款人手里。只有公益组织的大额捐款人出手，公益组织才会心悦诚服地把事情说得明明白白，公众才能得到一个满意的交代。毕竟，大额捐款人决定了一个公益组织的生存，捐款人的成熟才是社会公益正常发展的正道。

这段文字意在说明：

- A.大额捐款人决定了公益事业的透明程度
- B.公益组织的透明运行需要捐款人的成熟
- C.大额捐款人决定了公益组织的生存和发展
- D.公益组织最注重的是公益捐款人而非公众

105.国外的宪法定义很多,但那些国家的学者往往着眼于宪法功能的发挥方式来给它下定义,其中比较平衡和常见的说法是:宪法是通过限制公共权力来保障公民基本权利的高级法。其中,高级法主要着眼于比普通法律更高的效力而言的,至于通过限制公共权力来保障基本权利的看法,虽然抓住了宪法在法律地位上的根本特点,但毕竟只是对现象进行描述。中国的法学受本质主义影响特别深,而按照这种主义,国外这类界定宪法概念的方式没有抓住事物的“本质”,因而中国宪法学者往往不愿认同。

作者接下来最有可能着重介绍的是:

- A.中国宪法学者不认同国外宪法定义的原因
- B.国外法学界在宪法的定义方面存在的缺陷
- C.中国法学界关于宪法定义的基本情况
- D.中国宪法的历史及其与国外宪法的差异

106.如何使审计工作更有力量?这就需要审计与问责互为掎角之势,形成合力,积极推进审计工作的成果转化,严格对责任人进行追究。审计揭露的问题没有达到犯罪程度的,行政监察部门应该展开调查;涉及违法犯罪的,司法机关也应该直接介入调查。只有通力协作,才会让审计工作更有权威,让审计履行好“看门狗”的责任。

这段材料的主旨概括准确的是:

- A.行测监察比审计揭露更重要
- B.审计与问责互为掎角方显力量
- C.审计发挥作用的保障是问责
- D.审计的职责在于严惩违法行为

107.生活中几乎人人都懂得绝不能削足适履这一道理,然而,为了职业而改变性格的人却比比皆是。职业这双鞋,难道就真的需要用改变性格的巨大代价来适应吗?这是典型的本末倒置。这一日常生活中再简单不过的道理,为什么我们却要花上几年、甚至是几十年的时间才能真正领悟到呢?

这段文字意在强调:

- A.找工作时应考虑自己的性格特点
- B.在生活和工作中应注意扬长避短
- C.事业成就取决于对职业的热爱
- D.真正领悟浅显的道理也需要时间的磨砺

108.目前正在向世界各地全面拓展的汉语国际推广活动,必须将海外华人族群文化的现状考虑在内。以全面促进汉语国际推广、弘扬中华文化来发展软实力是一回事,支持海外华人文化从中华文化的母体脱胎而出、成为当地社会的族群文化又是另一回事。如果以前者来取代后者,就会混淆华人学习母语与学习一种外国语的界线,混淆配合海外华人构建自己的族群文化与弘扬中华文化的界线,对维护和发展华人与中国的正常关系是不利的。

这段文字强调的是:

- A.应注意维护和发展海外华人与中国的正常关系
- B.发展中华文化软实力应与支持海外华人族群文化齐头并进
- C.海外华人文化应与中华文化巧妙融合,同时保有自身的特色
- D.汉语国际推广活动的前提之一是支持海外华人构建自己的族群文化

109.要证明一个事物的可能,有两条途径,一条途径是指出它的确存在,即过去曾经存在,或者现在正在存在;另一条途径是从逻辑上证明它的存在,即使它现在并不存在,过去不曾存在,但按理它应该存在,或者在将来的某一天总会存在。

这段文字表明:

- A.要从两条途径证明一个事物的可能
- B.一个事物的可能与否不确定
- C.证明可能即证明存在
- D.存在分为确实存在和逻辑存在

110.长期以来,“准确定位”被认为是制定城市发展战略的头等大事,也被视为提升城市竞争力的关键环节。这种定位思维偏重城市作为空间的存在和物理形态的延续,却忽视了城市的功能和价值的体现,忽视了对“人”这个城市主体的观照,最终造成城市建设“摊大饼”、千城一面。如果说资源禀赋决定了城市竞争中的比较优势,那么城市的品牌和价值才是城市竞争优势的核心。只有从定位导向转到价值导向,才能真正提升城市品质、产业品质和市民生活品质,推动城市竞争力的提升和城市生产力发展的良性循环。

对这段文字的主旨概括最准确的是:

- A.城市竞争力实际是多种因素的综合体
- B.城市建设“摊大饼”的模式并不可取
- C.城市发展要更加重视城市价值的提升
- D.制定城市发展战略应该注意因地制宜

判断推理

1. 李老师、王老师、张老师在同一所大学教语文、数学和外语，按规定每人只担任其中一门课。而且：

- ① 李老师上课全部用汉语。
- ② 外语老师是该校一个学生的舅舅。
- ③ 张老师是女教师，她的女儿考大学之前，经常向数学老师请教。

请判定他们各自上的课程是：

- A. 李老师上语文，王老师上外语，张老师上数学
- B. 王老师上语文，李老师上外语，张老师上数学
- C. 张老师上语文，王老师上外语，李老师上数学
- D. 王老师上语文，张老师上外语，李老师上数学

2. 凡是色泽鲜艳的菌子都是有毒的。

由此可知：

- A. 有毒的菌子绝对是色泽鲜艳
- B. 色泽鲜艳的菌子一般不能吃
- C. 凡色泽不鲜艳的菌子都是无毒的
- D. 有少部分色泽鲜艳的菌子没有毒

3. 赵、钱、孙、李四个人中既有大人也有小孩，给他们称体重时，赵、钱两人的体重几乎等于孙、李两人的体重；将钱、李对换一下，赵、李两人的体重明显大于孙、钱两人的体重，并且赵、孙两人的体重还小于钱的体重。

根据题干信息，下面哪项是赵、钱、孙、李的体重的正确排序（由重至轻）？

- A. 李、钱、赵、孙
- B. 李、钱、孙、赵
- C. 钱、孙、李、赵
- D. 钱、赵、李、孙

4. 一次逻辑考试后，兰兰、晶晶、玲玲在一起讨论考试成绩，兰兰说：“如果我能够得 100 分，则晶晶也能得 100 分。”晶晶说：“我看兰兰能得 100 分，我不能得 100 分。”玲玲说：“如果我能够得 100 分，则晶晶得不了 100 分。”事实上，考试成绩出来后，证明她们三个中只有一个人说的是真话。

下述说法中哪项是正确的？

- A.玲玲说的是真话,晶晶没得100分
- B.兰兰说的是真话,晶晶得了100分
- C.晶晶说的是真话,晶晶没得100分
- D.玲玲说的是真话,兰兰得了100分

5.小周、小吴、小郑和小王四人的职业是:舞蹈演员、护士、教师和服装设计师。还知道:小周比护士的工资高,小郑比小吴的工资低,舞蹈演员比服装设计师的工资低,教师比护士的工资低,服装设计师不是小郑就是小王。

根据以上陈述,可知下述哪项为真?

- A.四个人的职业都能确定
- B.四人中有三个人的职业能确定
- C.四人中有两个人的职业能确定
- D.四个人的职业都不能确定

6.由“高薪未必养廉”这句话我们可以推出:

- A.低薪同样养廉
- B.养廉必定高薪
- C.高薪难以养廉
- D.低薪肯定养廉

7.刘平学习对外汉语专业,王娜学习汉语专业,学习对外汉语专业的都学习过汉语专业的课程,学习汉语专业的都学习过古汉语,国内综合大学都设有汉语专业。

由此我们知道:

- A.刘平可能没有学习过古汉语
- B.王娜学习过对外汉语专业
- C.刘平不在综合性大学
- D.王娜可能在综合性大学

8.甲、乙、丙、丁四人涉嫌某案被传讯。

甲说:作案者是乙。

乙说:作案者是甲。

丙说:作案者不是我。

丁说:作案者在我们四人中。

如果四人中有且只有一个说真话,则以下哪项断定成立?

- A.作案者是甲
- B.作案者是乙
- C.作案者是丙

D.题干中的条件不足以断定谁是作案者

9.一起盗窃案发生,经调查共有二人合伙作案。警察逮捕了甲、乙、丙、丁四名嫌疑人,罪犯必是其中二人。经询问,甲说:“丁是罪犯。”乙说:“甲是罪犯。”丙说:“我不是罪犯。”丁说:“我也不是罪犯。”

经调查,四人中二人说了假话,二人说了真话。则下列哪项可能为真?

- A.甲、丁二人合伙作案
- B.丙、丁二人合伙作案
- C.甲、丙二人合伙作案
- D.甲、乙二人合伙作案

10.在维和警察的选拔中,要求被选中者同时在技术能力、政治觉悟、身体素质三个方面都是优秀的。现在有甲、乙、丙、丁四个候选,其中技术能力优秀的有1人,政治觉悟优秀的有2人,身体素质好的有3人,每个人至少具备一优,有一人同时具备了三优。已知,甲、乙政治觉悟一样高,乙、丙身体素质一样好,丙、丁身体素质不都是好的。

请问四人中哪位同时具备了三优?

- A.甲
- B.乙
- C.丙
- D.丁

11.某国家足球队教练在集训过程中发现球员 U、V、W、X、Y、Z 的最佳配合特点是:

- (1) V 和 X 不能同时都在场上,也不能都不在场上。
- (2) 只有 U 不在场上, V 才不在场上。
- (3) 如果 W 在场上,则 X 也要在场上。
- (4) 如果 Y 和 Z 在场上,则 W 也必须要在场上。

那么,如果在 U 和 Z 都在场上的情况下,为了保持球员间的最佳配合,则可以推出以下哪项一定为真?

- A.X 在场上且 Y 不在场上
- B.V 在场上且 Y 不在场上
- C.V 和 W 都在场上
- D.V 和 Y 都不在场上

12.甲乙丙三朋友去参观车展,看到一款轿车。甲说:“这不是‘奇瑞’,也不是‘荣威’。”乙说:“这不是‘奇瑞’,而是‘红旗’。”丙说:“这不是‘红旗’,而是‘奇瑞’。”后来,车展管理员说:“三人中,有一个人的两个判断都对;另一个人的两个判断都错;第三人的两个判断一对一错。”

由此可知:

- A.这辆轿车是奇瑞轿车
B.这辆轿车是荣威轿车
C.这辆轿车是红旗轿车
D.上面三辆轿车都不是

13.出于安全考虑,使用年限超过 10 年的电梯必须更换钢索。在必须更换钢索的电梯中有一些是 S 品牌的。所有 S 品牌电梯都不存在安全隐患。

由此可以推出:

- A.有些存在安全隐患的电梯必须更换钢索
B.有些 S 品牌的电梯必须更换钢索
C.有些 S 品牌的电梯不需要更换钢索
D.所有必须更换钢索的电梯使用年限都超过了 10 年

14.甲、乙、丙、丁是大学同班同学,就期末平均成绩而言,甲的名次在班上的前三分之一,乙的名次在班上的前十分之一,丙的名次与乙一致,丁的名次比丙的低。

如上述信息为真,则下列哪项肯定是正确的?

- A.甲的期末平均成绩比丙的好
B.丁的期末平均成绩比乙的差
C.丁的期末平均成绩比甲的差
D.丙和丁的期末平均成绩都比甲的好

15.有位外地游客说:“不到鼓山,不算游福州;不看摩崖石刻,白来鼓山。”

根据这句话,最有可能推出的结论是:

- A.鼓山的摩崖石刻集中了福州最精华的人文景观
B.游福州只要看摩崖石刻就可以了
C.游福州,最令人难忘的是摩崖石刻
D.游福州,应先看摩崖石刻

16.体育馆如果在同一天既开放乒乓球室又开放羽毛球室的话,那么这一天也一定开放网球室。该体育馆星期三不开放网球室。高同学只有当开放乒乓球室的时候才去体育馆。

如果上述情况都是属实的,那么以下选项正确的是:

- A.星期三高同学不会去体育馆
B.高同学不会在同一天既去学校体育馆的乒乓球室又去羽毛球室
C.如果体育馆在星期三开放羽毛球室,那么这一天一定不开放乒乓球室

D.体育馆在星期三不开放羽毛球室

17.某旅行社组织了两个旅游团，一个团去北京旅游，一个团去杭州旅游，由于两个团同时出发，所以同一个人不可能报两个团。所有去杭州旅游的人都是北京人，有些四川人参加了去北京的旅游团，所有的四川人都喜欢吃辣椒。

如果以上说法是正确的，那么下列哪个也一定是正确的？

- A.旅游团中不去北京旅游的人都不喜欢吃辣椒
- B.旅游团中有些四川人没有参加去杭州的旅游
- C.旅游团中有些北京人不去杭州旅游
- D.旅游团中有些参加杭州旅游的人不喜欢吃辣椒

18.某单位人事制度规定：只有平时表现好，无迟到早退现象，年底才能够拿到考勤奖或年终奖。

以下哪项所反映的情况违反了该单位的人事制度规定？

- A.老吴在单位表现积极，全年没有迟到早退的现象，年底却没有拿到年终奖
- B.小李全年有三次迟到，都是堵车引起的，单位决定不给他发考勤奖
- C.老张平时表现突出，从不迟到早退，年底单位给他颁发了年终奖
- D.小王一次早退被领导发现，考勤奖没有了，可他还是拿到了年终奖

19.甲、乙、丙三人，他们的职业有律师、医生和教师。已知：

- (1) 丙的收入比教师高；
- (2) 甲的收入和医生不同；
- (3) 医生的收入比乙少。

根据以上条件，下列对甲、乙、丙三人身份判断正确的是：

- A.甲是律师 乙是教师 丙是医生
- B.甲是教师 乙是医生 丙是律师
- C.甲是教师 乙是律师 丙是医生
- D.甲是律师 乙是医生 丙是教师

20.法国总统萨科齐正式宣布竞选连任，打出了“强盛法国”的竞选口号，承诺带领法国走出经济危机。巴黎街头萨科齐竞选广告上写着：“只有强盛的法国才能保护你的家庭。”

根据此竞选口号的推理方式，下列选项为真的是：

- A.虚弱的法国保护不了你的家庭
B.强盛的法国可以保护你的家庭
C.法国虚弱是因为没有保护家庭
D.家庭得到保护，法国就能强盛

21.某公司新员工培训结束后，三个培训主管在讨论有多少学员不能通过培训考核，对话如下：

- 甲：有的学员是能通过考核的。
乙：有的学员是不能通过考核的。
丙：有一个学员不能通过考核。
如果他们三人中只有一个人说的话是真的，则：

- A.所有的学员都没有通过考核
B.有一个学员没有通过考核
C.所有的学员都通过了考核
D.只有一部分学员通过了考核

22.为了实施最佳配合，在确定某排球赛上场队员的组成时，甲、乙、丙三位教练对小王和小李是否上场表态如下：

- 甲：“只有小王上场，小李才上场。”
乙：“如果小王上场，则小李上场。”
丙：“或者小王上场，或者小李不上场。”
据此，下列哪项判断为不可能推出的结论？

- A.三人的话都是真的
B.三人的话都是假的
C.三人的话两假一真
D.三人的话两真一假

23.张红、李聪、王敏，一个是江苏人，一个是浙江人，一个是广东人。浙江人比李聪年龄小，张红和浙江人不同岁，王敏的年龄比广东人大。

根据上述断定，可以推出：

- A.张红是江苏人，李聪是浙江人，王敏是广东人
B.张红是广东人，李聪是江苏人，王敏是浙江人
C.张红是浙江人，李聪是广东人，王敏是江苏人
D.张红是浙江人，李聪是江苏人，王敏是广东人

24.关于某公司职员的工作状况进行如下三个描述：“该公司所有职员都恪尽职守”，“该公司职员并不都恪尽职守”，“文茜女士恪尽职守”，其中有两个描述是假的。

根据题干，仍不能确定下面哪个选项的真假？

- A.文茜女士未恪尽职守
- B.该公司所有职员都不恪尽职守
- C.该公司有些职员不恪尽职守
- D.该公司所有职员都恪尽职守

25.由于按揭贷款的利率下调，人们每月还贷压力减小，因此一家机构预测某地的商品房销售量会增长，但实际上，销售量并未出现明显增长。

下列哪项如果为真，最能解释以上现象？

- A.当地一直存在人口外流的现象
- B.本地的商品房价格没有明显下降
- C.有的开发商取消了购房优惠政策
- D.因经济环境不好，当地人均收入下降

26.想来你绝不会每天吃一勺砒霜，那我不理解你，何以还要抽烟，它们都是要你命的呀！

以下哪项为真，对上述论证的质疑力最弱？

- A.使用砒霜迅速致死，无可幸免，可是吸烟不会立刻死亡也有可能幸免
- B.吸烟时能带来很大的即时满足，这一点砒霜便无能为力
- C.食用砒霜和吸烟存在本质不同，不能通过类比推理得到结论
- D.吸烟有害健康，戒烟势在必行

27. 20 世纪后期的学生经常抗议核武器，现在的学生很少抗议核武器，可见学生一定是没有过去那么关心政治了。

上述论证基于以下哪项假设？

- A.核武器带来的威胁越来越小
- B.对核武器的抗议能够准确衡量一个群体关心政治的程度
- C.现在的学生不像 20 世纪后期的学生那么关心政治
- D.对核武器的抗议能够有效防止核武器带来的威胁

28.统计数据表明，大多数汽车事故出在中等速度的行驶中，极少事故是出在大于 150 公里/小时的行驶速度上的，这就意味着高速行驶比较安全。

以下最能反驳上述论证的一项是：

- A.高速行驶如果发生爆胎的话是很危险的
- B.由于多数人是中等速度开车,所以,多数事故出在中等速度的行驶中
- C.高速行驶的时候,特别是当有突发事件发生时,由于速度过快就很难控制住
- D.与中等速度行驶中出现的汽车事故损害后果相比,高速行驶出现的汽车事故损害后果要严重得多

29.慕课(MOOC)是新近涌现的一种在线课程开发模式。这种课程不同于面对面的课堂授课,其教学材料散布于互联网;人们上课地点不受局限,只需要一台接入网络的电脑即可。有专家称,相较于传统的课堂教学模式,慕课能够提高教学效果。即使慕课所使用的教学材料仅仅是传统板书的在线化,而没有充分利用和实现互联网的功效,也能够起到节省时间的作用。

以下哪项如果为真,是上述专家论证所依赖的假设?

- A.在线课程比使用板书的面对面传统课程有明显优势
- B.相较于传统面对面课程的板书,慕课将教学材料上传到互联网,节省了板书时间,大大提高了教学效率
- C.在慕课中直接搬用传统面对面课程的板书,并不会降低板书的教学效果
- D.有些慕课使用的多媒体课件过于简单,并不能真正发挥在线课程的功效

30.研究人员发现,某种昆虫在晴天的夜里能够准确地沿直线飞到目的地,但在阴天的夜里看不见星星时,这种昆虫在飞行过程中就经常会兜圈或绕路。因此研究人员认为,这种昆虫能够利用夜空中星星的位置进行导航。

以下哪项如果为真,最能削弱研究人员的判断?

- A.这种昆虫在阴天的白天飞行时,寻路的准确性同样比晴天差
- B.在外界有光线照明时,这种昆虫在夜间也能沿直线飞到目的地
- C.除了这种昆虫,该地区其他昆虫都能在阴天的夜里准确地寻路
- D.在有模拟星光的室内实验环境中,这种昆虫同样能准确地飞出直线

31.噬菌体是一种病毒,它能够“捕食”细菌。目前随着医疗中植入技术的发展,越来越多的患者接受着诸如导尿管、心脏支架等医学植入装置,但随之也带来了细菌感染的风险,因此一些研究人员认为如果使噬菌体吸附在植入装置材料表面,再将其放入患者体内,就可以避免植入装置引发的感染。

以下哪项为真,最能削弱上述结论?

- A.对植入医学装置的患者，一般通过服用抗生素来防御细菌感染
- B.有细菌的场所就可能有相应噬菌体的存在，只是存在数量的差异
- C.噬菌体能够攻击致病细菌，但有时也会“捕食”有益的细菌
- D.一些噬菌体进入机体内后，无法适应体液环境，难以保持活性

32.在人们的印象中，生物燃料是一种可再生的绿色能源，而最新公布的研究成果颠覆了人们的这一传统印象。研究人员发现，生物燃料可能因其未完全燃烧而转化为乙醛，进而污染空气，这种污染会导致 M 国每年有 1400 人早亡。因此，有 M 国医疗机构人员认为现阶段应该暂缓推广生物燃料，限制其使用。

以下哪项如果为真，会对医疗机构人员的观点提出最有力的质疑？

- A.现阶段 M 国科学家已研制出使生物燃料充分燃烧的新技术
- B.目前 M 国正在使用的其他燃料的污染每年会导致超过 3000 人早亡
- C.石油等传统燃料已经得到技术改善，由燃烧所带来的污染大幅降低
- D.科学家预计，随着研究工作的推进，5 年后新型生物燃料将不会再产生乙醛

33.房屋装修可能引发白血病。经某医院血液科一年多来的初步统计，来医院看白血病的孩子都表现出一个共同的特点，他们大多在发病前半年内，家里进行了房屋的豪华装修，使用的材料包括美化墙面的油漆、铺地面用的大理石等豪华建材，这样的白血病患者占就诊白血病患者总数的 90%。

以下哪项如果为真，最能加强上述结论？

- A.白血病病人中孩子占的比例较高
- B.来医院看白血病的孩子家庭经济状况富裕
- C.除了装修对环境的污染，病毒也是引起白血病的主要因素
- D.来医院看白血病的孩子的年龄、父母的工作、体重、身高基本相同

34.某市一项对交谊舞爱好者的调查表明，那些称自己每周固定去跳交谊舞一至两次的人近三年来由 28%增加到 35%，而对该市大多数舞厅的调查显示，近三年来交谊舞厅的顾客人数明显下降。

以下各项如果是真的，最有助于解释上述看来矛盾的断定，除了：

- A.不定期去舞厅的人在数量上明显减少
- B.为了吸引更多的顾客，该市交谊舞厅普遍调低了营业价格
- C.家庭交谊舞会逐渐流行

D.迪斯科舞厅的兴起抢了交谊舞厅的生意

35.英国剑桥大学专家称,早期人类的大脑比现代人类更大,而且现代人类比早期人类身材矮小 10%。这项研究颠覆了此前的理论——现代人类伴随着进化变得更高、更强壮。科学家称,这种人类进化衰减性出现在过去一万年左右,很可能是由于农业的出现导致的,农业耕作出现之后,人类受限于食物种类的减少以及疾病的蔓延,所以出现了进化衰减现象。

以下哪项如果为真,最不能质疑研究人员的假设?

- A.据研究,人类大规模农业耕作出现在 5000 年前
- B.一万年前,居住在非洲的人身材和现代人类差不多
- C.随着农业水平的提高,人类的食物种类远多于一万年前
- D.早期人类患病没有办法医治,身残体弱者在进化中均遭到淘汰

36.我国生产婴幼儿配方奶粉的企业有 130 多家,而美国只有 4 家企业,但是美国吃配方奶粉的婴幼儿数量则远高于我国。“设想一下,如果只有 4 家企业生产配方奶粉,企业会倍加珍惜自己的品牌价值,不断加强食品安全意识,任何可能的食品安全风险都是企业自身无法容忍的,发生三聚氰胺这样的问题是不可想象的。”

以下哪项如果为真,最能削弱上述观点?

- A.我国生产婴幼儿配方奶粉的企业太多,品牌价值对于企业并不重要,所以这些企业敢在奶粉中添加三聚氰胺
- B.某国的婴幼儿配方奶粉生产商有 90 多家,它们之中大多数企业生产出的奶粉均未查出过三聚氰胺
- C.某公司是我国生产奶制品的著名企业,其品牌价值很高,但是在其生产的奶制品中查出了三聚氰胺
- D.某企业是美国婴幼儿配方奶粉的著名生产商,在他们生产的某品牌配方奶粉中查出了三聚氰胺

37.该清醒地认识到,目前房地产市场最大的矛盾不是供需之间的矛盾,而是百姓囊中羞涩与房价不断上涨之间的矛盾。而这一问题产生的根源就在于房子被当作奇货可居、有利可图的商品,被房产商和手有余钱的业主一而再再而三地热炒。于是我们看到一些房产商宁愿把房子成片闲置也不愿平价或降价出售;某些富有的业主又有两三套,甚至十数套房产,而大量炒房团也应运而生。

以下最能加强上述结论的是：

- A.经济学家近来十分关注炒房对房价上涨的影响作用
- B.在一些内陆地区，未发生炒房现象，房价比较平稳
- C.在一些经济发达的地区，炒房现象虽不突出，但房价仍然居高不下
- D.一些地区拟对拥有多套住房者开征土地使用费，可以有效地抑制虚假的住房需求

38.只有巧干加实干，才能创造出惊人的业绩。某公司的业务经理取得了非凡的业绩，可见该业务经理实践了巧干加实干。

下列哪个推理结构与上述推理在形式上是相同的？

A.如果一个人犯了罪，那么他就会受到刑事处罚，张某受到了刑事处罚，可见张某犯了罪。

B.这种植物只有开花，才能结出果实，今年这种植物没有开花，所以不会结出果实。

C.只有通过全国统一司法考试的人才能从事律师职业。小李从事律师职业，所以小李已通过全国统一司法考试。

D.只有在特定的土质和气候条件下，这种葡萄才能获得好收成。现在这种葡萄没有获得好收成，说明这里没有这种特定的土质和气候条件。

39.人们一般都认为，科学家的思维都是凭借严格的逻辑推理，而不是凭借形象思维。但研究表明，诺贝尔奖获得者比一般科学家更多地利用形象思维手段，因此，形象思维手段有助于取得重大的科学突破。

上述结论是建立在下列哪项假设基础之上的？

- A.有条理的、逐步的推理对于一般科学研究是必不可少的
- B.诺贝尔奖获得者有能力凭借形象思维来进行创造性思维
- C.诺贝尔奖获得者比一般科学家更为聪明和勤奋
- D.诺贝尔奖获得者取得了重大的科学突破

40.有研究表明，要成为男性至少需要拥有一条 Y 染色体。3 亿年前，男性特有的 Y 染色体在产生之际含有 1438 个基因，但现在只剩下 45 个。按照这种速度，Y 染色体将在大约 1000 万年内消失殆尽。因此，随着 Y 染色体的消亡，人类也将走向消亡。

如果以下各项为真，最不能质疑上述论证的是：

A.恒河猴 Y 染色体基因确实经历过早期高速的丧失过程,但在过去的 2500 万年内则未丢失任何一个基因

B.男性即使失去 Y 染色体也有可能继续生存下去,因为其他染色体有类似基因可以分担 Y 染色体的功能

C.人类进化过程中,可以找到单性繁殖或无性繁殖后代的方法,从而避免因基因缺失引发的繁殖风险

D.Y 染色体存在独特的回文结构,该结构具有自我修复功能,可以保持丢失基因的信息,实现基因再生

41.有人认为,语言对于个人和社会都极其重要,语言不仅能方便人际间的交流,还能产生物质资料。

以下最能反驳这一观点的是:

A.人和人之间的交流不依靠语言

B.言谈举止体现了一个人的修养

C.世界上很多夸夸其谈的人却是穷光蛋

D.世界上不少富有的人能言善道

42.时尚的一个特点是影响面广,往往不分社会地位和社会阶层,也不分男女老幼。

以下哪项如果为真,最能对上述观点提出质疑?

A.在欧洲君主制时代,追求奢侈是一种时尚。宫廷和贵族当然不用说了,乡下姑娘进了城也追求奢华的生活,贵族阿·圣克拉拉对此感到不能容忍

B.近来动画片《喜羊羊和灰太狼》热播,很多孩子都很喜欢看,有不少成年人还买了喜羊羊毛绒玩具放在沙发上或汽车里

C.17、18 世纪的法国,男人普遍喜欢戴假发,当然上层人和下层人的假发的等级和价格是不一样的

D.有人把花上千元人民币去听世界顶尖钢琴家的演奏看作一种流行时尚,几个退休老工人说起此事都觉得不可理解

43.有很多创造性的发明都是在战争中产生或得到实际应用的。因此,有人声称,战争是推动人类社会进步的必要环节。

以下各项如果为真,最能反驳上述观点的是:

A.战争会给人带来无可挽回的伤害

B.战争中的创造发明在日常生活中用处不大

C.和平年代良好的外部条件更有利于科技交流和思想整合

D.和平年代良好的科研氛围更有利于创造性发明的产生和实际应用

44.汽车拉力赛的赛程分两部分：行驶路段和特殊路段（赛段）。行驶路段指两个特殊路段之间的部分，车手只要在规定的比赛时间前到达新的特殊路段即可。特殊路段有一个限定时间，例如，A点到B点相距50公里，如果赛车最快可在30分钟到达，则赛车的限定时间必须低于30分钟，如27分钟。当车手从A点到B点用时多于27分钟时，便会有一个受罚时间。最后受罚时间最少者便是冠军。

由此可以推出：

- A.车手的成绩是由特殊路段和行驶路段两部分组成
- B.特殊路段用时少，而行驶路段用时多
- C.每个冠军都肯定有受罚时间
- D.汽车拉力赛是一项深受人们喜爱的运动

45.某国科学家日前称：他们最近首次在实验室成功地利用胚胎干细胞人工培育出O型RH阴性血液，由于O型RH阴性血液称为“万能血型”，能够与任何其他血型相匹配，这就使得人类将不必再为血源紧张而发愁。

以下如果为真，最能削弱上述结论的是：

- A.经过诱导，多功能干细胞同样可能产生血液
- B.对于很多病人来说，供血不足并非是一个致命的威胁
- C.利用胚胎干细胞人工培育O型阴性血液现在比较贵
- D.制造O型RH阴性血液需要A、B和AB型血RH阴型作为原料，这些血型同样稀缺

46.对交通事故研究表明，酒后驾车情况下，事故率随之提高，有很多新手司机怀着侥幸心理，酒后情况下驾驶汽车，毫无疑问，事故率上升是由新手驾驶车辆不熟练造成的。

下列哪一情况能够对上述观点做出最有力的反驳？

- A.酒后驾车以老司机居多
- B.近年交通事故在不断攀升
- C.新手司机的驾驶技术提高得很快
- D.酒后驾车使老司机的事故率增高

47.任何证人的未经证实的证词都不是陪审员进行判决的依据。因为在一般情况下高度怀疑任何人没有证据的诉讼请求都是明智的,不过陪审员们不应该为了保持一致而相信其共同经验:根据未经证实的所有认罪供词而宣告被告有罪。

下列哪一项支持上述观点?

- A.关于被告在审判前撤回所有供词的案例,陪审员们通常宣告无罪
- B.设置陪审团选择程序的目的就是在审判前选出那些对被告的罪行有确定观点的人
- C.当被告确实犯有该罪行或者终于相信原告有足够证据时,他有时会认
- D.对于那些被告有罪行且易被暗示的人来说,他们很难确定自己对往事的回忆,于是最终接受了对自己不利的控告

48.人的一生是短暂而变化莫测的,当科学不能解除人们极大的痛苦的时候,剥夺他们通过信仰来获得安慰的权力,就显得有些残忍。那些经不起科学重负的人可以不受约束地忽略科学的箴言。

由此可以推出:

- A.科学与信仰之间是没有冲突的,没有人百分之百的信奉科学
- B.人的生命是科学无法诠释的,我们只能通过信仰得到解脱
- C.随着科学的进步和发展,宗教信仰必将被科学理性的思想所取代
- D.在科学无能为力的领域,信仰扮演起救世主的角色

49.传统观点认为,每天服用维生素 C 补充剂可有效预防感冒。但是,一项最新的研究发现,这种方法对于大多数人而言并没有明显效果。

以下哪项如果为真,最能支持上述结论?

- A.长期坚持运动的人比服用维生素 C 补充剂的人一年中感冒的次数要少,并且治愈得快
- B.一般来说,大部分人平均一年感冒 2~4 次,服用维生素 C 补充剂者与不服用者感冒的几率相当
- C.用维生素 C 补充剂能够使成年人患感冒的持续时间缩短 8%,使儿童患感冒的持续时间缩短 13.6%
- D.经常暴露在寒冷天气中的人,如果每天服用维生素 C 补充剂,就能将患感冒的几率减少四分之一

50.目前一些心脏病患者还无法彻底摆脱病痛的折磨，即便是进行心脏移植，身体也可能出现排斥反应。新研究发现，利用人体皮肤细胞可造出心脏细胞。因此研究者认为这一研究将为心脏病患者带来福音。

以下哪项如果为真，不能削弱上述结论？

A.实验发现，如果皮肤细胞和其他细胞一起植入心肌中，则容易出现心脏功能减弱的症状

B.被植入的皮肤细胞必须事先进行仔细筛选，否则细胞可能会在病人体内发展成肿瘤，甚至引起并发症

C.动物实验表明，相比其他细胞，皮肤细胞植入心肌后没有出现排斥反应，引起的心律不齐现象有所降低

D.实验中，研究者利用患者的皮肤细胞培养出了心脏细胞，但这一过程需要耗费很长时间才能造出足够多的新细胞

51.一家汽车生产商推出标准型、豪华型两款车型，豪华型的安全性能比标准型好很多，两款车型同时上市后，豪华型的销量一直没有超过标准型。由此，该生产商认为安全性能并非顾客考虑的首要因素。

如果以下各项为真，最能削弱该生产商观点的是：

A.大部分顾客对标准型汽车的信赖度更高

B.豪华型汽车的价格与标准型相差不是很多

C.大部分顾客认为标准型汽车的安全性能足以满足日常生活需要

D.购买标准型汽车的大多是集团客户，所以标准型汽车销售量一直很高

52.科学家发现，在过去的 200 年内，地球的磁场急剧地衰减。科学家预言，照这种速度发展下去，在未来的 1000 年内，地球磁场可能会完全消失，地球生灵将面临前所未有的宇宙射线大灾难。

由此可以推知：

A.目前地球磁场的衰减速度比 200 年前更快

B.人类无法改变地球磁场急剧衰减的状况

C.今后来自外太空的辐射强度将会越来越大

D.地球磁场可阻挡来自外太空的辐射

53.科学研究发现,植物对触摸作出反应是因为它们认为自己正在遭受风的打击,因此“觉得”必须提高强度来防止风的破坏。每天只要对植物的茎进行几秒钟的抚摸和敲击就可使植物枝干的密度加强。在植物被触摸不到30分钟后,植物的基因便生成使其体内钙含量提高的蛋白质。钙的增加相应地又导致一种名为钙调蛋白的物质的增多,该物质可以使植物更为坚固。

如果下列各项为真,能够质疑上述结论的是:

- A.菜农们在将温室中的幼苗移种至露天之前,一般会对秧苗进行敲打
- B.在移种甜菜之前,要去除掉甜菜中的水分并用扫帚拍打它们
- C.在农田边缘经常受风的作物倒伏概率比在农田中央吹不到风的作物要高80%
- D.如果碰了含羞草的叶子,它就会在几秒钟之内缩作一团,出现该现象的原因是钙迅速流进了它的细胞

54.某市风景优美,气候宜人。该市晨曦路两侧开设的几乎全都是老年疗养院,来自全国各地的很多老年人来此旅游、疗养。晨曦路只有很少几座居民住宅,但是晨曦路附近却有很多专门经营儿童用品的商店,而且生意还相当火爆。

下列哪一项最能解释这一现象?

- A.晨曦路附近的专门经营儿童用品的商店所出售的商品物美价廉
- B.来此地疗养的老人都是由子女带着孩子陪同的,他们需为孩子购买所需物品
- C.居住在晨曦路的居民虽然不多,但孩子们之间经常互相赠送礼物
- D.晨曦路附近的儿童用品商店闹中取静,购物环境良好

55.已有研究表明,大脑的功能区并不是一成不变的。研究人员利用功能性磁共振成像技术在先天盲人执行语句理解任务时对其大脑视觉区进行扫描。如果大脑视觉皮层区拥有语言处理能力,那么在接触语言信息时,将会表现出与经典大脑语言区的相同敏感性。结果发现,大脑视觉区对句子结构和词义表现敏感。研究人员认为,先天盲人的视觉皮层可以处理语言。

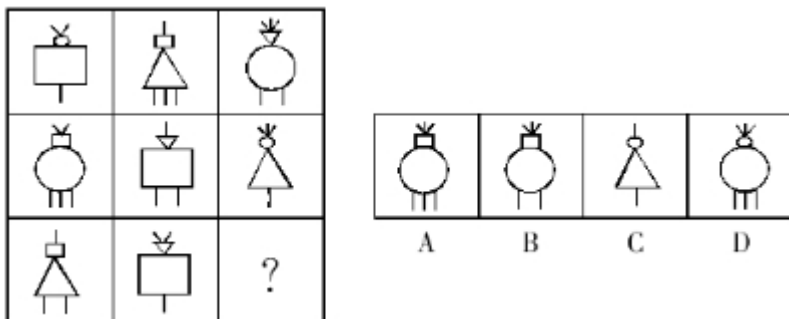
以下哪项如果为真,最能解释上述现象?

- A.研究显示,先天盲人在执行阅读盲文的任务时,左侧视觉皮层有活跃现象
- B.语言中枢发挥正常功能的条件下,先天盲人的视觉皮层由于没有获得视觉功能,会形成其他功能

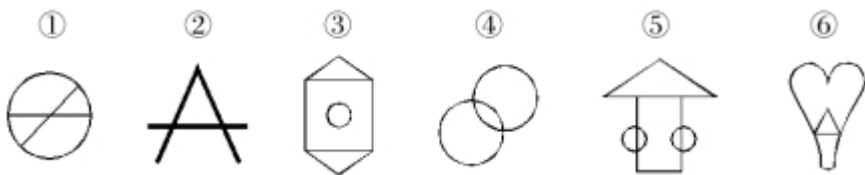
C.如果在人的生命早期实施手术,比如将其神经与大脑视觉皮层连接,视觉皮层将处理声音信息

D.人类大脑视觉皮层的不同部位在发育过程中获得了不同的功能,左视觉区的一部分获得了语言处理功能

56.从所给四个选项中,选择最合适的一个填入问号处,使之呈现一定的规律性:



57.把下面的六个图形分为两类,使每一类图形都有各自的共同特征或规律,分类正确的一项是:



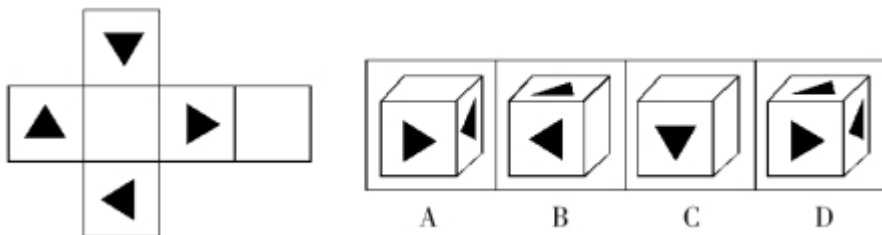
A.①②④, ③⑤⑥

B.①③④, ②⑤⑥

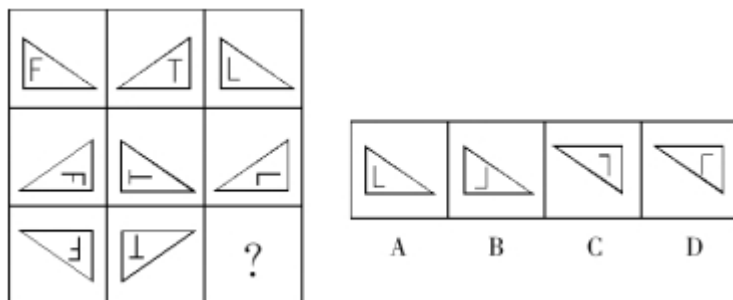
C.①③⑤, ②④⑥

D.①④⑤, ②③⑥

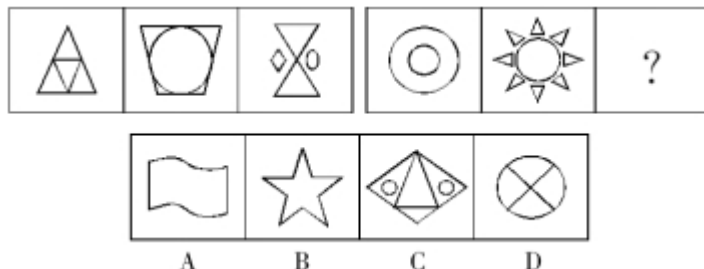
58.左边给定的是纸盒外表面的展开图,右边哪一项能由它折叠而成?



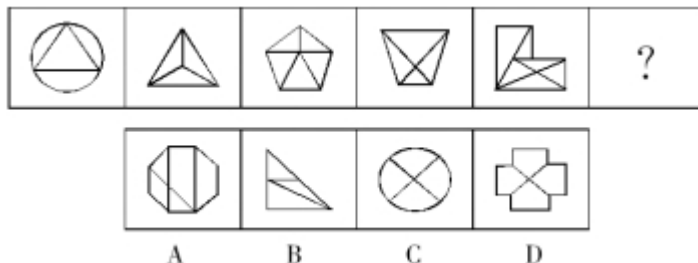
59.从所给四个选项中，选择最合适的一个填入问号处，使之呈现一定的规律性：



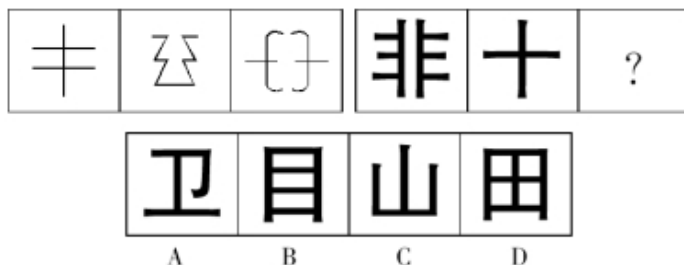
60.从所给四个选项中，选择最合适的一个填入问号处，使之呈现一定的规律性：



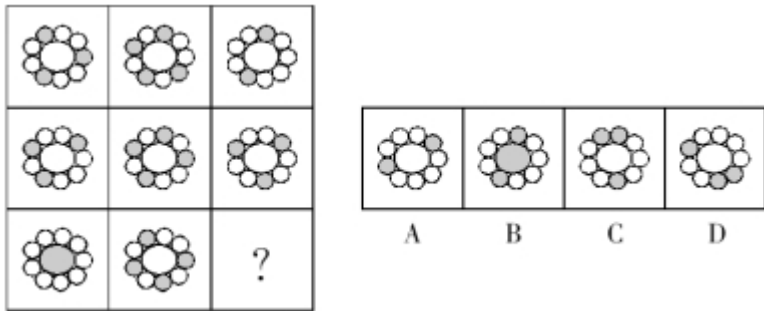
61.从所给四个选项中，选择最合适的一个填入问号处，使之呈现一定的规律性：



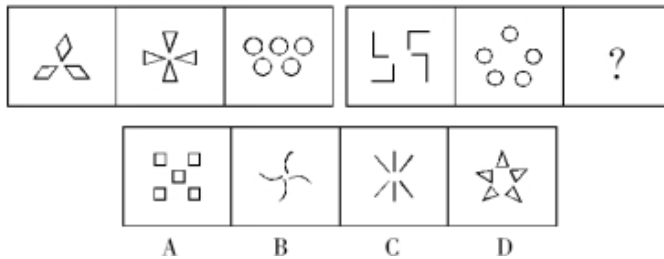
62.从所给四个选项中，选择最合适的一个填入问号处，使之呈现一定的规律性：



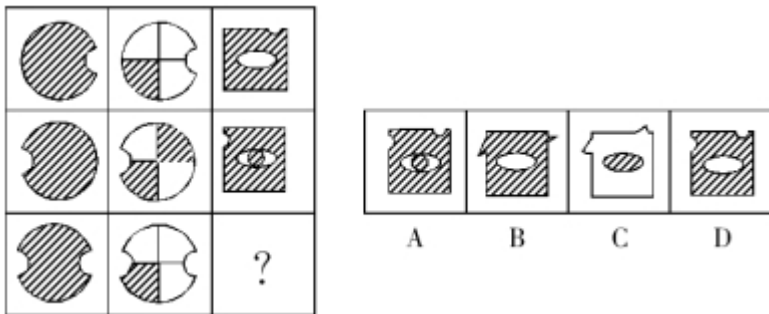
63.从所给四个选项中，选择最合适的一个填入问号处，使之呈现一定的规律性：



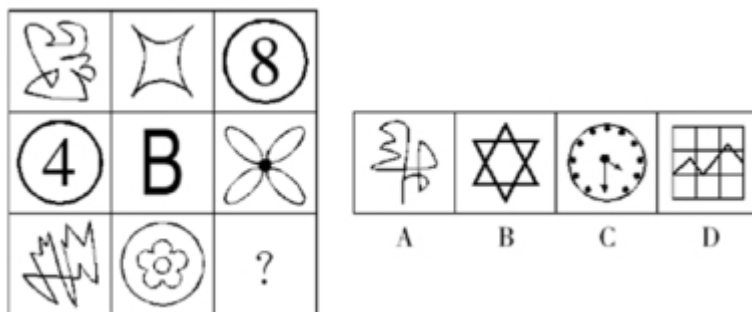
64.从所给四个选项中，选择最合适的一个填入问号处，使之呈现一定的规律性：



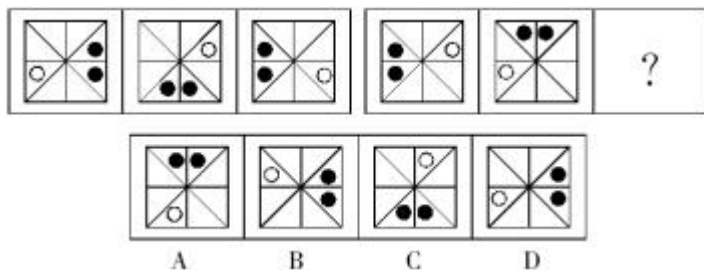
65.从所给四个选项中，选择最合适的一个填入问号处，使之呈现一定的规律性：



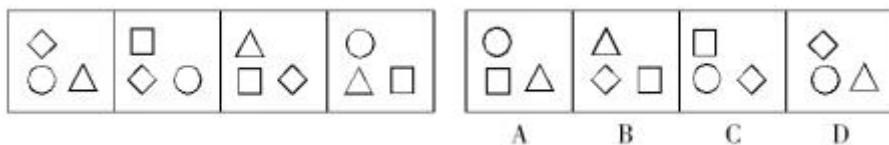
66.从所给四个选项中，选择最合适的一个填入问号处，使之呈现一定的规律性：



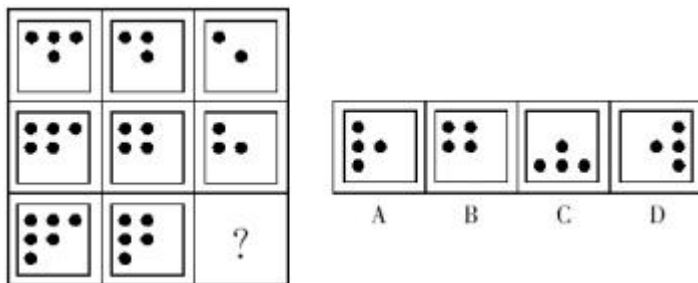
67.从所给四个选项中，选择最合适的一个填入问号处，使之呈现一定的规律性：



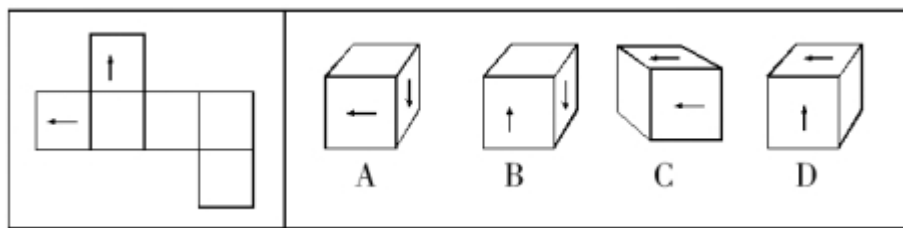
68.从所给四个选项中，选择最合适的一个，使之呈现一定的规律性：



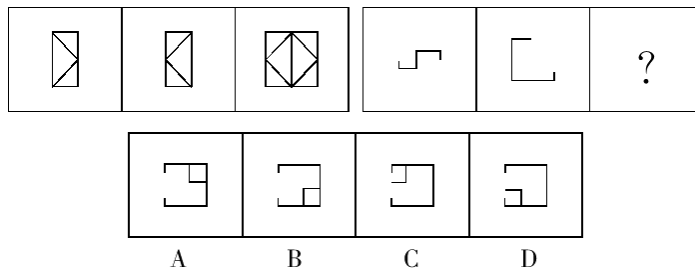
69.从所给四个选项中，选择最合适的一个填入问号处，使之呈现一定的规律性：



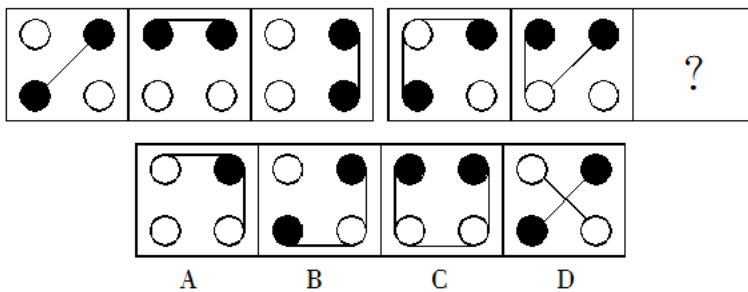
70.左边给定的是纸盒的外表面，下面哪一项能由它折叠而成？



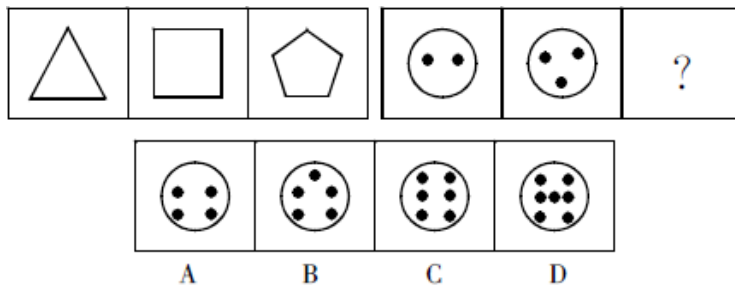
71.从所给四个选项中，选择最合适的一个填入问号处，使之呈现一定的规律性：



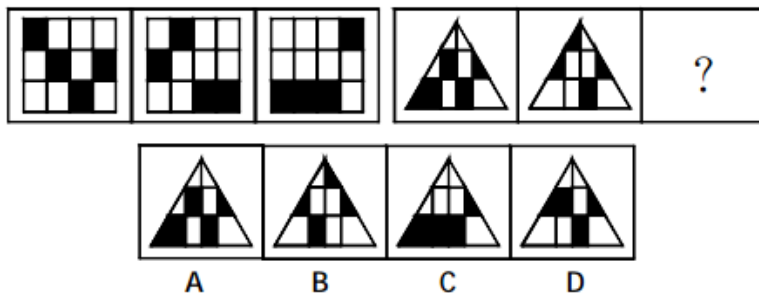
72.从所给的四个选项中，选择最合适的一个填入问号处，使之呈现一定的规律性：



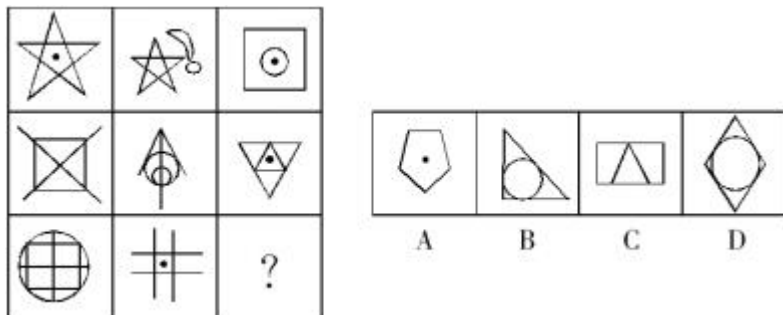
73.从所给的四个选项中，选择最合适的一个填入问号处，使之呈现一定的规律性：



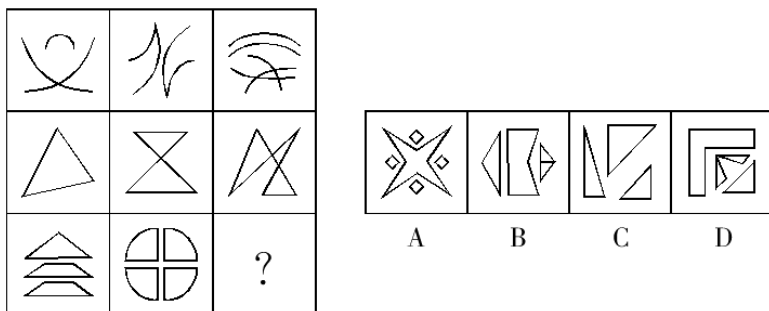
74.从所给的四个选项中，选择最合适的一个填入问号处，使之呈现一定的规律性：



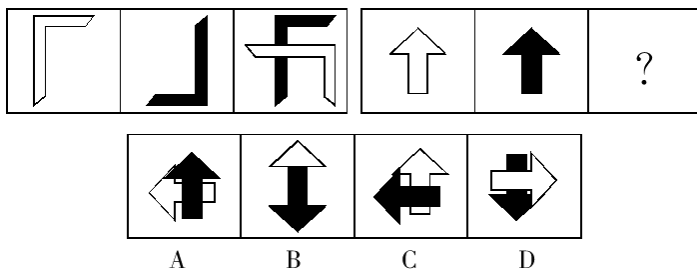
75.从所给四个选项中，选择最合适的一个填入问号处，使之呈现一定的规律性：



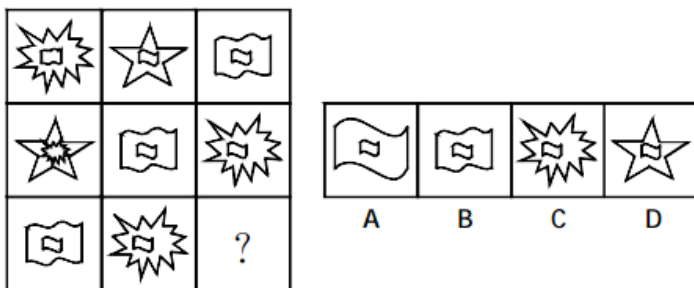
76.从所给的四个选项中，选择最合适的一个填入问号处，使之呈现一定的规律性：



77.从所给四个选项中，选择最合适的一个填入问号处，使之呈现一定的规律性：



78.从所给四个选项中，选择最合适的一个填入问号处，使之呈现一定的规律性：

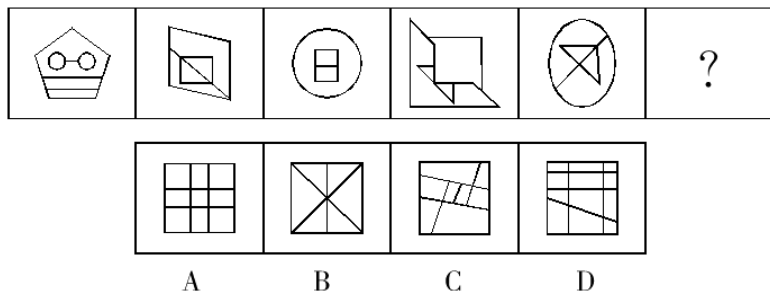


79.把下面的六个图形分为两类,使每一类图形都有各自的共同特征或规律,分类正确的一项是:



- A.①⑤⑥, ②③④
B.①③⑥, ②④⑤
C.①④⑤, ②③⑥
D.①②④, ③⑤⑥

80.从所给的四个选项中,选择最合适的一个填入问号处,使之呈现一定的规律性:



81.税收激励是指政府在税制设计和税收征管过程中,运用多种手段,通过税负的调整,诱导微观经济主体的行为选择,鼓励纳税人发生或不发生、参与或不参与某种经济行为,以实现政府社会经济协调发展的战略目标。

根据以上定义,下列不属于税收激励的是:

- A.在产品研发阶段,设备费很高,此时对其加速折旧进行税收优惠
B.对遭受风、火、水、震等严重自然灾害的纳税人给予税收优惠
C.在产品中间阶段,对资金的需求依赖性强,此时对投资抵免进行税收优惠
D.在产品试验阶段企业的风险仍然很大,此时对亏损结转进行税收优惠

82.人的视觉完形功能,是指当人们在用眼睛观察世界时,总是倾向于用自己所熟悉的经验,把本无联系的散乱事物加工成有机的整体后进行感知。

根据以上定义,下列不属于人的视觉完形功能的是:

- A.1872年美国迈布里奇用连动摄影机拍摄到,马在奔跑时至少一蹄着地,不会有古代画家所画的马总是四蹄腾空的样子
B.北斗星由七颗星星组成,人们总是亲切地称之为“勺星”

C.鲁迅小时候喜欢在画本的不同页上画动作相差很小的一组人物,然后迅速从前往后翻,这时画面本来静止的人们都好像动了起来

D.在一个很黑的屋子里燃着一炷香,一个人在凝视香头几分钟后,发觉这个香头竟然自己动了起来

83.工业产权指法律规定对应用于生产和流通中创造发明和显著标记等智力成果在一定期限和地区内享有占有权。

下列属于工业产权的是:

- A.某国营企业车间、厂房等不动产的所有权
- B.某电器生产企业对经多年打拼创下的品牌享有的权利
- C.某化工厂的高新技术研究所的产权
- D.某企业近期购买的某国外先进流水线生产设备的所有权

84.模仿指在没有外界控制的条件下,个体受到他人行为的刺激,自觉或不自觉地在自己的行为与他人相仿。

下列哪一行为不属于模仿?

- A.她觉得别人穿这种衣服很漂亮,于是自己也去买了穿
- B.小孩看到行人将地上的易拉罐一脚踢飞,于是把自己手中的塑料瓶也扔在地上踢开
- C.很多专家不约而同地预测到同一个彩票号码,于是小刘立刻去买了五十注该号码
- D.他本想插队,但看见别人都在按秩序排队购票,就自觉地走到队伍的最后

85.能源中的一大类是以太阳的光和热为基础的,其能量直接或间接来源于太阳能。根据上面的定义,以下说法错误的是:

A.太阳对地球降雨等气候变化有重大影响。由于降雨形成河湖,所以,水力发电是以太阳能为基础的一类能源

B.煤炭是植物经地壳运动,在长期高温高压下形成的。而植物的形成依赖于太阳光的光合作用。所以,煤炭是以太阳能为基础的一类能源

C.潮汐形成的原因,主要是月球对地球的引力作用。尽管地球和月球运行受太阳引力的制约,但潮汐发电的能量的主要来源不属于太阳能

D.海水中储量丰富的元素氘是核聚变的重要原料。由于海洋中的水来源于地球降水,这和太阳活动有重要关系。所以,从根本上说,核聚变能是以太阳能为基础的一类能源

86.附着力法则：流行点的引爆有赖于流行信息的有效传播，流行信息的附着力则在很大程度上决定了信息传播的有效性。信息附着力取决于信息与受众之间关联程度的高低和信息实用性的大小，关联度高、实用性大的流行信息具有更强的附着力，成为流行的引爆点。

以下做法不符合附着力法则的是：

- A.《手机》中所有角色在不同场合中都使用摩托罗拉手机
- B.《瑞丽》展示新一季的流行服装，在展示衣服旁边标上品牌名称和价格，并辅以如何搭配衣服等内容
- C.某公司派人在街上派发一种新口味的饼干
- D.在电梯里面安装的框架广告，贴出一些最新产品的图片

87.假性道德是指一个本来非常可鄙的行为，到了一个很多人都从事这一可鄙行为的地方，却具有了道德的内涵，它是建立在对他人恶意的揣测之上的，是以公平的名义与某种可鄙行为同流合污。

根据以上定义，下列各项中不属于假性道德的是：

- A.甲同学说：“大家考试都作弊，为什么我不可以作弊？”
- B.乙官员说：“大家都贪污，我贪点算什么？”
- C.丙司机说：“大家都违规，我不违规不就亏了吗？”
- D.丁说：“大家都跳下水救人了，我只能硬着头皮跳下去了。”

88.信息共享是指不同人员、不同部门、不同层次之间，利用网络平台，对相关信息进行系统连接，使信息资源得到充分的开发利用。

下列不属于信息共享的是：

- A.大学毕业生李红在 QQ 上建了一个群，同班同学都加入了
- B.某县所有党政机关都建立了 OA 系统，实现了无纸化办公
- C.某研究所将全部项目研究资料刻录成光盘，职工人手一套
- D.校团委在校园网 BBS 论坛上成功组织了校长与新生的对话

89.行政领导是指在一定的行政环境下，行政领导者为实现一定的行政目标对被领导者所进行的统帅、率领和引导的行为过程。

根据以上定义，下列不属于行政领导的是：

- A.行政领导者以个人名义组织了一个宴会，邀请下级来参加
- B.行政领导者提出一个施政纲领，通过号召动员大会，使下级朝目标积极前进
- C.行政领导者建立一定的组织制度和机构体系，选拔和使用行政人员
- D.行政领导者提出改善市区环境的意见，通过宣传讲解，让下级接受

90.人格化指的是对动物、植物以及非生物赋予人的特征，使他们具有人的思想感情和行为。

根据上述定义，以下诗句中没有使用人格化的是：

- A.娉娉袅袅十三余，豆蔻梢头二月初
- B.谁言寸草心，报得三春晖
- C.请君试问东流水，别意与之谁短长
- D.云想衣裳花想容，春风拂槛露华浓

91.海关是对出入国境的一切商品和物品进行监督、检查并照章征收关税的国家机关。

根据上述定义，海关工作人员在执勤时可以：

- A.查验他人行李
- B.拍摄他人肖像
- C.检查他人身体
- D.扣留他人一天

92.无因管理是指没有法律上的义务而管理他人事务的行为。

下列行为属于无因管理的是：

- A.萧红上大学走后，其父母为其保管所收集的邮票
- B.韩建外出旅游，邻居王大妈帮她修缮房屋
- C.王新带侄子去游泳，侄子落水呼救，王新将他救上来
- D.某居民楼下水道被堵，物业管理处派人前去疏通

93.权利质押指债务人或者第三人将其权利如债权、股权、著作权等作为债权的担保。

下列属于权利质押的一项是：

- A.王某欠张某 10 万元，将自己的汽车抵押给张某
- B.张某由于欠债，将自己的专利权作为清偿债务的担保
- C.老王将自己在公司的股份转让给儿子
- D.李某欠人 2 万元，将一张 2 万元的支票当作还款交给债权人

94.夫妻个人财产是指依法或依当事人约定，夫妻婚后各自保留的一定范围内的个人所有财产。一般包括法定个人财产与约定个人财产，具体而言，包括婚前财产与婚后财产。

下列财产中哪一项属于夫妻个人财产？

- A.婚后一方接受亲友馈赠的财物
- B.一方在婚前接受继承而于婚后实际取得的财产
- C.夫妻分居两地分别管理、使用的婚后所得财产
- D.婚后一方所得的奖金

95.证实性偏见是指过于关注支持自己决策的信息。当我们在主观上认为某种观点正确的时候，往往倾向于寻找那些能够支持这一观点的信息，而忽略掉那些可能推翻这一观点的信息。

根据上述定义，下列属于证实性偏见的是：

A.自从小王产生辞职的念头以后，总觉得经理处处刁难他，甚至看不起他，就连经理和他开个玩笑，都认为是对他的嘲笑

B.小林今年未考上重点大学，他明知是因为自己实力不够，但他总是对同学说：“要不是考试前患了感冒，我肯定考得更好。”

C.小张总觉得室友最近的表现很反常，好像出什么事了，第二天公安局的人找小张询问情况，证实了他的猜测，室友被牵扯进了一起盗窃案

D.小张前天夜里梦见自己的钱包被偷，昨天钱包真的被偷了；昨晚他又梦见自己被车撞，结果今天一整天没敢出门

96.钢琴：弹奏：乐谱

- A.考试：准备：复习
- B.话筒：演唱：歌词
- C.菜肴：烹制：菜谱
- D.答案：查找：目录

97.过滤：纯净

- A.绿化：植被
- B.努力：成功
- C.痛苦：悲伤
- D.波浪：潮汐

98.威尼斯商人：莎士比亚

- A.儒林外史：吴敬梓
- B.长生殿：孔尚任
- C.桃花扇：王实甫
- D.后汉书：司马迁

99.电：电灯

A.纸：纸张

C.河：河流

100.鸟巢：北京：体育馆

A.金字塔：开罗：陵墓

C.白宫：华盛顿：皇宫

101.教育：孩子

A.种植：谷物

C.霸占：领地

102.自行车 对于 () 相当于 () 对于 卡车

A.单车，轿车

C.飞机，火箭

103.社会：和谐

A.关系：冷淡

C.反感：同情

104.烟花：夜空

A.铅笔：橡皮

C.胶卷：相片

105.() 对于 过失 相当于 谦虚 对于 ()

A.功劳，傲慢

C.失败，愧疚

106.钢笔：笔筒

A.墙壁：灯具

C.衣橱：衣柜

107.李白：杜甫：王勃

A.崇祯：康熙：蒋介石

C.袁隆平：陈景润：费孝通

B.风：风筝

D.石：石块

B.夫子庙：南京：寺庙

D.迪士尼：香港：玩具

B.扑灭：炉火

D.治疗：医生

B.轿车，马车

D.马路，桥梁

B.剥削：反抗

D.银行：贷款

B.财富：银行

D.火车：轨道

B.错误，内向

D.成就，虚心

B.壁挂：墙壁

D.茶杯：衣橱

B.胡适：老舍：朱德

D.邓稼先：朱光亚：钱三强

108.狗：尾巴

A.山：山脚

C.蓝天：白云

109.鱼：鲤鱼：鲢鱼

A.营养：青菜：萝卜

C.座机：手机：小灵通

110.木材：纸张：图书

A.高粱：小麦：汽车

C.小麦：面粉：面包

B.木头：窗户

D.鞋子：脚

B.植物：荔枝：柑橘

D.木匠：电工：工程师

B.钢铁：桥梁：铁路

D.水稻：大米：温饱

资料分析

一、根据以下材料，回答 1~5 题。

表 限额以上连锁餐饮业情况（按行业分，2005-2006 年）

行业	门店数		营业面积		从业人数		餐位数		商品购进总额	
	{个}		{平方米}		{人}		{个}		{万元}	
	2006 年	2005 年	2006 年	2005 年	2006 年	2005 年	2006 年	2005 年	2006 年	2005 年
合计	11350	9748	5882450	4780972	557080	501429	2747589	2458028	2011546	1714962
正餐服务	5066	4244	4265919	3381582	329241	277924	2126021	1916269	1123905	949589
快餐服务	4843	4213	1407139	1236409	205729	205498	557091	491958	843415	735412
饮料及冷饮服务	452	337	143922	102960	15387	10824	43248	30868	27982	18907
其他餐饮服务	999	954	65470	60021	6723	6183	21229	18933	16244	11054

- 2006 年，营业面积在总营业面积中所占比重最大的行业是（ ）
 - 快餐服务
 - 饮料及冷饮服务
 - 其他餐饮服务
 - 正餐服务
- 2006 年其他餐饮服务的从业人数比 2005 年增加了（ ）人。
 - 1130
 - 763
 - 540
 - 45
- 2006 年商品购进总额比 2005 年增加数额最多的行业是（ ）
 - 正餐服务
 - 快餐服务
 - 饮料及冷饮服务
 - 其他餐饮服务
- 从 2005 年到 2006 年，门店数增幅最大的是（ ）
 - 正餐服务
 - 快餐服务
 - 饮料及冷饮服务
 - 其他餐饮服务
- 以下说法中不正确的是（ ）
 - 2006 年限额以上连锁餐饮业有了较快的发展
 - 2006 年各行业的营业面积和从业人数都比 2005 年有了显著增长

- C.2006 年各行业的餐位数和商品购进总额都比 2005 年有了显著增长
- D.2006 年各行业的门店数都比 2005 年有所增长

二、根据以下材料，回答 6~10 题。

2011 年全国海洋生产总值 45570 亿元，比上年增长 10.4%，占国内生产总值的 9.7%。其中，海洋产业增加值 26508 亿元，海洋相关产业增加值 19062 亿元。海洋第一产业增加值 2327 亿元，第二产业增加值 21835 亿元，第三产业增加值 21408 亿元，海洋第一、第二、第三产业增加值占海洋生产总值的比重分别为 5.1%、47.9%和 47.0%。全国涉海就业人员 3420 万人，比上年增加 70 万人。

表 2011 年海洋生产总值情况表

	总量(亿元)	增速(%)
海洋生产总值	45570	10.4
海洋产业	26508	9.7
主要海洋产业	18760	9.3
海洋渔业	3287	3.7
海洋油气业	1730	6.7
海洋矿业	53	2.1
海洋盐业	93	0.8
海洋化工业	691	2.5
海洋生物医药业	99	15.7
海洋电力业	49	25.0
海水利用业	10	10.2
海洋船舶工业	1437	17.8
海洋工程建筑业	1096	14.9
海洋交通运输业	3957	7.1
滨海旅游业	6258	12.5
海洋科研教育管理服务业	7748	10.6

海洋相关产业	19062	—
--------	-------	---

2011年，环渤海地区海洋生产总值16442亿元，占全国海洋生产总值的比重为36.1%，比上年提高了1.1个百分点。长江三角洲地区海洋生产总值13721亿元，占全国海洋生产总值的比重为30.1%，比上年回落了1.9个百分点。珠江三角洲地区海洋生产总值9807亿元，占全国海洋生产总值的比重为21.5%，比上年提高了0.6个百分点。

6. 2010年，全国海洋生产总值为：

- A.40628亿元
B.41277亿元
C.41895亿元
D.42476亿元

7. 2011年，全国涉海就业人员比上年增长：

- A.1.3% B.1.7% C.2.1% D.2.5%

8. 主要海洋产业中，2011年增加值同比增长量最多的产业是：

- A.海洋渔业 B.海洋交通运输业
C.滨海旅游业 D.海洋科研教育管理服务业

9. 2010年，环渤海地区海洋生产总值为：

- A.14447亿元 B.14478亿元
C.14516亿元 D.14563亿元

10. 根据资料，下列说法中正确的一项是：

- A. 2011年，我国国内生产总值大于47万亿元
B. 2011年，海洋第三产业增加值约是第一产业的9.4倍
C. 主要海洋产业中，2011年增加值同比增长量最低的产业是海洋盐业
D. 2011年，环渤海地区与珠江三角洲地区海洋生产总值之比为1.5 : 1

三、根据以下材料，回答11~15题。

2011年前十一个月，某省高新技术产业完成总产值3763.00亿元，实现增加值896.31亿元。增加值同比增长30.74%，比规模以上工业增加值高11.64个百分点，占规模以上工业增加值的比重达到25.32%。高新技术产业各领域的增加值如下图所示：




图 高新技术产业各领域增加值饼形图 (单位: 亿元)

11. 2011 年前十一个月, 该省规模以上工业增加值同比增长约为多少?
- A. 11.64% B. 19.10% C. 30.74% D. 42.38%
12. 2010 年前十一个月, 该省规模以上工业增加值约为多少亿元?
- A. 2972 B. 3540 C. 3865 D. 4373
13. 2011 年前十一个月, 光机电一体化领域实现增加值与生物医药和医疗器械领域、新材料领域、电子信息领域增加值总和的比约为:
- A. 3 : 5 B. 3 : 4 C. 5 : 6 D. 9 : 10
14. 若该省高新技术产业增加值保持同样的增长速度, 则 2012 年前十一个月高新技术产业增加值比 2010 年同期约增加多少亿元?
- A. 210.7 B. 486.3 C. 275.5 D. 685.6
15. 关于该省高新技术产业各领域增加值情况, 下列说法错误的是:
- A. 生物医药和医疗器械领域增加值超过全省高新技术产业增加值的 $\frac{1}{6}$
- B. 光机电一体化领域与新材料领域增加值之和大约是全省高新技术产业增加值的 $\frac{1}{2}$
- C. 航空航天领域实现的增加值可能不到全省高新技术产业增加值的 $\frac{1}{3}$
- D. 生物医药和医疗器械领域与电子信息领域增加值之和不到全省高新技术产业增加值的 $\frac{1}{4}$

四、根据以下材料，回答 16~20 题。

表 2007-2008 年江苏省各省辖市单位 GDP 能耗、电耗情况

地区	2007				2008			
	单位 GDP 能耗		单位 GDP 电耗		单位 GDP 能耗		单位 GDP 电耗	
	指标值 (吨标准 煤/万元)	上升或 下降 (±%)	指标值 (千瓦时/ 万元)	上升或 下降 (±%)	指标值 (吨标准 煤/万元)	上升或 下降 (±%)	指标值 (千瓦时/ 万元)	上升或 下降 (±%)
南京市	1.263	-4.42	982.03	-4.41	1.178	-5.98	851.77	-8.61
无锡市	0.848	-4.28	1237.23	-0.22	0.799	-5.78	1164.14	-5.91
徐州市	1.304	-4.67	996.42	-0.70	1.227	-5.90	941.97	-5.46
常州市	0.992	-4.25	1328.03	-6.21	0.934	-5.85	1216.35	-8.41
苏州市	0.963	-4.28	1497.11	1.40	0.906	-5.92	1397.99	-6.62
南通市	0.774	-4.21	956.76	-0.43	0.730	-5.68	896.45	-6.03
连云港市	0.881	-4.40	892.79	-6.85	0.833	-5.45	866.57	-2.94
淮安市	1.033	-3.90	1044.77	3.00	0.979	-5.23	1063.58	1.80
盐城市	0.763	-4.40	799.49	2.90	0.724	-5.11	787.43	-1.51
扬州市	0.794	-4.01	886.88	-0.06	0.739	-6.93	824.94	-6.93
镇江市	0.946	-4.29	1093.59	-0.68	0.894	-5.50	1054.28	-3.59
泰州市	1.160	-5.50	1221.86	2.04	1.054	-9.14	1168.83	-4.34
宿迁市	0.800	-4.12	778.43	4.98	0.761	-4.88	791.05	1.62
江苏省	0.853	-4.28	1221.44	0.02	0.808	-5.85	1149.44	-5.89

16. 2007-2008 年单位 GDP 能耗最大的两市是 ()。

- A.南通市、扬州市
- B.盐城市、南通市
- C.徐州市、南京市
- D.宿迁市、扬州市

17.按从大到小顺序，2008 年单位 GDP 电耗下降最多的省辖市，其 2007 年单位 GDP 电耗在江苏 13 个省辖市中排 ()

- A.第十一位
- B.第八位
- C.第七位
- D.第五位

18. 2008 年南京市单位 GDP 能耗比 2006 年下降 ()

- A.10.4%
- B.10.15%
- C.5.25%
- D.5.07%

19. 2008 年单位 GDP 能耗下降速度快于全省平均水平的省辖市有 ()

- A.5 个
- B.6 个
- C.7 个
- D.8 个

20.下列关于 2007-2008 年江苏省各省辖市单位 GDP 能耗、电耗的分析，正确的是 ()

- A.单位 GDP 能耗下降最多的省辖市其单位 GDP 电耗下降也最多

- B.单位 GDP 电耗均有不同程度的下降
- C.单位 GDP 能耗均有不同程度的下降
- D.单位 GDP 能耗与电耗同方向变化

五、根据以下材料，回答 21~25 题。

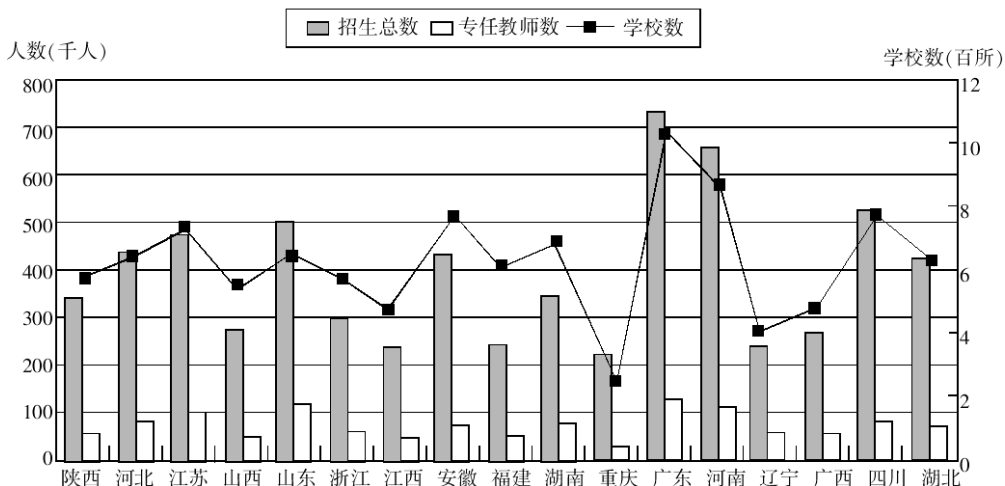


图 2009 年我国部分省市普通高中情况

21. 下列关于 2009 年各省市普通高中招生数与专任教师数之比的描述，正确的是：
- A. 辽宁多于广西
 - B. 湖南多于安徽
 - C. 浙江多于陕西
 - D. 河南多于山东
22. 2009 年普通高中专任老师数最多的三个地区为：
- A. 广东、河南和安徽
 - B. 广东、河南和四川
 - C. 广东、四川和山东
 - D. 广东、山东和河南
23. 2009 年浙江普通高中招生人数约是山东的：
- A. 40%
 - B. 50%
 - C. 60%
 - D. 90%
24. 下列关于 2009 年各省市校均招生人数的描述，正确的是：
- A. 广东多于山西
 - B. 辽宁多于重庆
 - C. 江苏多于河北
 - D. 江西多于四川

25. 下列关于 2009 年图中各省市普通高中情况的描述, 与资料相符的是:

- A. 普通高中数量超过 800 所的省份有 4 个
- B. 辽宁的校均专任教师数少于广西
- C. 招生总数和学校数最多的省份是同一个
- D. 普通高中招生总数超过 50 万人的都是沿海省份

六、根据以下材料, 回答 26~30 题。

截至 2011 年 4 月 21 日 22 时, 沪深两市已有 534 家上市公司公布第一季度财报。这 534 家公司实现营业总收入 4572.78 亿元, 同比增长 30.74%; 实现净利润 336.7 亿元, 同比增长 30.52%。不过, 一季度销售收入和净利润环比则有所下降, 其中营业总收入环比下降 12%, 净利润环比下降 25%, 这 534 家公司 2011 年一季度存货 6167.68 亿元, 较上年年末增长 10%。

已公布一季报的创业板公司有 71 家, 实现营业收入 80.08 亿元, 同比增长 73.60%; 实现净利润 13.16 亿元, 同比增长 80%。已公布一季报的中小企业板公司有 202 家, 实现营业收入 789.97 亿元, 同比增长 36%; 实现净利润 73.25 亿元, 同比增长 25%。

25 家已公布一季报的房地产公司一季度实现营业收入 193.68 亿元, 同比增长 9%; 实现净利润 29.97 亿元, 同比增长 31%; 存货 2892.18 亿元, 同比增长 10%。

已公布一季报的 6 家钢铁板块公司一季度存货为 322 亿元, 实现营业收入 493.39 亿元, 同比略有降低, 环比下降 20%; 实现净利润 12.65 亿元, 同比增长 62%, 环比表现更好, 这 6 家公司 2010 年四季度净亏损 3.77 亿元。

建筑机械类公司持续了之前的景气度, 有 4 家公司公布一季报, 实现营业总收入 15.90 亿元, 同比增长 39%; 实现净利润 1.18 亿元, 同比增长 47.5%。

26. 已公布一季报的 534 家公司, 平均每家在 2010 年第四季度实现营业收入约多少亿元?

- A. 0.63
- B. 7.54
- C. 8.56
- D. 9.73

27. 这 534 家公司中, 平均每家中小板公司在 2011 年第一季度的净利润约是创业板公司的:

- A. 2 倍
- B. 3 倍
- C. 4 倍
- D. 5 倍

28.已公布 2011 年一季报的房地产公司中,平均每家的存货比上年同期增长了约多少亿元?

- A.5 B.11 C.51 D.105

29.已经公布一季报的钢铁板块公司 2010 年第四季度的净利率(净利润比营业收入)约为:

- A.2.57% B.1.80% C.-0.96% D.-0.61%

30.关于这 534 家公司在 2011 年第一季度营业状况的描述与资料相符的是:

- A.所有公司净利润之和比 2010 年第四季度有所上升
 B.超过 $\frac{1}{4}$ 的净利润来自中小企业板公司
 C.平均每家钢铁板块公司的存货高于 534 家公司的平均水平
 D.平均每家建筑机械类公司的营业收入高于 534 家公司的平均水平

七、根据以下材料,回答 31~35 题。

表 1 2010 年三大经济圈产业结构及增长速度 (%)

	长三角		珠三角		京津冀		全国	
	占地区生产总值比重	增长速度	占地区生产总值比重	增长速度	占地区生产总值比重	增长速度	占国内生产总值比重	增长速度
第一产业产值	4.7	3.6	5.0	4.4	6.6	3.3	10.2	4.3
第二产业产值	50.6	13.4	50.4	14.5	43.8	15.2	46.8	12.2
第三产业产值	44.7	10.7	44.6	10.1	49.6	11.4	43.0	9.5

表 2 2010 年三大经济圈主要经济指标 (%)

指标	长三角		珠三角		京津冀		全国
	占全国比重	增长速度	占全国比重	增长速度	占全国比重	增长速度	平均增长速度
地区生产总值	21.4	11.8	9.4	12.0	10.8	12.7	10.3
固定资产投资	14.7	17.7	4.1	18.2	9.7	22.6	23.8
社会消费品零售额	18.9	18.6	8.0	16.8	10.1	18.2	18.4
地方财政收入	23.5	21.1	7.7	24.4	11.7	21.7	25.7
实际利用外资	47.9	10.6	17.4	4.8	19.9	12.8	17.4
进出口贸易额	36.6	35.3	25.3	28.4	14.3	38.3	34.7

31.三大经济圈中,2010年三次产业增长速度均超过全国平均水平的有几个?

- A.0 B.1 C.2 D.3

32.2010年,珠三角地区第二产业产值占国内生产总值的比重为:

- A.3.72% B.5.76% C.4.74% D.6.78%

33.2010年,京津冀经济圈的哪一经济指标值居三大经济圈之首?

- A.实际利用外资占全国比重 B.进出口贸易额占全国比重
C.固定资产投资增长速度 D.第一产业产值增长速度

34.2010年地方财政收入占地区生产总值比重低于全国平均水平的经济圈是:

- A.长三角 B.珠三角
C.京津冀 D.以上皆非

35.能够从上述资料中推出的是:

- A.固定资产投资越高的经济圈,实际利用外资额越低
B.社会消费品零售额越高的经济圈,进出口贸易额越高
C.地区生产总值越高的经济圈,其地区生产总值增长速度越低
D.产业结构越向第三产业倾斜的经济圈,进出口贸易额增长越迅速

八、根据以下材料,回答36~40题。

随着中国老龄化进程加快,养老问题困扰不少普通家庭。2012年全国老龄工作会议:截至11年底,全国60岁以上老年人1.85亿,占总人口的13.7%,调查显示,居民对目前的养老保障现状有深切感受,37.8%的受访者表示对现状满意,39.9%的受访者认为一般。

当被问及“您对自己老年生活方式的规划”时,55.7%的受访者选择自己或与爱人独住,26.9%的受访者选择和儿女呆在一起,15.3%的受访者选择去敬老院。在养老方式上67.1%的受访者愿意由自己做主。当被问“您认为老年人的养老应由谁主要承担”时,35.5%的受访者选择政府,25.4%的受访者选择子女,22.5%的受访者选择自己,还有9%和7.7%分别选择所在单位和非政府组织。

调查也发现,49.8%的受访者同意“养儿防老”的养老观念,47.6%的受访者明确表示不同意,还有2.6%的受访者表示非常不同意,二者合计50.2%。本次调查数据显示,29%的受访者认为身体不好活动不便是老年生活中最大困难,22%的受访者认为生活没

人照料, 20.4%的受访者最担心经济困难, 17.2%的受访者最担心孤独。当被问“老年人最需要的服务项目”时, 16.4%的受访者选择紧急救助, 15.5%的受访者选择家庭护理, 13.7%的受访者选择保健康复, 选择陪护服务和文化娱乐服务的也在 12%以上, 还有 8%以上选择社交服务和心理健康服务。

调查还发现, 随年龄增长, 选择社会养老保险积累养老金的比例呈递增趋势。调查中, 18-29岁和 30-39岁的受访者选择社会养老保险积累养老金的分别是 71.4%和 85%, 而 40-49岁、50-59岁和 60岁以上的受访者分别是 94.5%、95.6%和 94.4%。另居家养老发展空间很大, 在调查中 17.3%的受访者选择家政服务, 15.3%的受访者选择子女照料, 10.2%的受访者选择送餐配餐, 选择家庭病床、邻里帮助和代购代买的比例也都接近 10%。

36.对目前养老现状表示满意的比例:

A.77.7% B.39.9% C.37.8% D.22.3%

37.按选择社会养老保险比例高低排序, 排第一位的年龄段:

A.30-39岁 B.40-49岁 C.50-59岁 D.60岁以上

38.在老年人养老主要由谁承担问题上, 选择政府、子女和自己承担的比例累计为:

A.95.5% B.83.4% C.92.4% D.35.5%

39.根据资料, 下列错误的是:

A.材料列出的居家养老方式, 家政服务的比例最高

B.16.7%的受访者选择由所在单位和非政府组织承担老年人的养老问题

C.到 2011 年底, 全国 60 岁以上的老年人占总人口的 13.7%

D.受访者选择社会养老保险积累养老金的比例与其年龄总体上呈反向变动趋势

40.“养儿防老”是传统观念, 本项调查, 不赞同和非常不赞同的比例累计:

A.50.2% B.49.8% C.55.7% D.47.6%

九、根据以下材料，回答 41~45 题。

表 浙江省农民人均纯收入（单位：元）

年份	1996	1997	1998	1999	2000	2001	2002	2003
收入	3463	3684	3814	3948	4254	4582	4940	5431

据对全省 2700 户农村居民家庭抽样调查：2003 年全省农村居民人均纯收入 5431 元，比上年增加 491 元，增长 9.9%。人均纯收入高于全省平均水平的家庭占 41.2%。2003 年全省农村居民收入增长的主要特点有：1.名义收入增长速度为 1997 年以来最快的一年。2003 年名义收入增长速度达到 9.9%，是过去七年来增长速度最快的一年。2.收入增加额的 81.5%来自非农产业，收入的非农化倾向进一步强化。2003 年全省农村居民人均纯收入中，工资性收入 2613 元，比上年增加 176 元，增长 7.2%；家庭经营的二、三产业收入人均 1307 元，增加 224 元，增长 20.7%。工资性收入和家庭经营二、三产业收入对全部纯收入增长的贡献率达到 81.5%，比上年提高 2.1 个百分点。家庭经营的农林牧渔业等第一产业收入人均 1029 元，增加 36 元，增长 3.7%；非经营性收入人均 482 元，增加 55 元，增长 16.6%。3.多数农户收入提高，但收入差距继续扩大。2003 年多数农村居民家庭收入有不同程度的提高，低收入家庭比重下降，高收入家庭比重上升，人口的众数由低收入组向高收入组移动。其中人均纯收入 1500 元以下的低收入家庭比重由上年的 6.4%下降到 5.7%，人均纯收入 1500~4000 元的次低收入家庭比重由 38.3%下降到 33.0%，人均纯收入 4000~7000 元的中等收入家庭比重由 35.1%上升到 35.4%，人均纯收入 7000~10000 元次高收入家庭比重由 13.1%上升到 15.9%，人均纯收入万元以上的高收入家庭比重由 7.0%上升到 10.0%。高收入家庭的收入增长幅度高于低收入家庭。调查中，收入最高的 20%家庭人均纯收入为 11693 元，收入最低的 20%家庭人均纯收入仅为 1704 元，贫富“两极”收入之比为 6.86：1，比上年的 6.16：1 明显扩大。

41. 2002 年浙江省农村人均纯收入为（ ）的收入家庭的比重最大。

- A.1500 元以下
B.1500~4000 元
C.4000~7000 元
D.7000~10000 元

42. 1997 年浙江省农民人均纯收入约比上年增长 ()
- A.3.8% B.4.2% C.5.7% D.6.4%
43. 2002 年全省农村居民人均纯收入中, 工资性收入和家庭经营的第二、三产业收入之和为 ()
- A.4084 元 B.3920 元 C.3520 元 D.3384 元
44. 与 2002 年相比, 2003 年全省农村居民人均纯收入中, 增长幅度最小的是 ()
- A.第一产业收入 B.二、三产业收入
- C.工资性收入 D.非经营性收入
45. 下列说法正确的是:
- A.从 1997 年至 2003 年, 全省农村居民人均纯收入的同比增长额与增长幅度都呈逐年上升状态
- B.在这次抽样调查的样本中, 人均纯收入在 1500~4000 元的次低收入家庭不足 900 户
- C.2002 年, 全省农村居民的第一产业收入高于二、三产业收入
- D.在这次调查的家庭中, 收入前 20 位的家庭人均纯收入为 11693 元

十、根据以下材料, 回答 46~50 题。

表 2000 年至 2003 年浙江省进出口指标情况表 (单位: 亿美元)

指标	出 口				进 口			
	2000 年	2001 年	2002 年	2003 年	2000 年	2001 年	2002 年	2003 年
总 值	194.43	229.77	294.18	416.03	83.90	98.20	125.45	198.20
其中:机电产品	59.63	22.59	96.84	143.23	28.09	39.06	50.63	79.82
总值中								
国有企业	106.93	"x"	112.90	133.03	35.04	35.73	45.20	62.92
"三资"企业	53.48	71.00	92.00	130.50	40.41	47.72	53.83	88.82
集体企业	27.20	39.25	51.89	72.63	6.91	12.04	16.43	25.31
私营企业	6.47	15.50	36.75	79.36	1.05	2.25	9.07	21.08
其他	0.36	0.43	0.57	0.51	0.48	0.48	0.92	0.07
总值中								
工业制产品	174.87	210.45	273.57	391.53	63.59	79.97	102.93	166.63
初级产品	19.55	19.32	20.54	24.50	20.31	18.25	22.52	31.57

46. 2003 年浙江省的进出口总额为:

- A.614.23 亿美元
B.278.33 亿美元
C.416.03 亿美元
D.559.26 亿美元

47.机电产品的进口额占当年进口总额比重最小的是:

- A.2000 年 B.2001 年 C.2002 年 D.2003 年

48.上表中“x”的值约为:

- A.101.9 B.103.6 C.108.4 D.110.5

49. 2000 年至 2003 年,集体企业的进口总额约为私营企业进口总额的:

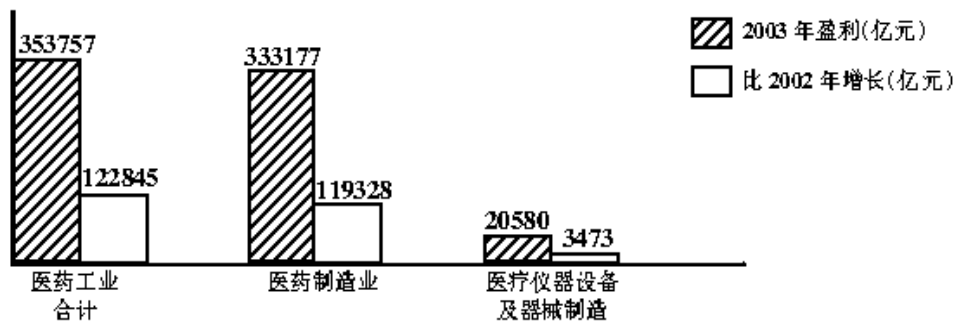
- A.2.2 倍 B.2.1 倍 C.1.9 倍 D.1.8 倍

50.下列说法中正确的是:

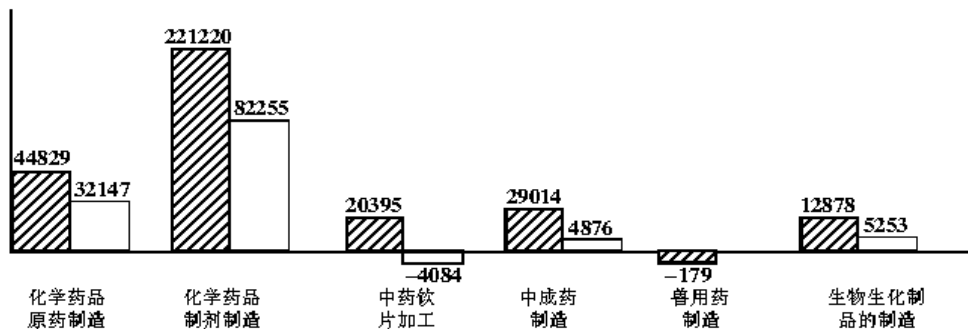
- I.与上年相比,2001 年至 2003 年浙江省进口总值的增速均实现两位数增长
- II.2000 年至 2003 年四年中,初级产品的进口额均大于出口额
- III.浙江省四年(2000-2003 年)的出口总额比进口总额的两倍还要多
- IV.2003 年,私营企业的进出口总额不足全省进出口总额的 10%

- A. I 和 II B. I 和 III C. II 和 III D. III 和 IV

十一、根据以下材料,回答 51~55 题。



医药工业合计包括:医药制造业和医疗仪器设备及器械制造



医药制造业所包括的项目

51. 2003年,医药工业总的盈利比2002年增长()
- A.34.7% B.55.8% C.53.2% D.20.3%
- 52.与2002年相比,2003年医药制造业中哪个行业的盈利增长得最快的是()
- A.化学药品制剂制造 B.生物、生化制品的制造
- C.化学药品原料药制造 D.医疗仪器设备及器械制造
- 53.2003年,中成药的制造业盈利占医药制造业盈利的比重比2002年()
- A.上升了20.2个百分点 B.下降了20.2个百分点
- C.上升了2.6个百分点 D.下降了2.6个百分点
- 54.以下说法不正确的是()
- A.医药制造业的增速明显高于药械制造业
- B.医药制造业中,生物、生化制药和化学药品等行业发展领先于中药行业和兽用药品行业
- C.化学制药行业是该省医药工业的支柱产业
- D.中药饮片加工行业已经亏损
- 55.去年下半年以来,石油化工产品和能源价格迅猛上涨,推测可能对下列哪个行业的盈利造成较大影响()
- A.医疗仪器设备及器械制造 B.中成药制造
- C.中药饮片加工 D.化学药品原料药制造

十二、根据以下材料，回答 56~60 题。

2011 年来华留学生（不含港、澳、台地区，下同）总人数比上年增长 27521 名，同比增幅为 10.38%。其中自费生总人数 266924 名，比上年增长 24224 名，其他均为中国政府奖学金生，共计 25687 名。

表 2011 年来华留学生人数超过 5000 名的国家及其留学生人数

国家	人数	国家	人数
蒙古	7112	巴基斯坦	8516
韩国	62442	哈萨克斯坦	8287
日本	17961	俄罗斯	13340
越南	13549	法国	7592
泰国	14145	德国	5451
印度尼西亚	10957	美国	23292
印度	9370	—	—

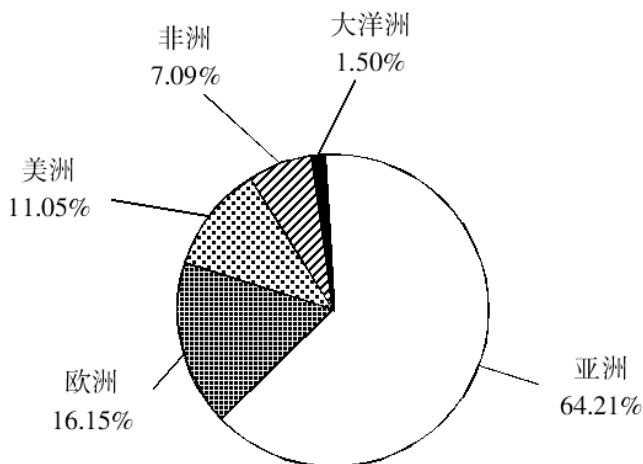


图 2011 年来自各大洲在华留学生人数占全年在华留学生总数的比重

56. 2011 年来华的留学生中，中国政府奖学金生比上年增加了多少人？

- A.2857 B.3297 C.3737 D.4177

57. 2011 年来自亚洲的留学生人数约为：

- A.152340 B.164320 C.187900 D.202010

58.按国家统计, 2011 年在华留学生人数从多到少排序正确的是:

- A.美国—俄罗斯—印度
- B.俄罗斯—泰国—法国
- C.印度—巴基斯坦—印度尼西亚
- D.越南—日本—俄罗斯

59.若 2011 年来华韩国留学生均为自费生, 则其他国家留学中, 中国政府奖学金生的比重约为:

- A.9%
- B.11%
- C.15%
- D.20%

60.关于 2011 年来华留学生状况, 下列说法正确的是:

- A.德国是来华留学生人数最多的欧洲国家
- B.来华留学生人数排名前五的都是亚洲国家
- C.越南来华留学生人数超过非洲各国的总和
- D.美洲来华留学生中, 美国来华留学生人数占一半以上

十三、根据以下材料, 回答 61~65 题。

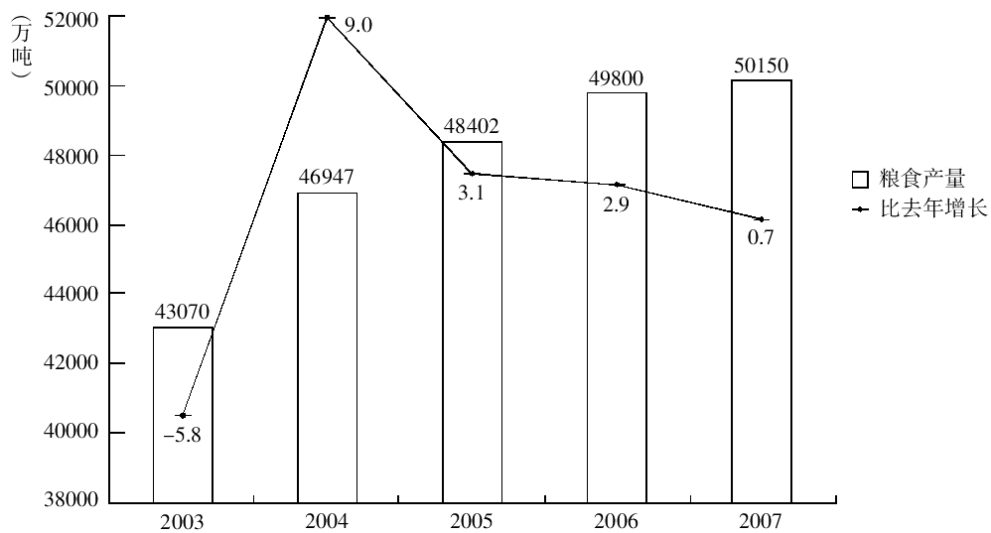


图 某地区 2003~2007 年粮食产量情况

61.从图看出, 粮食产量持续增长年数是:

- A.1 年
- B.2 年
- C.3 年
- D.4 年

62.粮食产量增长最大的年份:

- A.2004 年
- B.2005 年
- C.2006 年
- D.2007 年

63.2007 年粮食产量比 2003 年增长了约:

- A.9.7% B.16.4% C.15.7% D.9.9%

64.假定 2008 年粮食产量同比增长速度 1%，则其反映绝对量增长:

- A.501.5 万吨 B.498.0 万吨 C.350.0 万吨 D.365.0 万吨

65.2003~2007 年五年粮食年均产量:

- A.47673.8 万吨 B.48402.0 万吨
C.4932.5 万吨 D.4698.6 万吨

十四、根据以下材料，回答 66~70 题。

表 2012 年 1-2 季度某省住宿业和餐饮业经营情况

(单位: 万元)

指标名称	住宿业				餐饮业			
	本年		上年同期		本年		上年同期	
	2 季度	1-2 季度	2 季度	1-2 季度	2 季度	1-2 季度	2 季度	1-2 季度
营业额总计	1194810	2292568	1016762	1986220	2325352	4494806	1929956	3745132
(一)限额以上营业额	399427	752498	345018	654293	561887	1025928	447127	825561
1 客房收入	198314	366255	170629	316318	37682	72337	31657	60544
2 餐费收入	165598	319613	145090	281918	500470	910770	31657	728020
3 商品销售额	16173	28627	12621	23140	18210	29939	15990	25055
4 其他收入	19342	38003	16678	32917	5525	12882	4915	11942
(二)限额以下营业额	795383	1540070	671743	1331927	1763465	3468878	1482829	2919571
其中:餐费收入和商品销售额	252053	500757	228956	452612	1455945	2854722	1279652	2529677

注: 客房收入指住宿和餐饮业法人单位产业活动单位在经营活动中因提供住宿服务取得的收入。

66. 2012 年 2 季度, 住宿业和餐饮业限额以上营业额中的客房总收入占住宿餐饮业收入总额的比重为 ()

- A.1.6% B.6.7% C.10.5% D.16.6%

67. 与上季度相比, 2012 年 2 季度住宿业收入的限额以上营业额中增加额最大的是 ()

- A.客房收入 B.餐费收入 C.商品销售额 D.其他收入

68. 2012 年 1 季度，餐饮业中限额以下营业额同比增长（ ）
- A.12.5% B.14.2% C.18.7% D.21.3%
- 69.以下各项中，住宿业与餐饮业收入差距最小的是（ ）
- A.2012 年 1-2 季度限额以上客房收入
B.2012 年 1-2 季度限额以上餐费收入
C.2012 年 2 季度限额以上商品销售额
D.2012 年 2 季度限额以下营业额的餐费收入和商品销售额
- 70.下列说法不正确的是（ ）
- A.2012 年 2、1-2 季度，住宿业和餐饮业限额以下营业额占营业总额的比重均超过 50%
- B.2012 年 2 季度，住宿业限额以下营业额中餐费收入和商品销售额的同比增长量大于餐饮业的
- C.2012 年 1-2 季度，限额以上营业额中餐饮业餐费收入的同比增长率超过 25%
- D.2012 年 1-2 季度，住宿业和餐饮业限额以上营业额比限额以下营业额低 3230522 万元

十五、根据以下材料，回答 71~75 题。

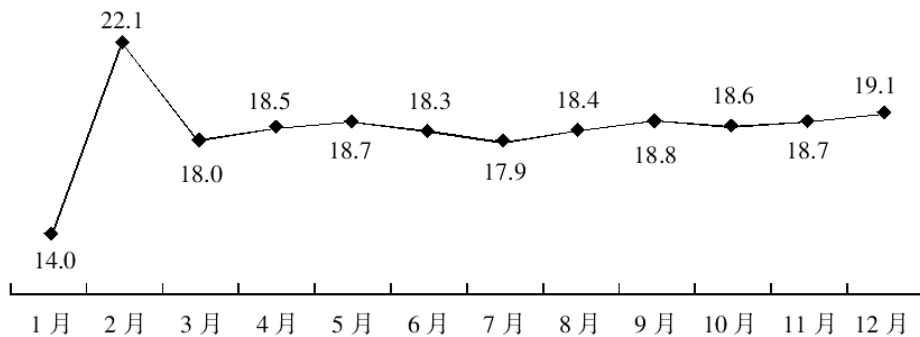


图 1 2010 年全国社会消费品零售总额月度同比增长速度 (%)

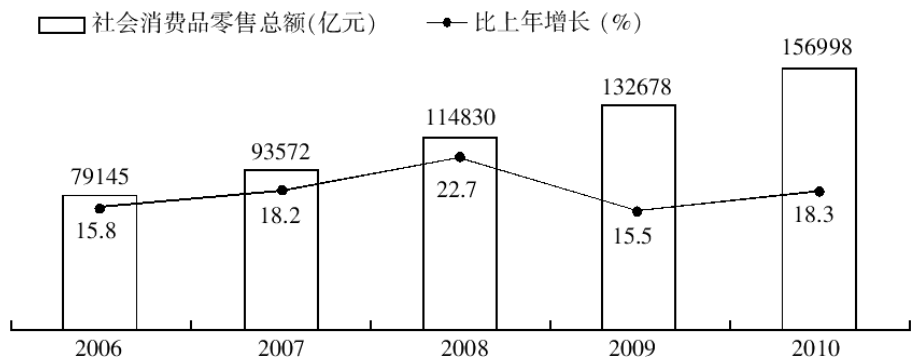


图 2 2006-2010 年全国社会消费品零售总额及其增长速度

71. 2006-2010 年全国社会消费品零售总额增长量和增长率最高的年份分别是()
- A. 2008、2008 B. 2010、2010
C. 2010、2008 D. 2008、2010
72. 2010 年全国社会消费品零售总额月度同比增长速度最高与最低相差()
- A. 3.2 个百分点 B. 4.9 个百分点
C. 6.5 个百分点 D. 8.1 个百分点
73. 记 2009 年 2 月全国社会消费品零售总额与上月相比的增长率为 a , 2010 年 2 月全国社会消费品零售总额比上月增长()
- A. $0.96a$ B. $1.07a$ C. $1.36a$ D. $1.58a$
74. 2010 年全国社会消费品零售总额比 2005 年增加了()
- A. 88652 亿元 B. 86219 亿元
C. 81368 亿元 D. 77853 亿元
75. 下列说法正确的有()
- (1) “十一五”时期全国社会消费品零售总额的年平均增长速度高于 15%
(2) 2010 年全国社会消费品零售总额的月同比增长速度大多高于 18%
(3) “十一五”时期全国社会消费品零售总额的年增长速度在 2009 年时最低
- A. 0 个 B. 1 个 C. 2 个 D. 3 个

十六、根据以下材料，回答 76~80 题。

2010 年一季度，我国水产品贸易进出口总量 158.7 万吨，进出口总额 40.9 亿美元，同比分别增长 14.2% 和 29.0%。其中，出口量 67.1 万吨，出口额 26.5 亿美元，同比分别增长 11.7% 和 24.9%；进口量 91.6 万吨，进口额 14.4 亿美元，同比分别增长 16.0% 和 37.5%。

表 1 主要进口来源地（进口额前 7 位）

	进口量 (万吨)	同比增长率 (%)	进口额 (亿美元)	同比增长率 (%)
俄罗斯	33.20	57.10	4.63	52.30
秘鲁	15.16	-15.63	2.08	31.29
东盟	7.63	18.40	1.20	32.40
美国	6.88	59.30	1.13	42.00
智利	5.24	-40.10	1.11	5.70
挪威	3.88	54.87	0.85	67.31
日本	4.09	80.30	0.65	87.40

表 2 主要出口目的地（出口额前 7 位）

	出口量 (万吨)	同比增长率 (%)	出口额 (亿美元)	同比增长率 (%)
日本	13.24	8.27	6.45	16.95
美国	10.72	3.05	4.66	8.76
欧盟	10.68	11.50	3.71	12.89
韩国	10.30	16.21	3.04	48.68
中国香港	3.42	9.98	2.08	23.78
东盟	6.83	-14.60	1.73	19.43
中国台湾	2.10	52.30	1.28	124.90

76. 2010 年一季度，我国水产品出口额比上年同期约增长了多少亿美元？

- A.5.3 B.7.0 C.9.2 D.21.2

77. 2010 年一季度，我国水产品主要进口来源地，按进口量从小到大排序正确的是：

- A.日本—挪威—美国 B.秘鲁—东盟—日本
C.挪威—美国—东盟 D.东盟—智利—俄罗斯

78. 2010 年一季度，我国与美国水产品进出口贸易额占我国水产品进出口贸易总额的比重约为：

- A.7.8% B.12.7% C.14.2% D.17.6%

79. 2010 年一季度，我国对以下哪个国家或地区出口水产品的平均单价最高？

- A.日本 B.美国 C.欧盟 D.韩国

80.能够从上述资料中推出的是：

- A.2010 年一季度，我国是俄罗斯最大的水产品出口目的地
B.2009 年一季度，日本比美国进口了更多的我国水产品
C.2010 年一季度，我国从秘鲁进口水产品的平均单价比上年同期有所下降
D.2009 年一季度，我国对东盟水产品进出口贸易为逆差